

Լ. Ս. ԱԹԱՆԱՍՅԱՆ, Վ. Ֆ. ԲՈՒՏՈՒԶՈՎ,
Ս. Բ. ԿԱԴՈՄՅԵՎ, Է. Ն. ՊՈԶՆԱԿ, Ի. Ի. ՅՈՒԴԻՆԱ

ԵՐԿՐԱԶԱՓՈՒԹՅՈՒՆ



Դասագիրք միջին
դպրոցի 8–րդ դասարանի համար

Հաստատված է ՀՀ կրթության և գիտության
նախարարության կողմից՝ որպես դասագիրք
հանրակրթական դպրոցի համար

Թարգմանված է ռուսերեն 15–րդ հրատա-
րակությունից

Переводное издание выпущено в свет по
лицензионному договору N 3/19–11 между
ОАО “Издательство “Просвещение””
и ООО “Зангак–97”

Թարգմանությունը լույս է տեսել
«Իզդատելստվո «Պրոսվեշչենիե»» ԲԲԸ և
«Զանգակ–97» ՍՊԸ միջև կնքված N 3/19–11
արտոնագրային պայմանագրի համաձայն

Москва
“Просвещение” 2005

Երևան
«Զանգակ» 2012

ՀՏԴ 373.167.1:514 (075)
ՊՄԴ 22.151 ց 72
Ե 894

Դասագիրքը համապատասխանեցված է առարկայական ծրագրին

Թարգմանությունը, փոխադրումը և լրացումը՝ Ս. Է. Հակոբյանի

В переводном издании § 5 в главе V, § 6 и § 8 в главе VI, § 3 в главе VII
добавлены переводчиком и за содержание этих параграфов
авторский коллектив не несет ответственности.

Թարգմանված հրատարակության գլուխ V–ում § 5–ը,
գլուխ VI–ում § 6–ը և § 8–ը, գլուխ VII–ում § 3–ը ավելացվել են
թարգմանչի կողմից, որոնց բովանդակության համար հեղինակային
խումբը պատասխանատվություն չի կրում:

Երկրաչափություն – 8:
Ե 894 Դասագիրք հանրակրթ. դպր. 8–րդ դաս. համար/Լ. Ս. Աթանասյան,
Վ. Ֆ. Բուտուզով, Ս. Բ. Կադոմցև և ուրիշներ :/– Եր.: «Զանգակ»,
2012.— 144 էջ:

Л. С. Атанасян, В. Ф. Бутузов,
С. Б. Кадомцев, Э. Г. Позняк, И. И. Юдина

ГЕОМЕТРИЯ

Учебник для 8–го класса
(на армянском языке)
Ереван “Зангак” 2012

Экземпляры переводного издания подлежат распространению только в
пределах территории действия лицензионного договора N3/19–11.
Данное издание подлежит распространению только на территории Армянской
Республики и среди армянских диаспор на территории других стран.

Թարգմանության լույս տեսած օրինակները ենթակա են տարածման միայն N3/19–11
արտոնագրային պայմանագրի գործողության տարածքում:
Սույն հրատարակությունը ենթակա է տարածման միայն Հայաստանի Հանրա-
պետության տարածքում և հայկական սփյուռքում:

ISBN 978–993968–025–5

© Издательство «Просвещение», 1990
© «Զանգակ–97» ՍՊԸ, թարգման., 2012

Все права защищены
Բոլոր իրավունքները պաշտպանված են

ԳԼՈՒԽ V

Քառանկյուններ

§1

ԲԱԶՄԱՆԿՅՈՒՆՆԵՐ

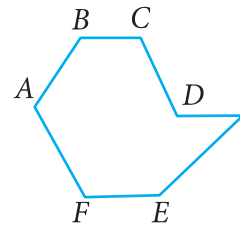
1. Բազմանկյուն

Դիտարկենք մի պատկեր, որը կազմված է AB , BC , CD , ..., EF , FA հատվածներից այնպես, որ $կից$ հատվածները, այսինքն՝ AB և BC , BC և CD , ..., FA և AB հատվածները, չեն գտնվում մի ուղղի վրա, իսկ ոչ $կից$ հատվածները ընդհանուր կետ չունեն: Այդպիսի պատկերը կոչվում է *բազմանկյուն* (նկ. 1): $A, B, C, \dots E, F$ կետերը կոչվում են բազմանկյան *գագաթներ*, իսկ AB, BC, CD, \dots, EF հատվածները՝ *կողմեր*: Բոլոր կողմերի երկարությունների գումարը կոչվում է բազմանկյան *սրբաագիծ*:

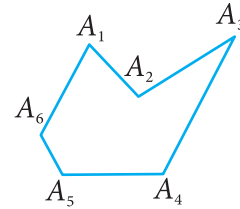
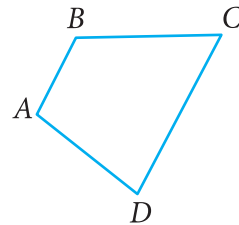
n գագաթ ունեցող բազմանկյունն անվանում են n -անկյուն: Այն ունի n կողմ: Բազմանկյան օրինակ է եռանկյունը: Նկար 2-ում պատկերված են $ABCD$ քառանկյունը և $A_1A_2A_3A_4A_5A_6$ վեցանկյունը: Նկար 3-ում պատկերված պատկերը բազմանկյուն չէ, քանի որ C_1C_5 և C_2C_3 (ինչպես նաև C_3C_4 և C_1C_5) ոչ $կից$ հատվածներն ունեն ընդհանուր կետ:

Բազմանկյան մի կողմին պատկանող երկու գագաթները կոչվում են *հարևան գագաթներ*: Երկու ոչ *հարևան* գագաթները միացնող հատվածը կոչվում է բազմանկյան *անկյունագիծ*:

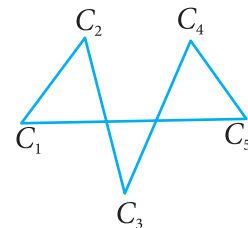
Յուրաքանչյուր բազմանկյուն հարթությունը տրոհում է երկու մասի, որոնցից մեկը կոչվում է բազմանկյան *ներքին տիրույթ*, իսկ մյուսը՝ *արտաքին տիրույթ*: Նկար 4-ում բազմանկյունների ներքին տիրույթները ստվերագծված են: Բազմանկյան և նրա ներքին տիրույթի միավորում հանդիսացող պատկերը ևս անվանվում է բազմանկյուն:



Նկ. 1



Նկ. 2

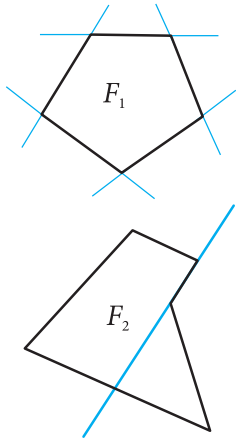


Նկ. 3

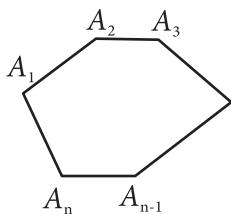


Նկ. 4

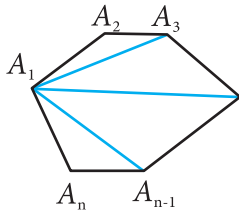
2. Ուռուցիկ բազմանկյուն



Նկ. 5

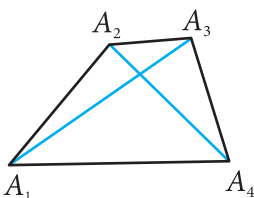


ա)



բ)

Նկ. 6



ա)

Նկ. 7

Բազմանկյունը կոչվում է ուռուցիկ, եթե այն ընկած է իր ցանկացած երկու հարևան գագաթներով անցնող ուղղի մի կողմում: Նկար 5-ում պատկերված F_1 բազմանկյունը ուռուցիկ է, իսկ F_2 բազմանկյունը ուռուցիկ չէ:

Դիտենք 6(ա) նկարում պատկերված ուռուցիկ n -անկյունը: Անկյուններ $A_n A_1 A_2$ -ը, $A_1 A_2 A_3$ -ը, ..., $A_{n-1} A_n A_1$ -ը կոչվում են այդ բազմանկյան *անկյուններ*: Գտնենք դրանց գումարը: Դրա համար A_1 գագաթը անկյունագծերով միացնենք մյուս գագաթներին: Արդյունքում ստացվում են $n - 2$ հատ եռանկյուններ (նկ. 6(բ)): Այդ եռանկյունների անկյունների գումարը հավասար է n -անկյուն բազմանկյան անկյունների գումարին: Գիտենք, որ յուրաքանչյուր եռանկյան անկյունների գումարը 180° է, ուստի՝ $A_1 A_2 A_3 \dots A_n$ բազմանկյան անկյունների գումարը, այն է՝ $n - 2$ եռանկյունների անկյունների գումարը, հավասար է $(n - 2) \cdot 180^\circ$:

Այսպիսով՝ *ուռուցիկ n -անկյան անկյունների գումարը* $(n - 2) \cdot 180^\circ$ է:

Ուռուցիկ բազմանկյունը, որի բոլոր կողմերը հավասար են, և բոլոր անկյունները հավասար են, կոչվում է *կանոնավոր բազմանկյուն*: Կանոնավոր բազմանկյան օրինակ է հավասարակողմ եռանկյունը:

3. Քառանկյուն

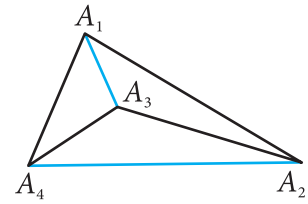
Յուրաքանչյուր քառանկյուն ունի չորս գագաթ, չորս անկյուն, չորս կողմ և երկու անկյունագիծ (նկ. 7): Քառանկյան երկու ոչ կից կողմերը կոչվում են *հանդիպակաց*: Հանդիպակաց են կոչվում նաև քառանկյան երկու ոչ հարևան գագաթները (նմանապես անկյունները):

Քառանկյունները լինում են ուռուցիկ և ոչ ուռուցիկ: 7(ա) նկարում պատկերվածը ուռուցիկ քառանկյուն է, իսկ 7(բ) նկարում պատկերվածը՝ ոչ ուռուցիկ:

Ուռուցիկ քառանկյան յուրաքանչյուր անկյունագիծ քառանկյունը տրոհում է երկու եռանկյան: Ոչ ուռուցիկ քառանկ-

յան անկյունագծերից մեկը ևս քառանկյունը տրոհում է երկու եռանկյան (տե՛ս A_1A_3 անկյունագիծը նկ. 7(բ)):

Քանի որ ուռուցիկ n -անկյան անկյունների գումարը որոշվում է $(n - 2) \cdot 180^\circ$ արտահայտությամբ, ուրեմն՝ ուռուցիկ քառանկյան անկյունների գումարը 360° է:



բ)

Նկ. 7

Հարցեր և խնդիրներ

1. Գծագրեք ուռուցիկ հնգանկյուն և վեցանկյուն: Բազմանկյուններից յուրաքանչյուրում որևէ գագաթից տարեք բոլոր անկյունագծերը: Տարված անկյունագծերով քանի՞ եռանկյան է տրոհվում բազմանկյուններից յուրաքանչյուրը:
2. Գտեք անկյունների գումարը. ա) ուռուցիկ հնգանկյան, բ) ուռուցիկ վեցանկյան, գ) ուռուցիկ տասնանկյան:
3. Գտեք ուռուցիկ քառանկյան անկյունները, եթե դրանք իրար հավասար են:
4. Տրված է հավասար անկյուններով հնգանկյուն: Գտեք այդ անկյունները:
5. Քանի՞ կողմ ունի ուռուցիկ բազմանկյունը, եթե նրա անկյունների գումարը 540° է:
6. Գտեք ուռուցիկ քառանկյան անկյունները, եթե նրա երեք անկյունները իրար հավասար են, իսկ չորրորդ անկյունը դրանցից յուրաքանչյուրից փոքր է 40° -ով:
7. Գտեք ուռուցիկ քառանկյան անկյունները, եթե դրանցից մեկը մյուսներից մեծ է համապատասխանաբար 10° -ով, 20° -ով և 30° -ով:
8. Գրեք ուռուցիկ քառանկյան անկյունները, եթե դրանք համեմատական են 1, 2, 4, 5 թվերին:
9. Գտեք ուռուցիկ հնգանկյան անկյունները, եթե դրանք համեմատական են 2, 3, 4, 5, 6, թվերին:
10. Քանի՞ կողմ ունի ուռուցիկ բազմանկյունը, որի յուրաքանչյուր անկյունը հավասար է՝ ա) 90° , բ) 60° , գ) 120° , դ) 108° :
11. Գտեք քառանկյան կողմերը, եթե նրա պարագիծը 8 սմ է, իսկ կողմերից մեկը մյուս կողմերից մեծ է համապատասխանաբար 3 մմ-ով, 4 մմ-ով և 5 մմ-ով:
12. Գտեք քառանկյան կողմերը, եթե նրա պարագիծը

66 սմ է, առաջին կողմը երկրորդից մեծ է 8 սմ-ով և նույնքանով փոքր է երրորդից, իսկ չորրորդը երեք անգամ մեծ է երկրորդից:

13. Գտեք $ABCD$ ուռուցիկ քառանկյան A , B և C անկյունները, եթե $\angle A = \angle B = \angle C$ և $\angle D = 135^\circ$:

14. $ABCDE$ ուռուցիկ հնգանկյան B գագաթով տարված անկյունագծերը հավասար են: Հայտնի է, որ $\angle ABE = \angle CBD$ և $\angle BEA = \angle BDC$: Ապացուցեք, որ $ABDE$ և $BEDC$ քառանկյունների պարագծերը հավասար են:

§2

ԶՈՒԳԱՅԵՌԱԳԻԾ

4. Զուգահեռագիծ

Սահմանում

Զուգահեռագիծ կոչվում է այն քառանկյունը, որի հանդիպակաց կողմերը զույգ առ զույգ զուգահեռ են:

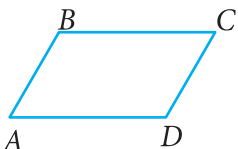
Նկար 8-ում պատկերված է $ABCD$ զուգահեռագիծը. $AB \parallel CD$, $AD \parallel BC$: Զուգահեռագիծը ուռուցիկ քառանկյուն է (տե՛ս խնդիր 28-ը):

Ուսումնասիրենք զուգահեռագծի մի քանի հատկություն:

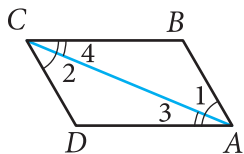
1⁰. Զուգահեռագծի հանդիպակաց կողմերը հավասար են, և հանդիպակաց անկյունները հավասար են:

Դիտարկենք $ABCD$ զուգահեռագիծը (նկ. 9): AC անկյունագծով այն տրոհվում է երկու՝ ABC և ADC եռանկյունների: Այդ եռանկյունների մեջ AC կողմը ընդհանուր է, $\angle 1 = \angle 2$ և $\angle 3 = \angle 4$ ՝ որպես խաչադիր անկյուններ, որոնք առաջանում են համապատասխանաբար AB և CD , BC և AD զուգահեռ ուղիղները AC հատողով հատելիս: Ուրեմն՝ ABC և ADC եռանկյունները հավասար են: Ուստի՝ $AB = CD$, $AD = BC$, և $\angle B = \angle D$: Այնուհետև, օգտվելով 1 և 2, 3 և 4 անկյունների հավասարությունից, ստանում ենք. $\angle A = \angle 1 + \angle 3 = \angle 2 + \angle 4 = \angle C$:

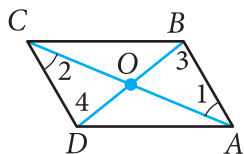
2⁰. Զուգահեռագծի անկյունագծերը հատման կետով կիսվում են:



Նկ. 8



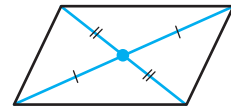
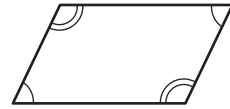
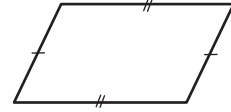
Նկ. 9



Նկ. 10

Դիցուք՝ $ABCD$ զուգահեռագծի AC և BD անկյունագծերի հատման կետը O -ն է (նկ. 10): AOB և COD եռանկյունները հավասար են՝ ըստ կողմի և նրան առընթեր անկյունների ($AB = CD$) որպես զուգահեռագծի հանդիպակաց կողմեր, $\angle 1 = \angle 2$ և $\angle 3 = \angle 4$, որպես խաչադիր անկյուններ, որոնք առաջանում են AB և CD զուգահեռ ուղիղները համապատասխանաբար AC և BD հատողներով հատելիս): Ուրեմն՝ $AO = OC$ և $OB = OD$, որն էլ պահանջվում էր ապացուցել:

Զուգահեռագծի բոլոր քննարկված հատկությունները լուսաբանված են նկար 11-ում:



Զուգահեռագծի
հատկությունները

Նկ. 11

5. Զուգահեռագծի հայտանիշները

Դիտարկենք զուգահեռագծի երեք հայտանիշ:

1⁰. Եթե քառանկյան երկու կողմերը հավասար են և զուգահեռ, ապա այդ քառանկյունը զուգահեռագիծ է:

Դիցուք՝ $ABCD$ քառանկյան AB և CD կողմերը զուգահեռ են և $AB = CD$ (նկ. 9): Տանենք AC անկյունագիծը, որը զուգահեռագիծը տրոհում է երկու՝ ABC և CDA եռանկյունների: Այդ եռանկյունները հավասար են՝ ըստ երկու կողմի և նրանցով կազմված անկյան (AC -ն ընդհանուր կողմ է, ըստ պայմանի՝ $AB = CD$, որպես խաչադիր անկյուններ՝ $\angle 1 = \angle 2$ որոնք առաջանում են AB և CD զուգահեռ ուղիղները AC հատողով հատելիս): Հետևաբար՝ $\angle 3 = \angle 4$: Բայց անկյուններ 3-ը և 4-ը խաչադիր են, որոնք առաջանում են AD և BC ուղիղները AC հատողով հատելիս: Դրանից հետևում է, որ $AD \parallel BC$: Այսպիսով՝ $ABCD$ քառանկյան հանդիպակաց կողմերը զույգ առ զույգ զուգահեռ են: Ըստ սահմանման՝ այդ քառանկյունը՝ $ABCD$ -ն, զուգահեռագիծ է:

2⁰. Եթե քառանկյան հանդիպակաց կողմերը զույգ առ զույգ հավասար են, ապա այդ քառանկյունը զուգահեռագիծ է:

Տվյալ $ABCD$ քառանկյան մեջ տանենք AC անկյունագիծը: Քառանկյունը տրոհվում է երկու՝ ABC և CDA եռանկյունների (տես նկ. 9): Այդ եռանկյունները, ըստ երեք կողմի, հավասար են (AC -ն ընդհանուր կողմ է, իսկ ըստ

պայմանի՝ $AB = CD$ և $BC = DA$): Ուրեմն՝ $\angle 1 = \angle 2$: Այստեղից հետևում է, որ $AB \parallel CD$: Ստացվեց, որ $AB = CD$ և $AB \parallel CD$, ուստի ըստ զուգահեռագծի 1-ին հայտանիշի՝ $ABCD$ քառանկյունը զուգահեռագիծ է:

3⁰. եթե քառանկյան անկյունագծերը հատվում և հատման կետով կիսվում են, ապա այդ քառանկյունը զուգահեռագիծ է:

Դիտարկենք $ABCD$ քառանկյունը, որում AC և BD անկյունագծերը O կետում հատվում և այդ կետով կիսվում են (*տես նկ. 10*): AOB և COD եռանկյունները հավասար են՝ ըստ եռանկյունների հավասարության առաջին հայտանիշի (ըստ պայմանի՝ $AO = OC$, $BO = OD$, որպես հակադիր անկյուններ՝ $\angle AOB = \angle COD$): Ուստի՝ $AB = CD$ և $\angle 1 = \angle 2$:

Անկյուններ 1-ի և 2-ի հավասարությունից հետևում է, որ $AB \parallel CD$: Այսպիսով՝ $ABCD$ քառանկյան AB և CD հանդիպակաց կողմերը հավասար են և զուգահեռ: Ուրեմն, ըստ առաջին հայտանիշի, $ABCD$ քառանկյունը զուգահեռագիծ է:

Խնդիրներ

15. Ապացուցեք, որ $ABCD$ ուռուցիկ քառանկյունը զուգահեռագիծ է, եթե՝ ա) $\angle BAC = \angle ACD$ և $\angle BCA = \angle DAC$, բ) $AB \parallel CD$, $\angle A = \angle C$:
16. Զուգահեռագծի պարագիծը 48 սմ է: Գտեք զուգահեռագծի կողմերը, եթե՝ ա) կողմերից մեկը մյուսից մեծ է 3 սմ-ով, բ) երկու կողմի տարբերությունը 7 սմ է, գ) կողմերից մեկը երկու անգամ մեծ է մյուսից:
17. $ABCD$ զուգահեռագծի պարագիծը 50 սմ է, $\angle C = 30^\circ$, իսկ CD ուղղին տարված BH ուղղահայացը 6,5 սմ է: Գտեք զուգահեռագծի կողմերը:
18. Զուգահեռագծի անկյուններից մեկը 40° է: Գտեք մնացած անկյունները:
19. $ABCD$ քառանկյան մեջ $AB \parallel CD$, $BC \parallel AD$, O -ն անկյունագծերի հատման կետն է: AOD եռանկյան պարագիծը 25 սմ է, $AC = 16$ սմ, $BD = 14$ սմ: Գտեք BC կողմը:
20. $ABCD$ քառանկյան մեջ $AB = CD$ և $AB \parallel CD$, $\angle CBD = 15^\circ$: Գտեք $\angle BDA$ -ն:

21. $ABCD$ ուռուցիկ քառանկյան մեջ $AB = CD$, $\angle B = 70^\circ$, $\angle BCA = 60^\circ$, $\angle ACD = 50^\circ$: Ապացուցեք, որ $BC = AD$:
22. Զուգահեռագծի անկյունագիծը երկու կից կողմերի հետ կազմում է համապատասխանաբար 25° -ի և 35° -ի անկյուններ: Գտեք զուգահեռագծի անկյունները:
23. Գտեք զուգահեռագծի անկյունները, եթե դրանցից երկուսի գումարը 100° է:
24. $ABCD$ զուգահեռագծի A անկյան կիսորդը K կետում հատում է BC կողմը: Գտեք այդ զուգահեռագծի պարագիծը, եթե $BK = 15$ սմ, $KC = 9$ սմ:
25. Զուգահեռագծի կողմը անկյուններից մեկի կիսորդի հետ հատման կետով տրոհվում է 7 սմ և 14 սմ երկարությամբ հատվածների: Գտեք այդ զուգահեռագծի պարագիծը:
26. Գտեք $ABCD$ զուգահեռագծի անկյունները, եթե՝
ա) $\angle A = 84^\circ$, բ) $\angle A - \angle B = 55^\circ$, գ) $\angle A + \angle C = 142^\circ$,
դ) $\angle A = 2\angle B$, ե) $\angle CAD = 16^\circ$, $\angle ACD = 37^\circ$:
27. $MNPQ$ զուգահեռագծի մեջ տարված է MQ ուղղին ուղղահայաց՝ NH -ը, ընդ որում՝ H կետը գտնվում է MQ կողմի վրա: Գտեք զուգահեռագծի կողմերը և անկյունները, եթե հայտնի է, որ $MH = 3$ սմ, $HQ = 5$ սմ, $\angle MNH = 30^\circ$:
28. Ապացուցեք, որ զուգահեռագիծն ուռուցիկ քառանկյուն է:
- Լուծում:** Դիտարկենք $ABCD$ զուգահեռագիծը (տես նկ. 8) և ապացուցենք, որ այն ընկած է իր ցանկացած երկու հարևան գագաթներով անցնող ուղղի մի կողմում: Դիտենք, օրինակ, AB ուղիղը: Քանի որ $AB \parallel CD$, ապա CD հատվածը և AB ուղիղը ընդհանուր կետ չունեն: Նշանակում է՝ CD հատվածը գտնվում է AB ուղղի մի կողմում: Բայց այդ դեպքում BC և AD հատվածները ևս կգտնվեն AB ուղղի նույն կողմում: Այսպիսով՝ $ABCD$ զուգահեռագիծը գտնվում է AB ուղղի մի կողմում:
29. $ABCD$ զուգահեռագծի մեջ $AB \neq BC$ և $\angle A$ -ն սուր է: Այդ զուգահեռագծի B և D գագաթներից տարված են AC ուղղին ուղղահայացներ՝ BK -ն և DM -ը: Ապացուցեք, որ $BMDK$ քառանկյունը զուգահեռագիծ է:

30. $ABCD$ քառանկյան AB , BC , CD և DA կողմերի վրա նշված են համապատասխանաբար M , N , P և Q կետերն այնպես, որ $AM = CP$, $BN = DQ$, $BM = DP$, $NC = QA$: Ապացուցեք, որ $ABCD$ -ն և $MNPQ$ -ն զուգահեռագիծ են:
31. $ABCD$ զուգահեռագծի անկյունագծերը հատվում են O կետում: Ապացուցեք, որ $A_1B_1C_1D_1$ քառանկյունը, որի գագաթները OA , OB , OC և OD հատվածների միջնակետերն են, զուգահեռագիծ է:
32. $ABCD$ զուգահեռագծի BD անկյունագծի վրա P և Q կետերը նշված են այնպես, որ $PB = QD$: Ապացուցեք, որ $APCQ$ քառանկյունը զուգահեռագիծ է:

§3

ԹՎԼԵՍԻ ԹԵՈՐԵՄԸ: ՍԵՂԱՆ

6. Եռանկյան միջին գիծը

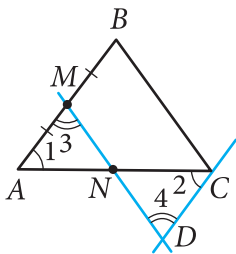
Սահմանում

Եռանկյան երկու կողմերի միջնակետերը միացնող հատվածը կոչվում է եռանկյան միջին գիծ:

Եռանկյան միջին գծի հատկությունն ուսումնասիրելու համար նախ լուծենք մի կարևոր խնդիր:

Խնդիր: Կամայական ABC եռանկյան AB կողմի M միջնակետով տարված է BC կողմին զուգահեռ ուղիղ: Այդ ուղիղը N կետում հատում է AC կողմը: Ապացուցել, որ $AN = NC$:

Լուծում: Տրված ABC եռանկյան C գագաթով տանենք AB ուղղին զուգահեռ ուղիղ և MN ուղղի հետ նրա հատման կետը նշանակենք D (նկ. 12): Ստացված $MBCD$ քառանկյան հանդիպակաց կողմերը զույգ առ զույգ զուգահեռ են, այսինքն՝ $MBCD$ -ն զուգահեռագիծ է: Քանի որ, ըստ պայմանի, $AM = MB$, իսկ $MB = CD$ (որպես զուգահեռագծի հանդիպակաց կողմեր), ապա $AM = CD$: Ստացվում է, որ AMN և NCD եռանկյունները հավասար են՝ ըստ կողմի և նրան առընթեր անկյունների ($\angle 1 = \angle 2$ և $\angle 3 = \angle 4$, որպես խաչադիր անկյուններ, որոնք առա-



Նկ. 12

ջանում են AB և CD զուգահեռ ուղիղները, համապատասխանաբար, AC և MD հատողներով հատելիս): Այստեղից հետևում է, որ $AN = NC$, ինչը և պահանջվում էր ապացուցել:

Այժմ քննության առնենք ստացված MN հատվածը: Նախ պարզ է, որ MN -ը համընկնում է ABC եռանկյան միջին գծի հետ (M -ը և N -ը համապատասխանաբար AB և AC կողմերի միջնակետերն են): Քանի որ MN -ը գտնվում է BC -ին զուգահեռ MD ուղղի վրա, ապա $MN \parallel BC$: Միաժամանակ ունենք, որ $\triangle AMN = \triangle NCD$, ուստի $MN = ND$: Այսինքն՝ $MN = \frac{1}{2} MD$: Բայց քանի որ $MD = BC$ (որպես զուգահեռագծի հանդիպակաց կողմեր), ուրեմն՝ $MN = \frac{1}{2} BC$:

Ստացվեց, որ ABC եռանկյան MN միջին գիծը զուգահեռ է BC կողմին և հավասար է նրա կեսին: Նույնը կարելի է ասել ցանկացած եռանկյան յուրաքանչյուր միջին գծի մասին:

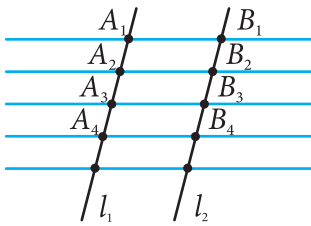
Այսպիսով՝ **եռանկյան միջին գիծը զուգահեռ է նրա կողմերից մեկին և հավասար է այդ կողմի կեսին:**

7. Թալեսի թեորեմը

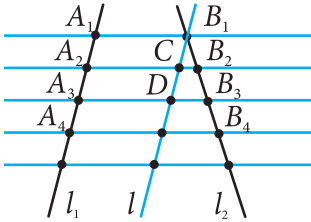
Այժմ ապացուցենք մի թեորեմ, որը վերաբերում է հատվածը հավասար մասերի բաժանման խնդրին և կոչվում է հին հույն գիտնական Թալեսի անունով (Թալես Միլեթացի, մ.թ.ա. մոտ 625–547 թթ.):

Թեորեմ: Եթե երկու ուղիղներից մեկի վրա հաջորդաբար տեղադրվեն մի քանի հավասար հատվածներ և նրանց ծայրակետերով տարվեն զուգահեռ ուղիղներ, որոնք հատեն երկրորդ ուղիղը, ապա երկրորդ ուղղի վրա անջատվում են միմյանց հավասար հատվածներ:

Ապացուցում: Դիցուք՝ l_1 ուղղի վրա տեղադրված են $A_1A_2, A_2A_3, A_3A_4, \dots$ հավասար հատվածները և նրանց ծայրակետերով, այն է՝ A_1, A_2, A_3, \dots կետերով տարված են զուգահեռ ուղիղներ, որոնք l_2 ուղիղը հատում են B_1, B_2, B_3, \dots կետերում (նկ. 13): Պահանջվում է ապացուցել, որ



ա)



բ)

Նկ. 13

$B_1B_2, B_2B_3, B_3B_4, \dots$ հատվածները միմյանց հավասար են: Ապացուցենք, օրինակ, որ $B_1B_2 = B_2B_3$:

Նախ դիտարկենք այն դեպքը, երբ l_1 և l_2 ուղիղները զուգահեռ են (նկ. 13(ա)): Այս դեպքում ստացված $A_1B_1B_2A_2$ և $A_2B_2B_3A_3$ պատկերները զուգահեռագծեր են, քանի որ նրանց հանդիպակաց կողմերը զույգ առ զույգ զուգահեռ են: Հետևաբար՝ $A_1A_2 = B_1B_2$ և $A_2A_3 = B_2B_3$: Բայց քանի որ $A_1A_2 = A_2A_3$, ուրեմն՝ $B_1B_2 = B_2B_3$:

Այժմ դիտարկենք այն դեպքը, երբ l_1 և l_2 ուղիղները զուգահեռ չեն: B_1 կետով տանենք l_1 ուղիղին զուգահեռ l ուղիղը (նկ. 13(բ)): Այն հատում է A_2B_2 և A_3B_3 ուղիղները ինչ-որ C և D կետերում: Քանի որ $A_1A_2 = A_2A_3$, ապա ըստ նախորդ դեպքի ապացույցի՝ $B_1C = CD$: Այժմ դիտենք B_1DB_3 եռանկյունը, որի մեջ $B_1C = CD$ և $CB_2 \parallel DB_3$: Դրանից հետևում է, որ $B_1B_2 = B_2B_3$ (տես 6-րդ կետը): Նույն ձևով ապացուցվում են, որ $B_2B_3 = B_3B_4$ և այլն: **Թեորեմն ապացուցված է:**

8. Սեղան

Սեղան կոչվում է այն քառանկյունը, որի երկու կողմերը զուգահեռ են, իսկ մյուս երկու կողմերը զուգահեռ չեն:

Զուգահեռ կողմերը կոչվում են սեղանի *հիմքեր*, իսկ երկու մյուս կողմերը՝ *սրունքներ* (նկ. 14):

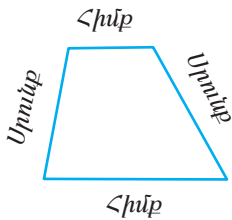
Սեղանը կոչվում է *հավասարասրուն*, եթե նրա սրունքները հավասար են (նկ. 15(ա)): Սեղանը, որի որևէ անկյունն ուղիղ է, կոչվում է *ուղղանկյուն սեղան* (նկ. 15(բ)):

Սեղանի սրունքների միջնակետերը միացնող հատվածը կոչվում է սեղանի *միջին գիծ*:

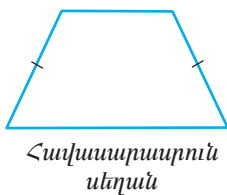
Թեորեմ: Սեղանի միջին գիծը զուգահեռ է հիմքերին և հավասար է նրանց կիսագումարին:

Ապացուցում: Դիցուք՝ $ABCD$ -ն տրված սեղան է, որի հիմքերն են BC -ն և AD -ն (նկ. 16), իսկ EF -ը նրա միջին գիծն է, այսինքն՝ $AE = EB$ և $DF = FC$: Պահանջվում է ապացուցել, որ $EF \parallel AD \parallel BC$ և $EF = \frac{1}{2}(BC + AD)$:

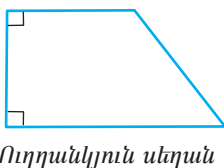
B գագաթով և CD սրունքի F միջնակետով տանենք ուղիղ: Այն հատում է AD ուղիղը ինչ-որ Q կետում: FBC և



Նկ. 14



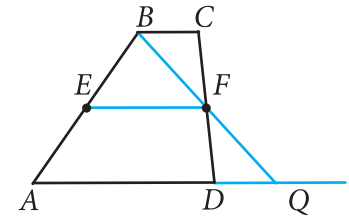
ա)



բ)

Նկ. 15

FQD եռանկյունները հավասար են՝ ըստ կողմի և նրան առընթեր երկու անկյան (ըստ պայմանի՝ $FC = FD$, $\angle BFC = \angle QFD$ ՝ որպես հակադիր անկյուններ, $\angle FCB = \angle FDQ$ ՝ որպես խաչադիր անկյուններ, որոնք առաջանում են BC և AD զուգահեռ ուղիղները CD հատողով հատելիս): Ուրեմն՝ $DQ = CB$:



Նկ. 16

Այժմ դիտենք ABQ եռանկյունը: EF -ը նրա միջին գիծն է, ուստի՝ $EF \parallel AQ$ և $EF = \frac{1}{2} AQ$: Բայց AQ և AD ուղիղները համընկնում են, իսկ $AQ = AD + DQ = AD + BC$: Այստեղից հետևում է, որ $EF \parallel AD \parallel BC$ և $EF = \frac{1}{2} (BC + AD)$:
Թեորեմն ապացուցված է:

Խնդիրներ

33. Եռանկյան կողմերը հավասար են 6 սմ, 8 սմ, 10 սմ: Գտեք այն եռանկյան պարագիծը, որի կողմերը տրված եռանկյան միջին գծերն են:
34. Ապացուցեք, որ եռանկյան զագաթները հավասարահեռ են նրա որևէ միջին գիծն ընդգրկող ուղղից:
35. Ապացուցեք, որ ուռուցիկ քառանկյան կողմերի միջնակետերը զուգահեռագծի զագաթներ են:
36. Ուռուցիկ քառանկյան անկյունագծերը հավասար են 12 մ և 16 մ: Գտեք այն քառանկյան կողմերը, որի զագաթները տրված քառանկյան կողմերի միջնակետերն են:
37. Քառանկյան անկյունագծերը հավասար են m -ի և n -ի: Գտեք այն քառանկյան պարագիծը, որի զագաթները տրված քառանկյան կողմերի միջնակետերն են:
38. Գտեք AD և BC հիմքերով սեղանի B և D անկյունները, եթե $\angle A = 36^\circ$, $\angle C = 117^\circ$:
39. Ապացուցեք, որ հավասարասրուն սեղանի յուրաքանչյուր հիմքին առընթեր անկյունները հավասար են:
40. Հավասարասրուն սեղանի մեծ հիմքը 4 մ է, սրունքը՝ 2 մ, իսկ դրանց կազմած անկյունը՝ 60° : Գտեք սեղանի փոքր հիմքը:
41. Գտեք հավասարասրուն սեղանի անկյունները, եթե հայտնի է, որ սեղանի երկու անկյունների տարբերությունը 40° է:

42. Սեղանի հիմքերը հարաբերում են, ինչպես $2:3$, իսկ միջին գիծը 10 սմ է: Գտեք սեղանի հիմքերը:
43. M և N կետերը գտնվում են տրված ուղղի մի կողմում, և նրանց հեռավորությունները այդ ուղղից հավասար են 10 սմ և 22 սմ: Գտեք MN հատվածի միջնակետի հեռավորությունը այդ ուղղից:
44. Հավասարասրուն սեղանի բութ անկյան գագաթից նրա մեծ հիմքին տարված ուղղահայացն այդ հիմքը տրոհում է 6 սմ և 30 սմ երկարությամբ հատվածների: Գտեք սեղանի փոքր հիմքը և միջին գիծը:
45. Սեղանի սրունքներից մեկը բաժանված է երեք հավասար հատվածների: Այդ բաժանման կետերից տարված են մյուս սրունքին միացնող հատվածներ, որոնք զուգահեռ են սեղանի հիմքերին: Գտեք այդ հատվածների երկարությունները, եթե սեղանի հիմքերը հավասար են 2 սմ և 5 սմ:
46. Տրված ուղղի տարբեր կողմերում տրված են M և N կետերը, որոնց հեռավորությունները այդ ուղղից հավասար են 10 սմ և 6 սմ: Գտեք MN հատվածի միջնակետի հեռավորությունը տրված ուղղից:
47. Ապացուցեք, որ սեղանը հավասարասրուն է, եթե՝
ա) հիմքին առնթեր անկյունները հավասար են,
բ) անկյունագծերը հավասար են:
48. Ապացուցեք, որ հավասարասրուն սեղանի ձև ունեցող միատեսակ սալիկներով կարելի է այնպես երեսպատել սալահատակը, որ լրիվությամբ ծածկի տակ ներառվի հարթության մաս հանդիսացող ցանկացած հարթակ:
49. Ուղղանկյուն սեղանի մեջ սուր անկյունը 45° է: Փոքր սրունքը և փոքր հիմքը 10 -ական սմ են: Գտեք սեղանի մեծ հիմքը:
50. Ուղղանկյուն սեղանի հիմքերն են a և b , անկյուններից մեկը՝ α : Գտեք՝ ա) սեղանի մեծ սրունքը, եթե $a = 4$ սմ, $b = 7$ սմ, $\alpha = 60^\circ$, բ) սեղանի փոքր սրունքը, եթե $a = 10$ սմ, $b = 15$ սմ, $\alpha = 45^\circ$:

§4 ՈՒՂԱՆԿՅՈՒՆ, ՇԵՂԱՆԿՅՈՒՆ, ՔԱՌԱԿՈՒՄԻ

9. Ուղղանկյուն

Ուղղանկյուն կոչվում է այն զուգահեռագիծը, որի բոլոր անկյուններն ուղիղ են: Նկատենք, որ ուղղանկյունը կարող է դիտվել որպես զուգահեռագիծ, այսինքն՝ այն օժտված է զուգահեռագծի բոլոր հատկություններով: Դրանք են՝ ուղղանկյան հանդիպակաց կողմերը հավասար են, անկյունագծերը հատման կետով կիսվում են:

Ուսումնասիրենք ուղղանկյան առանձնահատկությունը:

Ուղղանկյան անկյունագծերը հավասար են:

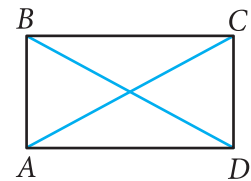
Իսկապես, դիտենք նկար 17-ը, որում պատկերված $ABCD$ ուղղանկյան անկյունագծերն են AC -ն և BD -ն: ACD և DBA ուղղանկյուն եռանկյունները հավասար են՝ ըստ երկու էջի ($CD = BA$, AD -ն ընդհանուր էջ է): Դրանից հետևում է, որ AC և BD ներքնաձիգները հավասար են՝ $AC = BD$, ինչը և պահանջվում էր ապացուցել:

Ապացուցենք հակադարձ պնդումը (*ուղղանկյան հայտնիք*):

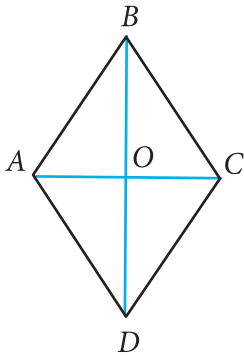
Եթե զուգահեռագծի անկյունագծերը հավասար են, ապա այդ զուգահեռագիծը ուղղանկյուն է:

Դիցուք՝ $ABCD$ զուգահեռագծի AC և BD անկյունագծերը հավասար են (*տես նկ. 17*): ABD և DCA եռանկյունները հավասար են՝ ըստ երեք կողմի ($AB = DC$, $BD = CA$, AD -ն ընդհանուր կողմ է): Դրանից հետևում է, որ $\angle A = \angle D$: Քանի որ զուգահեռագծի հանդիպակաց անկյունները հավասար են, ապա $\angle A = \angle C$, $\angle D = \angle B$: Այսպիսով՝ $\angle A = \angle B = \angle C = \angle D$: Զուգահեռագիծը ուռուցիկ քառանկյուն է, ուրեմն՝ $\angle A + \angle B + \angle C + \angle D = 360^\circ$:

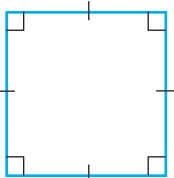
Հետևաբար՝ $\angle A = \angle B = \angle C = \angle D = 90^\circ$, այսինքն՝ $ABCD$ -ն ուղղանկյուն է:



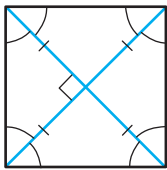
Նկ. 17



Նկ. 18



ա)



բ)

Քառակուսու
հատկությունները

Նկ. 19

10. Շեղանկյուն և քառակուսի

Շեղանկյուն կոչվում է այն զուգահեռագիծը, որի բոլոր կողմերը հավասար են: Նկատենք, որ շեղանկյունը կարող է դիտվել որպես զուգահեռագիծ, այսինքն՝ այն օժտված է զուգահեռագծի բոլոր հատկություններով:

Ուսումնասիրենք շեղանկյան առանձնահատկությունը:

Շեղանկյան անկյունագծերը փոխուղղահայաց են և կիսում են շեղանկյան անկյունները:

Դիտարկենք $ABCD$ շեղանկյունը (նկ. 18): Պահանջվում է ապացուցել, որ $AC \perp BD$, և անկյունագծերից յուրաքանչյուրը կիսում է շեղանկյան հանդիպակաց անկյունները: Ապացուցենք, օրինակ, որ $\angle BAC = \angle DAC$:

Ըստ շեղանկյան սահմանման՝ $AB = AD$, ուստի BAD եռանկյունը հավասարաարուն է: Քանի որ շեղանկյունը զուգահեռագիծ է, ապա նրա անկյունագծերը հատման O կետով կիսվում են: Հետևաբար՝ AO -ն BAD հավասարաարուն եռանկյան միջնագիծ է և, ուրեմն, նաև կիսորդ է և բարձրություն: Այսինքն՝ $AC \perp BD$ և $\angle BAC = \angle DAC$, ինչը և պահանջվում էր ապացուցել:

Քառակուսի կոչվում է այն ուղղանկյունը, որի բոլոր կողմերը հավասար են: Քանի որ ուղղանկյունը զուգահեռագիծ է, ապա քառակուսին ևս զուգահեռագիծ է. այնպիսի զուգահեռագիծ, որի բոլոր կողմերը հավասար են, այսինքն՝ նաև շեղանկյուն է: Դրանցից հետևում է, որ քառակուսին օժտված է ինչպես ուղղանկյան, այնպես էլ շեղանկյան բոլոր հատկություններով:

Ձևակերպենք քառակուսու հիմնական հատկությունները.

ա) Քառակուսու բոլոր անկյունները ուղիղ են (նկ. 19(ա)),

բ) Քառակուսու անկյունագծերը հավասար են, փոխուղղահայաց են, հատման կետով կիսվում են և կիսում են քառակուսու անկյունները (նկ. 19(բ)):

11. Առանցքային և կենտրոնային համաչափություններ

Ա. Առանցքային համաչափություն: Երկու՝ A և A_1 կետերը կոչվում են a ուղղի նկատմամբ համաչափ, եթե a ուղիղն ուղղահայաց է AA_1 հատվածին և անցնում է նրա միջնակետով (նկ. 20(ա)): a ուղղի յուրաքանչյուր կետ համաչափ է համարվում ինքն իրեն: 20(բ) նկարում M և M_1 , N և N_1 կետերը համաչափ են b ուղղի նկատմամբ, իսկ P կետը այդ ուղղի նկատմամբ համաչափ է ինքն իրեն:

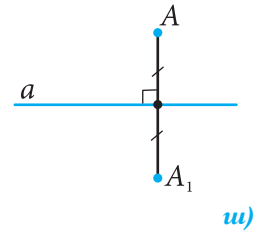
Պատկերը կոչվում է a ուղղի նկատմամբ համաչափ, եթե այդ պատկերի յուրաքանչյուր կետի՝ a ուղղի նկատմամբ համաչափ կետը ևս պատկանում է այդ պատկերին: a ուղիղը կոչվում է պատկերի համաչափության առանցք: Նաև ասում են, որ պատկերն օժտված է առանցքային համաչափությամբ:

Բերենք պատկերների օրինակներ, որոնք օժտված են առանցքային համաչափությամբ (նկ. 21): Չփոխված անկյունն ունի համաչափության մեկ առանցք. դա այն ուղիղն է, որն ընդգրկում է տվյալ անկյան կիսորդը: Հավասարասրուն (բայց ոչ հավասարակողմ) եռանկյունը ևս ունի համաչափության մեկ առանցք, իսկ հավասարակողմ եռանկյունը՝ համաչափության երեք առանցք: Ուղղանկյունը և շեղանկյունը, որոնք քառակուսի չեն, ունեն համաչափության երկուական առանցքներ, իսկ քառակուսին՝ համաչափության չորս առանցք: Շրջանագիծն ունի անվերջ թվով համաչափության առանցքներ. կենտրոնով անցնող յուրաքանչյուր ուղիղ շրջանագծի համաչափության առանցք է:

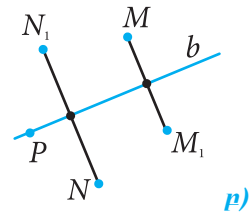
Կան այնպիսի պատկերներ, որոնք առհասարակ համաչափության առանցք չունեն: Այդպիսի պատկերներից է ուղղանկյուն և շեղանկյուն չհանդիսացող զուգահեռագիծը, ինչպես նաև տարակողմ եռանկյունը:

Բ. Կենտրոնային համաչափություն: Երկու՝ A և A_1 կետերը կոչվում են O կետի նկատմամբ համաչափ, եթե O -ն AA_1 հատվածի միջնակետն է (նկ. 22(ա)): Համարվում է, որ O կետը համաչափ է ինքն իրեն: 22(բ) նկարում M և M_1 , N և N_1 կետերը համաչափ են O կետի նկատմամբ, իսկ P և Q կետերը այդ կետի նկատմամբ համաչափ չեն:

Պատկերը կոչվում է O կետի նկատմամբ համաչափ, եթե այդ պատկերի կետերից յուրաքանչյուրի՝ O կետի նկատ-

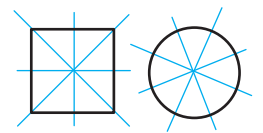
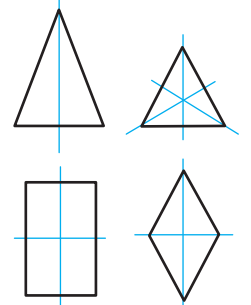
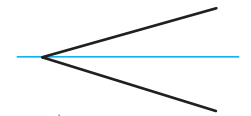


ա)



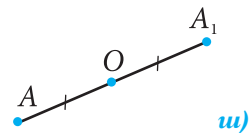
բ)

Նկ. 20



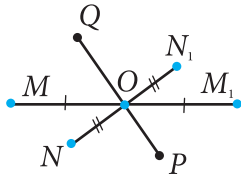
Առանցքային
համաչափությամբ
օժտված պատկերներ

Նկ. 21



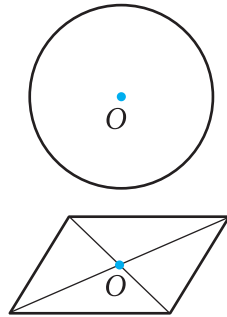
ա)

Նկ. 22




բ)

Նկ. 22




Նկ. 23

Կենտրոնային
համաչափությանը
օժտված պատկերներ



Նկ. 24



Նկ. 25

մամբ համաչափ կետը ևս պատկանում է այդ նույն պատկերին: O կետը կոչվում է պատկերի *համաչափության կենտրոն*: Նաև ասում են, որ պատկերն օժտված է *կենտրոնային համաչափությամբ*: Կենտրոնային համաչափությամբ օժտված պատկերների օրինակներ են շրջանագիծը և զուգահեռագիծը (Նկ. 23): Շրջանագծի համաչափության կենտրոնը շրջանագծի կենտրոնն է, իսկ զուգահեռագծի համաչափության կենտրոնը՝ նրա անկյունագծերի հատման կետը: Ուղիղը ևս օժտված է կենտրոնային համաչափությամբ: Ի տարբերություն շրջանագծի և զուգահեռագծի, որոնցից յուրաքանչյուրն ունի համաչափության մեկ կենտրոն, ուղղի համար դրանք անվերջ շատ են. ուղղի ցանկացած կետ նրա համաչափության կենտրոնն է: Համաչափության կենտրոն չունեցող պատկերի օրինակ է եռանկյունը:

Առանցքային կամ կենտրոնային համաչափությամբ են օժտված մեր շրջակա աշխարհի առարկաներից շատերի պատկերները հարթության վրա: Օրինակ՝ ծառերի տերևներից և ծաղիկների պսակաթերթերից շատերը համաչափ են միջին ցողունի նկատմամբ (Նկ. 24):

Համաչափությունն ունի գեղագիտական և կիրառական նշանակություն: Այն մեզ հաճախ է հանդիպում արվեստում, ճարտարապետության մեջ, տեխնիկայում, կենցաղում: Այսպես՝ շենքերից շատերի ձևատները նախագծվում են՝ ըստ առանցքային համաչափության (Նկ. 25): Մեծ մասամբ առանցքի կամ կենտրոնի նկատմամբ համաչափ են արվում գորգերի, գործվածքների, պաստառների նախշերը: Համաչափ են շատ սարքավորումների բազմաթիվ մանրակներ, որոնք լայն կիրառություն ունեն տեխնիկայում և արտադրության մեջ:

Հարցեր և խնդիրներ

51. Ապացուցեք, որ այն զուգահեռագիծը, որի անկյուններից մեկը ուղիղ է, ուղղանկյուն է:
52. Ապացուցեք, որ եթե քառանկյան բոլոր անկյունները ուղիղ են, ապա քառանկյունը ուղղանկյուն է:
53. Ապացուցեք, որ եթե զուգահեռագծի բոլոր անկյունները հավասար են, ապա այն ուղղանկյուն է:
54. $ABCD$ ուղղանկյան անկյունագծերը հատվում են O կետում: $\angle COD = 60^\circ$, $CD = 10$ սմ: Գտեք ուղղանկյան անկյունագծերը:

55. Գտեք $ABCD$ ուղղանկյան պարագիծը, եթե A անկյան կիսորդը տրոհում է՝ ա) BC կողմը $45,6$ սմ և $7,85$ սմ երկարությամբ հատվածների, բ) DC կողմը $2,7$ դմ և $4,5$ դմ երկարությամբ հատվածների:
56. $ABCD$ ուղղանկյան անկյունագծերը հատվում են O կետում: Ապացուցեք, որ AOD և AOB եռանկյունները հավասարաարուն են:
57. $ABCD$ ուղղանկյան անկյունագծերը հատվում են O կետում: Գտեք AOB եռանկյան պարագիծը, եթե $\angle CAD = 30^\circ$, $AC = 12$ սմ:
58. Ապացուցեք, որ ուղղանկյուն եռանկյան ներքնաձիգին տարված միջնագիծը հավասար է ներքնաձիգի կեսին:
59. $ABCD$ ուղղանկյան անկյունագծերը հատվում են O կետում, E -ն AB կողմի միջնակետն է, $\angle BAC = 50^\circ$: Գտեք $\angle AOE$ -ն:
60. $MPKH$ ուղղանկյան անկյունագծերը հատվում են O կետում: OA հատվածը MOP եռանկյան բարձրությունն է, $\angle AOP = 15^\circ$: Գտեք $\angle OHK$ -ն:
61. Ուղղանկյան անկյունագծերի հատման կետի հեռավորությունը մեծ կողմից 4 սմ է, իսկ փոքր կողմից՝ 6 սմ: Գտեք ուղղանկյան պարագիծը:
62. Ուղղանկյան անկյուններից մեկի կիսորդը ուղղանկյան կողմը բաժանում է երկու հավասար հատվածների: Գտեք ուղղանկյան պարագիծը, եթե նրա փոքր կողմը 10 սմ է:
63. Շեղանկյան անկյունագծերից մեկը հավասար է կողմին: Գտեք՝ ա) շեղանկյան անկյունները, բ) այն անկյունները, որոնք կազմում են շեղանկյան անկյունագծերը նրա կողմերի հետ:
64. Գտեք $ABCD$ շեղանկյան պարագիծը, եթե $\angle B = 60^\circ$, $AC = 10,5$ սմ:
65. Գտեք այն անկյունները, որոնք կազմում են շեղանկյան անկյունագծերը նրա կողմի հետ, եթե հայտնի է, որ շեղանկյան անկյուններից մեկը 45° է:
66. Ապացուցեք, որ զուգահեռագիծը շեղանկյուն է, եթե՝ ա) նրա անկյունագծերը փոխուղղահայաց են, բ) զուգահեռագծի անկյունագծերը նրա անկյունների կիսորդ են:
67. $ABCD$ շեղանկյան մեջ $\angle B = 120^\circ$: Անկյունագծերը հատվում են O կետում: BC կողմը 10 սմ է: Գտեք BD անկյունագիծը:

68. Շեղանկյան գագաթներից մեկով նրա հանդիպակաց անկյունը կազմող կողմերին տարված ուղղահայացները կազմում են 30° -ի անկյուն, ընդ որում դրանցից յուրաքանչյուրի երկարությունը 5 սմ է: Գտեք շեղանկյան կողմը:
69. Քառակուսու անկյունագծերի հատման կետից մինչև կողմերը եղած հեռավորությունների գումարը 20 սմ է: Գտեք քառակուսու պարագիծը:
70. Քառակուսու պարագիծը 80 սմ է: Որքա՞ն է քառակուսու անկյունագծի միջնակետի հեռավորությունը նրա կողմից:
71. Ապացուցեք, որ եթե շեղանկյան մի անկյունը ուղիղ է, ապա այդ շեղանկյունը քառակուսի է:
72. Քառակուսի է արդյոք քառանկյունը, եթե նրա անկյունագծերը՝ ա) հավասար են և փոխուղղահայաց, բ) փոխուղղահայաց են և ունեն ընդհանուր միջնակետ, գ) հավասար են, փոխուղղահայաց են և ունեն ընդհանուր միջնակետ:
73. Ուղղանկյուն եռանկյան ուղիղ անկյան կիսորդի և ներքնաձիգի հատման կետով տարված են էջերին զուգահեռ ուղիղներ: Ապացուցեք, որ առաջացած քառանկյունը քառակուսի է:
74. Համաչափության քանի՞ առանցք ունի՝ ա) հատվածը, բ) ուղիղը, գ) ճառագայթը:
75. Հետևյալ տառերից որո՞նք ունեն համաչափության առանցք.
ա) Ա, Ծ, Ս, Ո, Տ, Յ, Փ, Օ,
բ) Ա, Բ, Ե, Ը, Ո, Մ, Կ:
76. Ապացուցեք, որ ուղղանկյան հանդիպակաց կողմերի միջնակետերով անցնող ուղիղը նրա համաչափության առանցքն է:
77. Ապացուցեք, որ հավասարասրուն եռանկյան հիմքին տարված կիսորդն ընդգրկող ուղիղը նրա համաչափության առանցքն է:
78. Ունի՞, արդյոք, համաչափության կենտրոն՝ ա) հատվածը, բ) ճառագայթը, գ) հատվող ուղիղների զույգը, դ) քառակուսին:
79. Հետևյալ տառերից որո՞նք ունեն համաչափության կենտրոն.
ա) Ս, Ը, Տ, Յ, Փ, Օ, Ֆ, բ) Ա, Բ, Մ, Կ, Ը, Փ:

Նկարագրենք մի ընթացակարգ, որով սովորաբար լուծում են կառուցման խնդիրները՝ կարկինի և քանոնի օգնությամբ: Այն կազմված է չորս մասից:

- 1) Խնդրի լուծման եղանակի հայտնաբերում՝ որոնելի տարրերի և խնդրի տվյալների միջև կապերի բացահայտման միջոցով: Այս մասը կոչվում է *խնդրի վերլուծություն*: Վերլուծությունը հնարավորություն է տալիս կազմելու խնդրի լուծման պլան:
- 2) *Կառուցման* կատարումը՝ ըստ նշված պլանի:
- 3) *Ապացուցումն* այն բանի, որ կառուցված պատկերը բավարարում է խնդրի պայմաններին:
- 4) Խնդրի *հեղազոտում*, այն է՝ պարզել, թե արդյոք ցանկացած տվյալների դեպքում խնդիրը լուծում ունի. եթե այո, ապա քանի լուծում:

Այն դեպքերում, երբ խնդիրը բավականաչափ պարզ է, առանձին մասերը, օրինակ՝ վերլուծությունը կամ հետազոտումը, բաց են թողնվում: Հիշեք, որ մենք այդպես էինք վարվում 7-րդ դասարանում:

Այժմ նկարագրված քայլերը ցուցադրենք օրինակով:

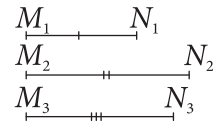
Խնդիր: Կառուցել զուգահեռագիծ՝ երկու կից կողմերով և անկյունագծերից մեկով:

Լուծում: Նախ ճշտենք, թե ինչպես պետք է հասկանալ այս խնդիրը: Տրված են երեք հատված՝ M_1N_1 , M_2N_2 , M_3N_3 (նկ. 26(ա)): Պահանջվում է կառուցել այնպիսի $ABCD$ զուգահեռագիծ, որի կից կողմերը, ասենք՝ AB -ն և BC -ն, հավասար լինեն համապատասխանաբար M_1N_1 և M_2N_2 հատվածներին, իսկ անկյունագծերից մեկը, օրինակ՝ BD -ն, հավասար լինի M_3N_3 հատվածին:

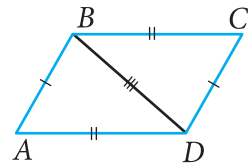
Խնդիրը լուծենք ըստ վերոհիշյալ ընթացակարգի:

Վերլուծություն: Ենթադրենք, թե $ABCD$ որոնելի զուգահեռագիծը կառուցված է (նկ. 26(բ)): Մենք տեսնում ենք, որ BAD եռանկյան կողմերը հավասար են տրված M_1N_1 , M_2N_2 և M_3N_3 հատվածներին: Այս հանգամանքը մեզ հուշում է խնդրի լուծման հետևյալ ուղին. անհրաժեշտ է նախ կառուցել ABD եռանկյունը՝ իր երեք կողմերով, իսկ այնուհետև լրացնել նրա կառուցումը մինչև $ABCD$ զուգահեռագիծը:

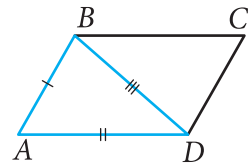
Կառուցում: Կառուցենք ABD եռանկյունն այնպես, որ նրա AB , AD և BD կողմերը հավասարվեն համապատասխանաբար M_1N_1 , M_2N_2 և M_3N_3 հատվածներին (իսկ թե ինչպես անել դա, մենք արդեն գիտենք 7-րդ դասարանից):



ա)



բ)



գ)

Նկ. 26

Այնուհետև B կետով տանենք ուղիղ՝ զուգահեռ AD -ին, և D կետով երկրորդ ուղիղը՝ զուգահեռ AB -ին (զուգահեռ ուղիղներ տանելը ևս գիտենք 7-րդ դասարանից):

Կառուցված այդ ուղիղների հատման կետը նշանակենք C տառով (նկ. 26(գ)): $ABCD$ քառանկյունը որոնելի զուգահեռագիծն է:

Ապացուցում: Ըստ կառուցման՝ $AB \parallel CD$ և $BC \parallel AD$, ուստի՝ $ABCD$ -ն զուգահեռագիծ է: Զուգահեռագծի կից կողմերը և անկյունագիծը համապատասխանաբար հավասար են տրված M_1N_1 , M_2N_2 և M_3N_3 հատվածներին՝ նույնպես ըստ կառուցման: Այսպիսով՝ $ABCD$ զուգահեռագիծը որոնելին է:

Հետազոտում: Պարզ է, որ եթե տրված երեք՝ M_1N_1 , M_2N_2 և M_3N_3 հատվածներով կարելի է կառուցել ABD եռանկյուն, որի կողմերը հավասար լինեն այդ հատվածներին, ապա կարելի կլինի կառուցել նաև զուգահեռագիծ: Սակայն ABD եռանկյուն կառուցել միշտ չէ, որ կարելի է: Եթե տրված հատվածներից որևէ մեկը մեծ կամ հավասար լինի մյուս երկուսի գումարին, ապա ABD եռանկյուն, հետևաբար նաև $ABCD$ զուգահեռագիծ կառուցելը հնարավոր չէ:

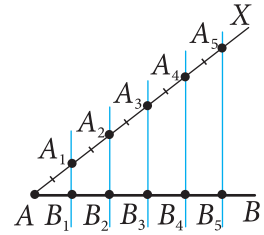
Փորձեք ինքնուրույն ապացուցել, որ եթե խնդիրն ունի լուծում, ապա այդ լուծումը միակն է:

Կառուցման խնդիրներ

80. Կառուցեք զուգահեռագիծ՝ ա) երկու կից կողմերով և նրանցով կազմված անկյունով, բ) երկու անկյունագծերով և դրանցով կազմված անկյունով:
81. Կառուցեք զուգահեռագիծ՝ ա) նրա մեծ կողմով, փոքր անկյունագծով և դրանցով կազմված անկյունով, բ) երկու անկյունագծով և մեծ կողմով:
82. Կառուցեք ուղղանկյուն սեղան՝ ա) փոքր հիմքով և սրունքներով, բ) փոքր անկյունագծով, մեծ հիմքով և մեծ սրունքով:
83. Տրված են մի ուղղի վրա չգտնվող երեք կետ՝ A , B , C : Կառուցեք զուգահեռագիծ այնպես, որ նրա երեք զագաթները համընկնեն տրված կետերին: Այդպիսի քանի՞ զուգահեռագիծ կարելի է կառուցել:

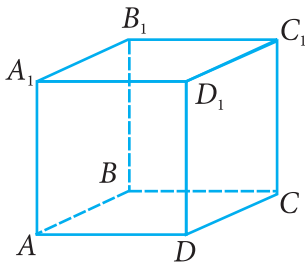
84. Տրված AB հատվածը բաժանեք n հավասար մասերի:

Լուծում: Տանենք AX ճառագայթ, որը չի գտնվում AB ուղղի վրա: Նրա վրա A կետից հաջորդաբար տեղադրենք n հատ հավասար հատվածներ՝ $AA_1, A_1A_2, \dots, A_{n-1}A_n$ (նկ. 27), այսինքն՝ այնքան թվով հավասար հատվածներ, որքան մասի անհրաժեշտ է բաժանել AB հատվածը (նկ. 27-ում $n = 5$): Տանենք A_nB հատվածը (A_n -ը վերջին հատվածի ծայրակետն է): Այնուհետև A_1, A_2, \dots, A_{n-1} կետերով տանենք A_nB ուղղին զուգահեռ ուղիղներ: Այս ուղիղները AB հատվածը հատում են B_1, B_2, \dots, B_{n-1} կետերում, որոնք, ըստ Թալեսի թեորեմի, AB հատվածը բաժանում են n հատ հավասար հատվածների:

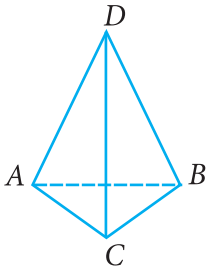


Նկ. 27

85. Կառուցեք $ABCD$ հավասարասրուն սեղան՝ ա) տրված AD հիմքով, A անկյունով և AB սրունքով, բ) տրված BC հիմքով, AB սրունքով և BD անկյունագծով:
86. Կառուցեք շեղանկյուն՝ ա) անկյունով և այդ անկյան գագաթով անցնող անկյունագծով, բ) անկյունագծով և նրա հանդիպակաց անկյունով:
87. Կառուցեք շեղանկյուն՝ ա) կողմով և անկյունագծով, բ) երկու անկյունագծով:
88. Կառուցեք քառակուսի՝ ա) կողմով, բ) անկյունագծով:
89. Կառուցեք ուղղանկյուն՝ ա) երկու կից կողմերով, բ) կողմով և անկյունագծով, գ) անկյունագծով և անկյունագծերի կազմած անկյունով:



ա)



բ)

Նկ. 28

12. Տարածական պատկերներ

Ուսումնասիրենք իրականության մեջ հաճախ հանդիպող այնպիսի պատկերներ, որոնց պատկանող ոչ բոլոր կետերն են գտնվում մի հարթության վրա: Օրինակ՝ ձեր դասագիրքը ինչ ձևով էլ փորձեք տեղավորել սեղանի հարթության վրա, միևնույնն է, սեղանի հարթությունը չի կարող ընդգրկել դասագրքի բոլոր կետերը: Երկրաչափական պատկերը, որի բոլոր կետերը չեն կարող գտնվել մի հարթության վրա, ընդունված է անվանել *տարածական պատկեր (մարմին)*: Նկար 28-ում պատկերված են երկրաչափական մարմիններ, որոնց մասին դուք ունեք նախնական պատկերացումներ: Դրանք են ուղղանկյունանիստը (նկ. 28(ա)) և բուրգը (նկ. 28(բ)): Տարածության մեջ այդ մարմինները սահմանափակված են *մակերևույթով*, որը կազմված է միայն բազմանկյուններից: Այդպիսի մարմինները կոչվում են *բազմանիստեր*: Հաճախակի հանդիպող բազմանիստի օրինակ է ուղղանկյունանիստը (որնա նկ. 28(ա)), որի բոլոր նիստերը ուղղանկյուններ են:

Բազմանիստի մակերևույթը կազմող բազմանկյունները կոչվում են *նիստեր*, դրանց կողմերը՝ բազմանիստի *կողեր*, իսկ գագաթները՝ բազմանիստի *գագաթներ*:

Ծանոթություն: Տարածական պատկերները գծագրելու համար պահանջվում են որոշակի հմտություններ: Բանն այն է, որ գծագրի վրա կարող ենք պատկերել մարմնի միայն «ստվերը», քանի որ տարածական մարմինը հարթ թղթի վրա չի տեղավորվում:

Այսպիսով՝ տարածական պատկերները գծագրելու համար անհրաժեշտ է առաջնորդվել մի քանի կանոններով: Թվարկենք դրանցից մի քանիսը:

ա. Եթե մարմինը դիտելիս նրա որևէ գիծը ծածկված է և չի երևում, ապա այդ գիծը գծագրի վրա նշվում է *ընդհատ գծերով*: Օրինակ՝ AB հատվածը նկար 28-ում չի երևում:

բ. Տարածական մարմնի գծապատկերի վրա համե-

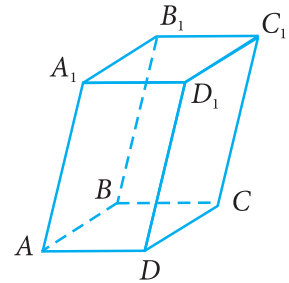
մատվող հատվածների և հատկապես անկյունների *չափերը կարող են չպահպանվել*: Օրինակ՝ 28(ա) նկարում պատկերված ուղղանկյունանիստի, ասենք, A_1B_1 կողը պատկերված է թեքված դիրքից. նրա երկարությունը կարող է ավելի փոքր թվալ, քան AA_1 կողինը: Նմանապես BAD անկյունը, թեև ուղիղ անկյուն է, սակայն նկարում երևում է իբրև սուր անկյուն:

- գ. Զուգահեռ ուղիղները միշտ *պարպրվում են զուգահեռ*՝ անկախ պատկերման դիրքից: Օրինակ՝ 28(ա) նկարում $AD \parallel BC$, $DC \parallel D_1C_1$ և այլն:

13. Զուգահեռանիստ

Զուգահեռանիստը այն բազմանիստն է, որի մակերևույթի բոլոր բազմանկյունները զուգահեռագծեր են (*նկ. 29, տես նաև 28(ա) նկարը, որը ևս զուգահեռանիստի գծապարկեր է*): Զուգահեռանիստի բոլոր նիստերը զուգահեռագծեր են: Յուրաքանչյուր զուգահեռանիստ ունի 6 նիստ: 28(ա) նկարում դիտարկենք, օրինակ՝ AA_1B_1B և DD_1C_1C նիստերը: Դրանք չունեն ընդհանուր գագաթ (չունեն նաև ընդհանուր կող) և կոչվում են *հանդիպակաց նիստեր*: Հանդիպակաց նիստերից երկուսը, օրինակ՝ $ABCD$ -ն և $A_1B_1C_1D_1$ -ը, կոչվում են զուգահեռանիստի *հիմքեր*, իսկ մյուսները՝ *կողմնային նիստեր*: Զուգահեռանիստն ունի չորս կողմնային նիստ: Զուգահեռանիստն ունի 12 կող, յուրաքանչյուր կողը միաժամանակ գտնվում է երկու նիստերի վրա: Զուգահեռանիստի յուրաքանչյուր գագաթ միաժամանակ գագաթ է նրա երեք նիստերի համար: Զուգահեռանիստն ունի 8 գագաթ:

Զուգահեռանիստի գագաթները կոչվում են *հանդիպակաց*, եթե դրանք չեն գտնվում նույն նիստի վրա: Այդպիսի գագաթ են A -ն և C_1 -ը, B -ն և D_1 -ը, D -ն և B_1 -ը, C -ն և A_1 -ը: Զուգահեռանիստի հանդիպակաց գագաթները միացնող հատվածները կոչվում են *անկյունագծեր*: Զուգահեռանիստի հանդիպակաց գագաթների զույգերը չորսն են, այսինքն՝ զուգահեռանիստն ունի չորս անկյունագիծ:



Նկ. 29

Մենք գիտենք, որ զուգահեռագծի անկյունագծերը հատվում և հատման կետով կիսվում են: Պարզվում է, որ համանման հատկությամբ են օժտված նաև զուգահեռանիստի անկյունագծերը, այսինքն՝ *զուգահեռանիստի բոլոր չորս անկյունագծերը հատվում են մի կետում և հատման կետով կիսվում են:*

14. Ուղղանկյունանիստ և խորանարդ

Այն զուգահեռանիստը, որի բոլոր նիստերը ուղղանկյուններ են, կոչվում է ուղղանկյունանիստ (*տես նկ. 28(ա)*): Ուղղանկյունանիստի տեսք ունեն տուփերը, արկղերը, սենյակներից շատերը և այլն: Զուգահեռանիստի տարրերին համանման՝ ուղղանկյունանիստը ևս ունի 6 նիստ, 12 կող, 8 գագաթ և 4 անկյունագիծ:

Մենք գիտենք, որ ուղղանկյան անկյունագծերը հավասար են: Պարզվում է, որ համանման հատկությամբ օժտված են նաև ուղղանկյունանիստի անկյունագծերը, այսինքն՝ *ուղղանկյունանիստի բոլոր չորս անկյունագծերը հավասար են:*

Այն ուղղանկյունանիստը, որի բոլոր կողերը հավասար են, կոչվում է խորանարդ:

Այսպիսով՝ խորանարդի բոլոր նիստերը քառակուսիներ են: Այսինքն՝ խորանարդի մակերևույթը կազմված է *վեց* հավասար քառակուսիներից¹:

15. Պրիզմա (հատվածակողմ)

Դիտենք նկար 30–ը: Նրանում պատկերված են բազմանիստեր, որոնց մակերևույթը կազմված է երկու հավասար բազմանկյուններից, իսկ մյուս բոլոր նիստերը ուղղանկյուններ են: 30(ա) նկարում ABC և $A_1B_1C_1$ եռանկյունները հավասար են, և AA_1B_1B , AA_1C_1C , BB_1C_1C քառանկյուններից յուրաքանչյուրը ուղղանկյուն է: 30(բ) նկարում հավասար բազմանկյուններն են $ABCDE$ -ն և $A_1B_1C_1D_1E_1$ -ը, իսկ մյուս պատկերները՝ AA_1B_1B -ն,

¹ Ուշագրավ է հերկյալ փաստը. նրստի ունենալով խորանարդի միանման վեց նիստեր (երեսներ) ունենալը՝ նախորդ դարերում ցուցաբերված հայերեն դասագրքերում խորանարդն անվանել են վեց երես, որի ցայտուն օրինակ է գտել:

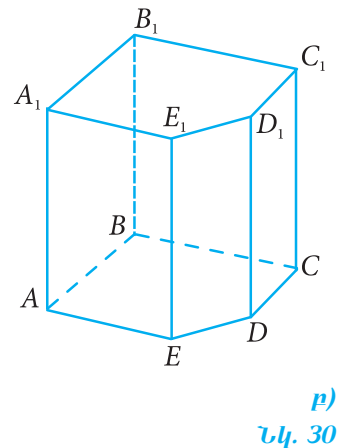
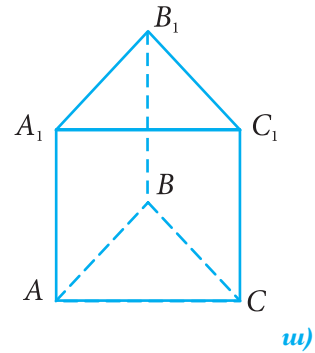
BB_1C_1C -ն, CC_1D_1D -ն, DD_1E_1E -ն և EE_1A_1A -ն, ուղղանկյուններ են: Այդպիսի մարմինները կոչվում են *ուղիղ պրիզմա*: Այդ երկու հավասար բազմանկյունները կոչվում են պրիզմայի *հիմքեր*, իսկ մյուս նիստերը, այսինքն՝ ուղղանկյունները՝ *կողմնային նիստեր*: Յուրաքանչյուր կողմնային նիստի երկու հանդիպակաց կողերը գտնվում են հիմքերի վրա, իսկ մյուս երկու կողերը միացնում են հիմքերի գագաթները: Այդ կողերը կոչվում են *կողմնային կողեր*:

Ըստ հիմքի բազմանկյան՝ պրիզման կարող է լինել եռանկյուն պրիզմա (նկ. 30(ա)), քառանկյուն պրիզմա (նկ. 28(ա)), հնգանկյուն պրիզմա (նկ. 30(բ)) և այլն: Դիտարկվում են նաև թեք *պրիզմաներ*, որոնց կողմնային նիստերը զուգահեռագծեր են:

Պրիզման նշանակելու համար հերթականությամբ թվարկում են նրա հիմքերի գագաթները: Օրինակ՝ 30(բ) նկարում պատկերված է $ABCDEA_1B_1C_1D_1E_1$ պրիզման:

n-անկյուն պրիզման ունի $3n$ կող, $2n$ գագաթ, $n + 2$ նիստ, ընդ որում՝ նիստերից 2 -ը հիմքերն են, իսկ n -ը՝ կողմնային նիստերը:

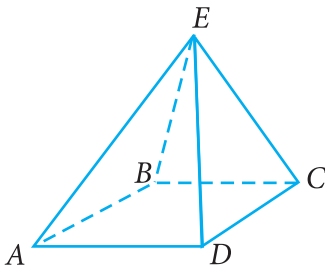
Պարզվում է, որ պրիզմայի բոլոր կողմնային կողերը միմյանց հավասար են (իսկ նրանց ընդգրկող ուղիղները չեն հատվում):



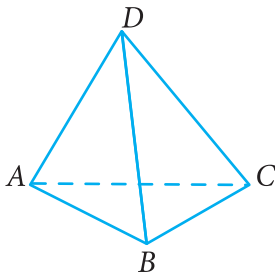
16. Բուրգ

Բուրգի մասին դուք նախնական պատկերացումներ ունեք, կարդացել և դիտել եք հաղորդումներ՝ նվիրված Հին աշխարհի յոթ հրաշալիքներից մեկին՝ Եգիպտական բուրգերին: Իսկ ինչպես ստանանք բուրգը՝ որպես երկրաչափական մարմին:

31(ա) նկարում պատկերված է քառանկյուն բուրգ: Նրա մակերևույթը կազմված է $ABCD$ քառանկյունից և EAB , EBC , ECD , EDA եռանկյուններից, որոնք ունեն E ընդհանուր գագաթ: 31(բ) նկարում պատկերված է եռանկյուն բուրգ, որը կոչվում է նաև *քառանիստ*: Բուրգն այն բազմանիստն է, որի մակերևույթը կազմված է որևէ բազմանկյունից (դա կոչվում է *հիմք*) և ընդհանուր գագաթ ունեցող եռանկյուններից, որոնց ընդհանուր գագաթի



u)



p)

Նկ. 31

հանդիպակաց կողմերը տվյալ բազմանկյան (հիմքի) կողմերն են: Այդ եռանկյունները կոչվում են բուրգի *կողմնային նիստեր*, դրանց ընդհանուր գագաթը՝ *բուրգի գագաթ*: Բուրգի գագաթը հիմքի բազմանկյան գագաթներին միացնող հատվածները կոչվում են *կողմնային կողեր*, իսկ գագաթի հանդիպակաց կողմերը՝ *հիմքի կողեր*:

Բուրգը, կախված հիմքի բազմանկյան կողմերի թվից, կոչվում է եռանկյուն բուրգ (Նկ. 31(p)), քառանկյուն բուրգ (Նկ. 31(u)), հնգանկյուն բուրգ և այլն: Բուրգը նշանակելու համար սկզբում գրվում է գագաթի տառը, այնուհետև՝ հիմքի բազմանկյան գագաթների տառերը: Նկար 31-ում պատկերված բուրգերը նշանակվում են $EABCD$ և $DABC$:

n -անկյուն բուրգն ունի $2n$ կող, որոնցից n -ը հիմքի կողեր են, n -ը՝ կողմնային կողեր: Այդպիսի բուրգն ունի $n + 1$ գագաթ և $n + 1$ նիստ, ընդ որում՝ նիստերից մեկը հիմքն է, իսկ n -ը կողմնային նիստերն են:

Առանձնահատուկ է եռանկյուն բուրգը. նրա հիմքը ևս եռանկյուն է, այսինքն՝ նրա մակերևույթը կազմված է չորս եռանկյուններից: 31(p) նկարում պատկերված եռանկյուն բուրգի հիմքը ABC եռանկյունն է, բուրգի գագաթը՝ D -ն: Այդ նույն բուրգը կարելի է դիտել այլ դիրքից ևս. օրինակ, եթե որպես հիմք դիտենք BDC եռանկյունը, ապա $ABCD$ բուրգի գագաթը A -ն է:

Հարցեր և խնդիրներ

90. $ABCD A_1 B_1 C_1 D_1$ զուգահեռանիստի մեջ գտեք՝
ա) $B_1 C_1$ -ը և DC -ն, եթե $BC = 5$ սմ, $A_1 B_1 = 4$ սմ, բ) զուգահեռանիստի BC , CD , CC_1 կողերը, եթե $AB = a$, $AA_1 = b$, $AD = c$:
91. Գտեք վեցանկյուն պրիզմայի կողերի, գագաթների, նիստերի թվերը:
92. Կարո՞ղ է պրիզմայի կողերի թիվը լինել՝ ա) 13, բ) 14, գ) 18: Պատասխանը հիմնավորեք:
93. Կարո՞ղ է պրիզմայի նիստերի թիվը լինել՝ ա) 13, բ) 14, գ) 18: Պատասխանը հիմնավորեք:

94. Ի՞նչ բազմանկյուն է պրիզմայի հիմքը, եթե պրիզման ունի՝ ա) 18 կող, բ) 24 կող, գ) 9 նիստ:
95. 48 սմ երկարությամբ մետաղաձողը բաժանել են հավասար մասերի և այդ մասերն ընդունելով որպես կողեր՝ պատրաստել են խորանարդ: Գտեք այդ խորանարդի կողի երկարությունը:
96. Խորանարդի նիստերից մեկի պարագիծը 32 սմ է: Գտեք այդ խորանարդի բոլոր կողերի երկարությունների գումարը:
97. Խորանարդի ներսում վերցված է M կետը և այն հատվածներով միացված է խորանարդի բոլոր գագաթներին: Գտեք այն բուրգերի քանակը, որոնց գագաթը M կետն է:
98. Վեցանկյուն պրիզմայի ներսում վերցված է M կետը, և այն հատվածներով միացված է պրիզմայի բոլոր գագաթներին: Գտեք այն բուրգերի քանակը, որոնց գագաթը M կետն է: Ինչպիսի՞ բուրգեր են ստացվել և յուրաքանչյուրից քանի՞ հատ:
99. Գտեք 8-անկյուն բուրգի կողերի, նիստերի և գագաթների թվերը:
100. Ինչպե՞ս է կոչվում բուրգը, եթե այն ունի՝ ա) 13 նիստ, բ) 10 գագաթ, գ) 12 կող:
101. Կարո՞ղ է լինել այնպիսի բուրգ, որն ունի՝ ա) 9 նիստ, բ) 9 կող: Պատասխանը հիմնավորեք:
102. Քառանկյուն բուրգի հիմքը 64 սմ պարագծով քառակուսի է, իսկ կողմնային նիստերը հավասարակողմ եռանկյուններ են: Գտեք բուրգի կողմնային կողերը:
103. Եռանկյուն բուրգի կողմնային նիստերը ընդհանուր գագաթ ունեցող հավասարասրուն ուղղանկյուն եռանկյուններ են: Ապացուցեք, որ բուրգի հիմքը հավասարակողմ եռանկյուն է:

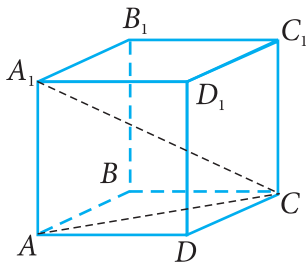
ԳԼՈՒԽ V-Ի ԿՐԿՆՈՒԹՅԱՆ ՀԱՐՑԵՐ

1. Բացատրեք, թե որ պատկերն է կոչվում բազմանկյուն: Ի՞նչ են բազմանկյան գագաթը, կողմերը, անկյունագծերը և պարագիծը:
2. Ո՞ր բազմանկյուններն են կոչվում ուռուցիկ: Բացատրեք, թե որ անկյուններն են կոչվում ուռուցիկ բազմանկյան անկյուններ:
3. Արտածեք բանաձև ուռուցիկ n -անկյան անկյունների գումարը հաշվելու համար:
4. Գծագրեք քառանկյուն և ցույց տվեք նրա անկյունագծերը, հանդիպակաց կողմերը, հանդիպակաց գագաթները և անկյունները:
5. Ինչի՞ է հավասար ուռուցիկ քառանկյան անկյունների գումարը:
6. Սահմանեք զուգահեռագիծը: Զուգահեռագիծը արդյոք ուռուցիկ քառանկյուն է:
7. Ապացուցեք, որ զուգահեռագծի հանդիպակաց կողմերը հավասար են, և հանդիպակաց անկյունները հավասար են:
8. Ապացուցեք, որ զուգահեռագծի անկյունագծերը հատման կետով կիսվում են:
9. Ձևակերպեք և ապացուցեք զուգահեռագծի հայտանիշները:
10. Ի՞նչ է եռանկյան միջին գիծը: Ձևակերպեք և ապացուցեք եռանկյան միջին գծի հատկությունը:
11. Ձևակերպեք Թալեսի թեորեմը: Ինչպե՞ս են տրված հատվածը բաժանում տրված թվով հավասար մասերի:
12. Ո՞ր քառանկյունն է կոչվում սեղան: Ինչպե՞ս են կոչվում սեղանի կողմերը:
13. Ո՞ր սեղանն է կոչվում հավասարասրուն, ո՞րը՝ ուղղանկյուն սեղան:
14. Ի՞նչ է սեղանի միջին գիծը: Ձևակերպեք և ապացուցեք թեորեմ սեղանի միջին գծի մասին:
15. Ո՞ր քառանկյունն է կոչվում ուղղանկյուն: Ապացուցեք, որ ուղղանկյան անկյունագծերը հավասար են:
16. Ապացուցեք, որ եթե զուգահեռագծի անկյունագծերը հավասար են, ապա այն ուղղանկյուն է:

17. Ո՞ր քառանկյունն է կոչվում շեղանկյուն: Ապացուցեք, որ շեղանկյան անկյունագծերը փոխուղահայաց են և կիսում են շեղանկյան անկյունները:
18. Ո՞ր քառանկյունն է կոչվում քառակուսի: Ձևակերպեք քառակուսու հիմնական հատկությունները:
19. Ո՞ր երկու կետերն են կոչվում տրված ուղղի նկատմամբ համաչափ:
20. Ո՞ր պատկերն է կոչվում տրված ուղղի նկատմամբ համաչափ:
21. Ո՞ր երկու կետերն են կոչվում տրված կետի նկատմամբ համաչափ:
22. Ո՞ր պատկերն է կոչվում համաչափ տրված կետի նկատմամբ:
23. Բերեք պատկերների օրինակներ, որոնք օժտված են՝ ա) առանցքային համաչափությամբ, բ) կենտրոնային համաչափությամբ, գ) առանցքային և կենտրոնային համաչափությամբ:
24. Բերեք պատկերների օրինակներ, որոնք ունեն համաչափության՝ ա) մեկ առանցք, բ) երկու առանցք, գ) երկուսից շատ առանցքներ, դ) մեկ կենտրոն, ե) մեկից շատ կենտրոններ:
25. Նկարագրեք, թե ինչ պատկեր է բազմանիստը, բերեք բազմանիստի օրինակ և նշեք նրա նիստերը, կողերը, գագաթները:
26. Բացատրեք, թե ինչ կանոններից էք օգտվում տարածական պատկերները գծագրելիս:
27. Նկարագրեք, թե ինչ է զուգահեռանիստը: Քանի նիստ, քանի կող և քանի գագաթ ունի զուգահեռանիստը:
28. Նկարագրեք, թե ինչ են ուղղանկյունանիստը և խորանարդը: Ինչպիսի նիստերից է կազմված խորանարդի մակերևույթը:
29. Նկարագրեք, թե ինչ է պրիզման: Քանի կող, քանի նիստ, քանի գագաթ ունի n -անկյան պրիզման:
30. Նկարագրեք, թե ինչ է բուրգը: Ի՞նչ են բուրգի կողմնային նիստերը: Քանի կող և քանի գագաթ ունի n -անկյուն բուրգը:

104. Ապացուցեք, որ եթե ուռուցիկ քառանկյան ոչ բոլոր անկյուններն են իրար հավասար, ապա դրանցից գոնե մեկը բութ է:
105. $ABCD$ զուգահեռագծի պարագիծը 46 սմ է, իսկ $AB = 14$ սմ: Զուգահեռագծի ո՞ր կողմն է հատում A անկյան կիսորդը: Գտեք այն հատվածները, որոնք առաջանում են այդ հատման դեպքում:
106. Զուգահեռագծի կողմերը հավասար են 10 սմ և 3 սմ: Մեծ կողմին առընթեր անկյունների կիսորդները հանդիպակաց կողմը տրոհում են երեք հատվածի: Գտեք այդ հատվածները:
107. Հավասարասրուն եռանկյան հիմքի կամայական կետով տարված են եռանկյան սրունքներին զուգահեռ ուղիղներ: Ապացուցեք, որ ստացված քառանկյան պարագիծը հավասար է տրված եռանկյան սրունքների գումարին:
108. Անհավասար կից կողմեր ունեցող զուգահեռագծի մեջ տարված են անկյունների կիսորդները: Ապացուցեք, որ նրանց հատումից առաջանում է ուղղանկյուն:
109. Ապացուցեք, որ ուռուցիկ քառանկյունը զուգահեռագիծ է, եթե նրա երկու կից կողմերից յուրաքանչյուրին առընթեր անկյունների գումարը 180° է:
110. Ապացուցեք, որ ուռուցիկ քառանկյունը զուգահեռագիծ է, եթե նրա հանդիպակաց անկյունները զույգ առ զույգ հավասար են:
111. K կետը ABC եռանկյան AM միջնագծի միջնակետն է: BK ուղիղը D կետում 1 հատում է AC կողմը: Ապացուցեք, որ $AD = \frac{1}{3} AC$:
112. M և N կետերը $ABCD$ զուգահեռագծի AD և BC կողմերի միջնակետերն են: Ապացուցեք, որ AN և MC ուղիղները BD անկյունագիծը բաժանում են երեք հավասար մասի:

113. $ABCD$ շեղանկյան B գագաթից տարված են AD և DC ուղիղներին ուղղահայացներ՝ BK -ն և BM -ը: Ապացուցեք, որ BD ճառագայթը KBM անկյան կիսորդն է:
114. Ապացուցեք, որ շեղանկյան անկյունագծերի հատման կետը հավասարահեռ է նրա կողմերից:
115. Ապացուցեք, որ եռանկյան գագաթը հանդիպակաց կողմի կամայական կետին միացնող հատվածի միջնակետը գտնվում է այն հատվածի վրա, որի ծայրակետերը մյուս երկու կողմերի միջնակետերն են:
116. $ABCD$ քառակուսու AC անկյունագիծը 18,4 սմ է: A կետով անցնող և AC ուղիղին ուղղահայաց ուղիղը հատում է BC և CD ուղիղները համապատասխանաբար M և N կետերում: Գտեք MN -ը:
117. $ABCD$ քառակուսու AC անկյունագծի վրա M կետը վերցված է այնպես, որ $AM = AB$: M կետով տարված է AC ուղիղին ուղղահայաց ուղիղ, որը BC -ն հատում է H կետում: Ապացուցեք, որ $BH = HM = MC$:
118. AD մեծ հիմքով $ABCD$ սեղանի AC անկյունագիծը ուղղահայաց է CD սրունքին: $\angle BAC = \angle CAD$: Գտեք AD -ն, եթե սեղանի պարագիծը 20 սմ է, իսկ $\angle D = 60^\circ$:
119. Սեղանի հիմքերից մեկին առնթեր անկյունների գումարը 90° է: Ապացուցեք, որ սեղանի հիմքերի տարբերությունը կրկնակի մեծ է դրանց միջնակետերը միացնող հատվածից:
120. Ապացուցեք, որ զուգահեռագծի անկյունագծերի հատման կետը նրա համաչափության կենտրոնն է:
121. Համաչափության քանի՞ կենտրոն ունի զուգահեռ ուղիղների զույգը:
- 122*. Ապացուցեք, որ եթե պատկերն ունի համաչափության երկու փոխուղղահայաց առանցքներ, ապա դրանց հատման կետը այդ պատկերի համաչափության կենտրոնն է:



Նկ. 32

123. Պրիզմայի գագաթների և կողերի թվերի գումարը 30 է: Քանի նիստ ունի այդ պրիզման:

124. Բուրգի գագաթների, կողերի և նիստերի թվերի գումարը կարող է լինել՝ ա) կենտ, բ) զույգ, գ) 4-ի բազմապատիկ: Պատասխանը հիմնավորեք:

125*. Ապացուցեք, որ՝ ա) ուղղանկյունանիստի անկյունագիծը փոքր է նույն գագաթն ունեցող երեք կողերի գումարից, բ) ուղղանկյունանիստի անկյունագծերը հավասար են:

Լուծում: ա) Յույց տանք, որ $ABCD A_1 B_1 C_1 D_1$ ուղղանկյունանիստի մեջ, ասենք, $A_1 C$ անկյունագիծը փոքր է AB , AD , AA_1 կողերի գումարից (նկ. 32): Նախ դիտենք ADC եռանկյունը: Ըստ եռանկյան անհավասարության՝ $AC < AD + DC$: Քանի որ DC -ն և AB -ն հավասար են՝ որպես ուղղանկյան հանդիպակաց կողմեր, ուրեմն՝ $AC < AD + AB$: Այժմ դիտենք $AA_1 C$ եռանկյունը: Ըստ եռանկյան անհավասարության՝ $A_1 C < A_1 A + AC$: Այսպիսով՝ $A_1 C < AA_1 + AB + AD$:

ԳԼՈՒԽ VI

Շրջանագիծ

§1

ԼԱՐԻ ՄԻՋՆԱԿԵՏՈՎ ԱՆՅՆՈՂ
ՇԱՌԱՎԻՂԸ

17. Երկու կետերով անցնող շրջանագիծ

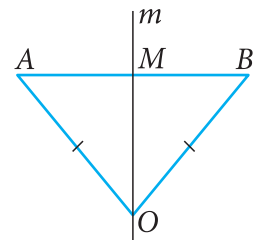
Շրջանագիծը և նրա մի քանի հատկությունները դուք արդեն ուսումնասիրել եք 7-րդ դասարանում: Հիշենք, որ շրջանագիծն այն երկրաչափական պատկերն է, որը կազմված է հարթության բոլոր այն կետերից, որոնք գտնվում են տրված կետից տրված հեռավորության վրա: Տրված կետը շրջանագծի կենտրոնն է, իսկ տրված հեռավորությունը հավասար է շառավիղի երկարությանը:

Նշենք, որ շրջանագիծը որոշելու կամ կառուցելու համար կարևոր է որոշել նրա կենտրոնը և շառավիղը:

Պարզաբանենք այն հարցը, թե կարող ենք արդյոք ստանալ շրջանագիծ, եթե տրված են երկու կետ, որոնցով այն անցնում է:

Նախ հիշենք հատվածի միջնուղղահայացի հատկությունը (հատվածին միջնուղղահայաց կառուցելը դուք գիտեք 7-րդ դասարանի դասընթացից): Հատվածի միջնուղղահայացի յուրաքանչյուր կետ հավասարահեռ է այդ հատվածի ծայրակետերից: Այժմ մենք ցույց տանք, որ տեղի ունի նաև հակադարձ պնդումը, այն է՝ **հատվածի ծայրակետերից հավասարահեռ յուրաքանչյուր կետ գտնվում է այդ հատվածի միջնուղղահայացի վրա:**

Դիտենք կամայական O կետ, որը հավասարահեռ է AB հատվածի ծայրակետերից. $OA = OB$ (նկ. 33): Դիցուք՝ M -ը AB հատվածի միջնակետն է, և այդ կետով անցնող m ուղիղը ուղղահայաց է AB -ին: Ցույց տանք, որ O կետը գտնվում է m ուղղի վրա:

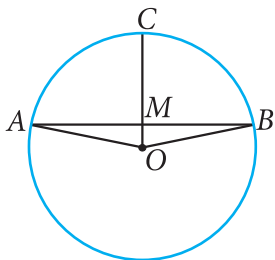


Նկ. 33

Եթե O կետը գտնվում է AB ուղղի վրա, և $AO = OB$, ապա պարզ է, որ O կետը համընկնում է M կետին և, ուրեմն, գտնվում է m ուղղի վրա: Եթե O կետը չի գտնվում AB ուղղի վրա, ապա A, B և O կետերով կարելի է կառուցել եռանկյուն: Դիտենք AOB հավասարասրուն եռանկյունը ($AO = OB$), որի AB հիմքին տարված միջնագիծը OM -ն է: Հետևաբար՝ OM հատվածը նաև բարձրությունն է. $OM \perp AB$: Ըստ ուղղին տրված կետով անցնող ուղղահայացի միակության՝ MO ուղիղը և m ուղիղը համընկնում են, այսինքն՝ O կետը գտնվում է m միջնուղղահայացի վրա:

Այժմ վերադառնանք մեր սկզբնական խնդրին: Եթե տրված են երկու՝ A և B կետեր, ապա այդ ծայրակետերով AB հատվածի միջնուղղահայացի վրա վերցված յուրաքանչյուր կետ կարող է դիտվել որպես մի շրջանագծի կենտրոն, որն անցնում է այդ երկու կետերով: Բայց քանի որ հատվածի միջնուղղահայացի վրա գտնվում են անվերջ քանակով կետեր, ուրեմն տրված երկու կետերով անցնող շրջանագծերի քանակը ևս անվերջ է:

18. Լարի միջնակետով անցնող շառավիղը



Նկ. 34

Պարզաբանենք հաճախակի կիրառություն ունեցող մի հարց. միմյանց նկատմամբ ինչպե՞ս են դասավորված շրջանագծի՝ տրամագիծ չհանդիսացող լարը և նրա միջնակետով անցնող շառավիղը:

Դիցուք՝ O կենտրոնով շրջանագծի OC շառավիղն անցնում է AB լարի M միջնակետով (Նկ. 34): Քանի որ շրջանագիծն անցնում է AB հատվածի ծայրակետերով, ապա շրջանագծի O կենտրոնը գտնվում է AB հատվածի միջնուղղահայացի վրա: Դրանից հետևում է, որ OM ուղիղը, ուրեմն նաև OC շառավիղը ուղղահայաց է AB լարին: Նմանապես կարելի է ցույց տալ, որ եթե OC շառավիղը ուղղահայաց է AB լարին և նրա հետ հատվում է M կետում, ապա M -ը AB հատվածի միջնակետն է:

Այսպիսով՝ ա) լարի միջնակետով անցնող շառավիղը ուղղահայաց է այդ լարին, բ) լարը հատող և նրան ուղղահայաց շառավիղն անցնում է այդ լարի միջնակետով:

19. Շրջանագծի որոշումը երեք կետերով

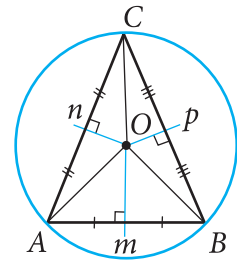
Պարզաբանենք, թե ինչպես է որոշվում այն շրջանագիծը, որն անցնում է տրված երեք կետերով: Հարցն այն է թե կարելի է արդյոք, շրջանագիծ տանել երեք կետերի ցանկացած դասավորության դեպքում:

Դիցուք՝ տրված են երեք՝ A, B և C կետեր, և պահանջվում է գտնել այնպիսի O կետ, որը հավասարահեռ է այդ երեք կետերից: Դա նույնն է, որ գտնենք այնպիսի O կետ, որը կարող է դիտվել որպես այդ երեք կետերով անցնող շրջանագծի կենտրոն:

Մենք արդեն գիտենք, որ A և B կետերով անցնող յուրաքանչյուր շրջանագծի կենտրոնը գտնվում է AB հատվածի m միջնուղղահայացի վրա: Նմանապես BC հատվածի n միջնուղղահայացի վրա է գտնվում B և C կետերով անցնող յուրաքանչյուր շրջանագծի կենտրոնը: Ուրեմն՝ որպեսզի շրջանագիծն անցնի A, B և C կետերով, նրա կենտրոնը միաժամանակ գտնվելու է ինչպես m , այնպես էլ n ուղղի վրա:

Քննարկենք երկու դեպք.

1. A, B և C կետերը գտնվում են մի ուղղի վրա: Այս դեպքում m և n ուղիղները զուգահեռ են՝ որպես միևնույն ուղղի ռուղահայաց ուղիղներ: Այն, որ m և n ուղիղները չեն հատվում, նշանակում է, որ գոյություն չունի այնպիսի կետ, որը հավասարահեռ է մի ուղղի վրա գտնվող երեք՝ A, B, C կետերից: Իսկ դրանից հետևում է, որ այդպիսի A, B և C կետերը չեն կարող գտնվել մի շրջանագծի վրա:



Նկ. 35

2. A, B և C կետերը մի ուղղի վրա չեն գտնվում: Այս դեպքում m և n ուղիղները հատվում են ինչ-որ մի O կետում, և $OA = OB$, $OB = OC$ (նկ. 35): Օգտվելով վերոհիշյալ հավասարություններից՝ ստանում ենք, որ $OA = OC$: Այսինքն՝ O կետը հավասարահեռ է նաև A և C կետերից, ուստի O կետը գտնվում է AC հատվածի p միջնուղղահայացի վրա ևս: Հենց O կետն էլ այն շրջանագծի կենտրոնն է, որն անցնում է A, B և C կետերով:

Այսպիսով՝ ա) մի ուղղի վրա գտնվող երեք կետերով շրջանագիծ չի անցնում, բ) մի ուղղի վրա չգտնվող երեք կե-

տերով անցնում է մի շրջանագիծ, որի կենտրոնը այդ կետերը միացնող հատվածներից որևէ երկուսի միջնորդահասցների հատման կետն է:

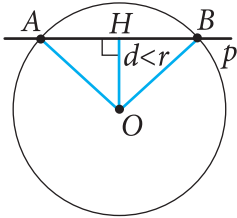
Բերված դատողություններից օգտվելով՝ կարող ենք նկարագրել, թե ինչպես կառուցել մի ուղղի վրա չգտնվող երեք կետերով անցնող շրջանագիծ: Դրա համար անհրաժեշտ է՝ ա) տանել այդ կետերը միացնող հատվածներից որևէ երկուսը, բ) կառուցել այդ հատվածների միջնորդահասցները և գտնել դրանց հատման կետը (շրջանագծի կենտրոնը), գ) կարկինի ծայրակետը դնել կենտրոնի վրա, տալ բացվածք՝ կենտրոնից մինչև տրված կետերից որևէ մեկի հեռավորության չափով և գծել շրջանագիծը:

Խնդիրներ

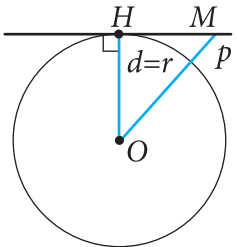
126. Ապացուցեք, որ հատվածի ծայրակետերով անցնող շրջանագծի կենտրոնը գտնվում է այդ հատվածի համաչափության առանցքի վրա:
127. Ապացուցեք, որ շրջանագծի կենտրոնից ելնող ճանապարհը շրջանագիծը հատում է մեկ կետում:
128. Կառուցեք տրված շառավիղով շրջանագիծ, որն անցնի տրված երկու կետերով: Այդպիսի քանի՞ շրջանագիծ է հնարավոր կառուցել: Խնդիրն արդյոք միշտ լուծում ունի:
129. Տրված ուղղի վրա գտեք այն կետը, որը հավասարահեռ է տրված երկու կետերից: Դիտարկեք բոլոր հնարավոր դեպքերը:
130. Տրված է մի շրջանագծի վրա գտնվող երեք կետ: Ապացուցեք, որ այդ կետերը չեն գտնվում մի ուղղի վրա:
131. Պարզաբանեք, թե հատվածի և կետի ինչպիսի՞ դասավորության դեպքում է հնարավոր տանել շրջանագիծ, որն անցնի տվյալ կետով և հատվածի ծայրակետերով:
132. Նկարագրեք չորս կետերի դասավորության որևէ դեպք, երբ այդ կետերով անցնող շրջանագիծ՝ ա) գոյություն ունի, բ) գոյություն չունի:

133. AB հատվածի A ծայրակետը գտնվում է O կենտրոնով շրջանագծի վրա: Հայտնի է, որ OAB անկյունը փոքր է OBA անկյունից: Ապացուցեք, որ B կետը չի գտնվում այդ շրջանագծի վրա:
134. AB հատվածը O կենտրոնով շրջանագծի տրամագիծն է, իսկ AC -ն և BC -ն այդ շրջանագծի հավասար լարեր են: Գտեք AOC անկյունը:
135. O կենտրոնով շրջանագծի A կետով տարված են AB տրամագիծը և AC լարը: Գտեք BC լարը, եթե հայտնի է, որ $OK = 4$ սմ, որտեղ K -ն AC լարի միջնակետն է:
136. A , B և C կետերով անցնող շրջանագծի կենտրոնը AB հատվածի միջնակետն է: Ապացուցեք, որ ACB անկյունը ուղիղ է:
137. A , B և C կետերով անցնող շրջանագծի կենտրոնը AB հատվածի միջնակետն է: Գտեք ABC անկյունը, եթե AC լարի երկարությունը հավասար է շրջանագծի շառավիղին:
138. Ապացուցեք, որ մի ուղղի վրա գտնվող երեք կամ ավելի կետերով շրջանագիծ չի անցնում:

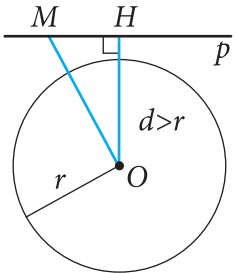
20. Շրջանագծի և ուղղի փոխադարձ դասավորությունը



ա)



բ)



գ)

Նկ. 36

Պարզաբանենք, թե քանի ընդհանուր կետ կարող են ունենալ շրջանագիծը և ուղիղը՝ կախված նրանց փոխդասավորությունից:

Պարզ է, որ եթե ուղիղն անցնում է շրջանագծի կենտրոնով, ապա այն շրջանագիծը հատում է երկու կետում, այն է՝ տվյալ ուղղի վրա գտնվող տրամագծի ծայրակետերում:

Դիցուք՝ p ուղիղը չի անցնում r շառավիղով շրջանագծի O կենտրոնով: Տանենք p ուղղին OH ուղղահայացը և այդ ուղղահայացի երկարությունը, այն է՝ O կենտրոնից p ուղղի հեռավորությունը, նշանակենք d (Նկ. 36): Ուղղի և շրջանագծի փոխադարձ դասավորությունը ուսումնասիրենք՝ համեմատելով d -ն և r -ը: Դիտարկենք երեք դեպք:

1. $d < r$: Այս դեպքում p ուղղին O կետից տարված OH ուղղահայացը փոքր է r -ից: Մյուս կողմից՝ նույն O կետից p ուղղին կարելի է տանել d -ից մեծ ցանկացած երկարությամբ թեքեր: Ուրեմն՝ կարող ենք պատկերացնել, որ գոյություն ունի այնպիսի OA թեք, որի երկարությունը r է: Իսկ դա նշանակում է, որ A կետը գտնվում է շրջանագծի վրա: Բայց շրջանագծի վրա է գտնվում նաև A կետի համաչափ B կետը՝ OH առանցքի նկատմամբ (կարող եք համոզվել, որ եթե $HB = HA$, ապա OHB և OHA ուղղանկյուն եռանկյունները հավասար են, և, ուրեմն, $OB = OA = r$):

Ապացուցենք, որ p ուղիղը և տրված շրջանագիծը, նշված A և B կետերից բացի, ուրիշ ընդհանուր կետեր չունեն: Եթե ենթադրենք, որ դրանք ունեն ևս մեկ այլ ընդհանուր C կետ, ապա կստացվի, որ O կետը գտնվում է AC հատվածի միջնուղղահայացի վրա: Իսկ դրանից կհետևի, որ O կետից p ուղղին հնարավոր է տանել երկու ուղղահայաց, որը հնարավոր չէ:

Այսպիսով՝ եթե շրջանագծի կենտրոնից մինչև ուղիղը եղած հեռավորությունը փոքր է շրջանագծի շառավիղից ($d < r$), ապա այդ ուղիղը և շրջանագիծն ունեն երկու ընդհանուր կետեր: Այդպիսի ուղիղը կոչվում է շրջանագծին հատող:

2. $d = r$: Այս դեպքում $OH = r$, այսինքն՝ H կետը գտնվում է շրջանագծի վրա, և, ուրեմն, այն շրջանագծի և ուղղի ընդհանուր կետ է (նկ. 36(բ)): p ուղիղը և շրջանագիծը այլ ընդհանուր կետ չունեն: Ուղղի՝ H -ից տարբեր յուրաքանչյուր M կետի համար $OM > OH = r$ (OH ուղղահայացը փոքր է OM թեքից): Հետևաբար՝ M կետը շրջանագծի վրա չի գտնվում:

Այսպիսով՝ եթե շրջանագծի կենտրոնից մինչև ուղիղը եղած հեռավորությունը հավասար է շրջանագծի շառավիղին, ապա ուղիղը և շրջանագիծն ունեն միայն մեկ ընդհանուր կետ:

3. $d > r$: Այս դեպքում $OH > r$, ուրեմն՝ p ուղղի ցանկացած M կետի համար $OM \geq OH > r$ (նկ. 36(գ)): Հետևաբար՝ M կետը շրջանագծի վրա չի գտնվում:

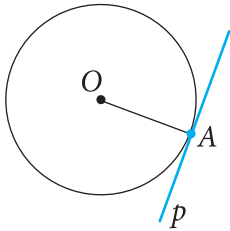
Այսպիսով՝ եթե շրջանագծի կենտրոնից մինչև ուղիղը եղած հեռավորությունը մեծ է շրջանագծի շառավիղից, ապա այդ ուղիղը և շրջանագիծը ընդհանուր կետ չունեն:

21. Շրջանագծի շոշափող

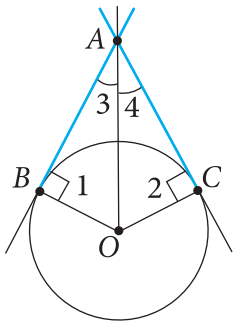
Մենք պարզաբանեցինք, որ ուղիղը և շրջանագիծը կարող են ունենալ մեկ կամ երկու ընդհանուր կետ, կարող են նաև չունենալ որևէ ընդհանուր կետ: Ուղիղը, որը շրջանագծի հետ ունի միայն մեկ ընդհանուր կետ, կոչվում է այդ շրջանագծի շոշափող, իսկ նրանց ընդհանուր կետը կոչվում է ուղղի և շրջանագծի շոշափման կետ: Նկար 37-ում p ուղիղը O կենտրոնով շրջանագծի շոշափող է, իսկ A -ն՝ շոշափման կետ:

Ապացուցենք թեորեմ շոշափողի հատկության մասին:

Թեորեմ: Շրջանագծի շոշափողն ուղղահայաց է շոշափման կետով տարված շառավիղին:



Նկ. 37



Նկ. 38

Ապացուցում: Դիցուք՝ p -ն O կենտրոնով շրջանագծի շոշափողն է, իսկ A -ն՝ շոշափման կետը (*տես նկ. 37*): Ապացուցենք, որ p շոշափողը ուղղահայաց է OA շառավիղին:

Ենթադրենք այդպես չէ: Այդ դեպքում OA -ն կլինի p ուղղին տարված թեք: Քանի որ O կետից p ուղղին տարված ուղղահայացը փոքր է OA թեքից, ապա ստացվում է, որ շրջանագծի O կենտրոնի հեռավորությունը p ուղղից ավելի փոքր է, քան շառավիղը: Հետևաբար՝ p ուղիղը և շրջանագիծը կունենան երկու ընդհանուր կետեր: Բայց դա հակասում է պայմանին, ըստ որի՝ p ուղիղը շոշափող է: Այսպիսով՝ p ուղիղը ուղղահայաց է OA շառավիղին:

Թեորեմն ապացուցված է:

Դիտարկենք O կենտրոնով շրջանագծի երկու շոշափողներ, որոնք անցնում են A կետով և շրջանագիծը շոշափում են B և C կետերում (*նկ. 38*): AB և AC հատվածներն անվանենք A կետից քարտեզ շոշափողների հատվածներ: Դրանք օժտված են հետևյալ հատկությամբ, որը բխում է ապացուցված թեորեմից:

Միևնույն կետից շրջանագծին տարված երկու շոշափողների հատվածները հավասար են և կազմում են հավասար անկյուններ այն ուղղի հետ, որն անցնում է այդ կետով և շրջանագծի կենտրոնով:

Այս պնդումն ապացուցելու համար դիտենք նկար 38-ը: Ըստ շոշափողի մասին թեորեմի՝ անկյուններ 1-ը և 2-ը ուղիղ են, ուրեմն՝ ABO և ACO եռանկյունները ուղղանկյուն եռանկյուն են: Դրանք հավասար եռանկյուններ են, քանի որ ունեն OA ընդհանուր ներքնաձիգ և OB և OC հավասար էջեր: Հետևաբար՝ $AB = AC$, և $\angle 3 = \angle 4$, ինչը և պահանջվում էր ապացուցել:

Այժմ ապացուցենք շոշափողի հատկության մասին թեորեմի հակադարձ թեորեմը (*շոշափողի հայտանիշը*):

Թեորեմ: Եթե ուղիղն անցնում է շառավիղի՝ շրջանագծի վրա գտնվող ծայրակետով և ուղղահայաց է այդ շառավիղին, ապա այն շոշափող է:

Ապացուցում: Թեորեմի պայմանից հետևում է, որ այդ շառավիղը շրջանագծի կենտրոնից տվյալ ուղղին տարված ուղղահայացն է: Ուրեմն շրջանագծի կենտրոնից մինչև այդ ուղիղը եղած հեռավորությունը հավասար է շառավիղին: Հետևաբար՝ շրջանագիծը և այդ ուղիղը ունեն միայն մեկ ընդհանուր կետ: Բայց դա հենց նշանակում է, որ տվյալ ուղիղը շրջանագծի շոշափող է: **Թեորեմն ապացուցված է:**

Այս թեորեմի հիման վրա լուծվում են շոշափողի կա-
ռուցման խնդիրները: Լուծենք այդպիսի խնդիրներից
մեկը:

Խնդիր: O կենտրոնով շրջանագծի վրա տրված A կե-
տով տանել այդ շրջանագծի շոշափող:

Լուծում: Տանենք OA ուղիղը, իսկ այնուհետև կառու-
ցենք p ուղիղը, որն անցնում է A կետով և ուղղահայաց է
 OA ուղիղին: Ըստ շոշափողի հայտանիշի՝ p ուղիղը որոնե-
լի շոշափողն է:

Խնդիրներ

139. Դիցուք՝ d -ն r շառավիղով շրջանագծի կենտրոնի
հեռավորությունն է p ուղղից: Ինչպե՞ս են միմյանց
նկատմամբ դասավորված շրջանագիծը և p ուղի-
ղը, եթե՝ ա) $r = 16$ սմ, $d = 12$ սմ, բ) $r = 5$ սմ, $d = 4,2$ սմ,
գ) $r = 7,2$ դմ, $d = 3,7$ դմ, դ) $r = 8$ սմ, $d = 1,2$ դմ, ե)
 $r = 5$ սմ, $d = 50$ մմ:
140. A կետի և շրջանագծի կենտրոնի հեռավորությունը
փոքր է շրջանագծի շառավիղից: Ապացուցեք, որ A
կետով անցնող յուրաքանչյուր ուղիղ այդ շրջա-
նագծի հատող է:
141. ABC եռանկյան մեջ $AB = 10$ սմ, $\angle C = 90^\circ$, $\angle B = 30^\circ$:
Պահանջվում է տանել A կենտրոնով շրջանագիծ:
Ինչպիսի՞ն պետք է լինի այդ շրջանագծի շառավի-
ղը, որպեսզի BC ուղիղը՝ ա) շոշափի շրջանագիծը,
բ) շրջանագծի հետ չունենա ընդհանուր կետ,
գ) շրջանագծի հետ ունենա ընդհանուր կետեր:
142. Տրված է $ABCD$ քառակուսին, որի անկյունագիծը
6 սմ է: Տանել շրջանագիծ, որի կենտրոնը լինի
 A -ն: Ի՞նչ երկարություն պետք է ունենա շրջանա-
գծի շառավիղը, որպեսզի BD անկյունագիծն ընդ-
գրկող ուղիղը լինի՝ ա) շրջանագծի շոշափող, բ) շրջա-
նագծի հատող:

143. AB և CD հատվածները O կենտրոնով շրջանագծի տրամագծեր են: Հաշվեք AOD եռանկյան պարագիծը, եթե հայտնի է, որ $CB = 13$ սմ, $AB = 16$ սմ:
144. O կենտրոնով շրջանագծի OM շառավիղն անցնում է AB լարի միջնակետով: Ապացուցեք, որ շրջանագծի M կետով տարված շոշափողը զուգահեռ է AB լարին:
145. Շրջանագծի A կետով տարված են շոշափող և շառավիղին հավասար լար: Գտեք դրանց կազմած անկյունը:
146. Շրջանագծի շառավիղին հավասար AB լարի ծայրակետերով տարված են այդ շրջանագծի շոշափողներ, որոնք հատվում են C կետում: Գտեք ABC եռանկյան անկյունները:
147. AB տրամագծի և AC լարի կազմած անկյունը 30° է: C կետով տարված է շրջանագծի շոշափող, որը AB ուղիղը հատում է D կետում: Ապացուցեք, որ ACD եռանկյունը հավասարասրուն է:
148. AB ուղիղը B կետում շոշափում է O կենտրոնով և $r = 1,5$ սմ շառավիղով շրջանագիծը: Գտեք ABO եռանկյան անկյունները, եթե $AO = 3$ սմ:
149. Տրված է O կենտրոնով և $4,5$ սմ շառավիղով շրջանագիծ: A կետն այնպիսին է, որ $AO = 9$ սմ: A կետով տարված են այդ շրջանագծի երկու շոշափողներ: Գտեք դրանց կազմած անկյունը:
150. AB -ն և AC -ն O կենտրոնով շրջանագծին A կետից տարված շոշափողների հատվածներն են: Գտեք BAC անկյունը, եթե AO հատվածի միջնակետը գտնվում է այդ շրջանագծի վրա:
151. MA և MB ուղիղները A և B կետերում շոշափում են O կենտրոնով շրջանագիծը: C կետը O կետի համաչափն է B կետի նկատմամբ: Ապացուցեք, որ $\angle AMC = 3\angle BMC$:
152. Տրված շրջանագծի AB տրամագծի ծայրակետերից տարված են AA_1 և BB_1 ուղղահայացներ շրջանագծի այն շոշափողին, որն ուղղահայաց չէ այդ AB

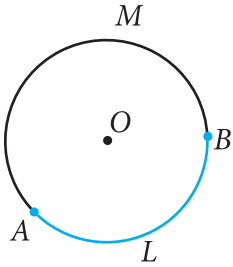
տրամագծին: Ապացուցեք, որ շոշափման կետը A_1B_1 հատվածի միջնակետն է:

153. Տրված է 10 սմ շառավիղով շրջանագիծ և մի կետ, որի հեռավորությունը շրջանագծի կենտրոնից 3 սմ է: Գտեք այդ կետից մինչև շրջանագծի կետերը եղած ամենամեծ և ամենափոքր հեռավորությունները: Հիմնավորեք պատասխանը:

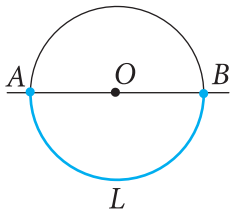
154. ABC եռանկյան B անկյունն ուղիղ է: Ապացուցեք, որ՝ ա) BC ուղիղը A կենտրոնով և AB շառավիղով շրջանագծի շոշափող է, բ) AB ուղիղը C կենտրոնով և CB շառավիղով շրջանագծի շոշափող է, գ) AC ուղիղը B կենտրոնով և BA , BC շառավիղներով շրջանագծերի շոշափող չէ:

155. Կառուցեք շրջանագծի շոշափող, որը՝ ա) զուգահեռ է տրված ուղղին, բ) ուղղահայաց է տրված ուղղին:

22. Շրջանագծի աղեղի աստիճանային չափը

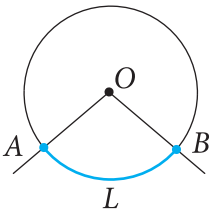


Նկ. 39



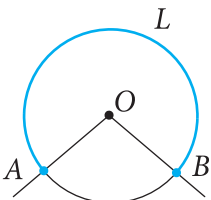
$$\cup ALB = 180^\circ$$

ա)



$$\cup ALB = \angle AOB$$

բ)



$$\cup ALB = 360^\circ - \angle AOB$$

գ)

Նկ. 40

Շրջանագծի վրա նշենք երկու կետ՝ A -ն և B -ն: Դրանք շրջանագիծը տրոհում են երկու աղեղի: Այդ աղեղները տարբերելու համար նրանցից յուրաքանչյուրի վրա նշենք միջանկյալ կետ, օրինակ՝ L -ը և M -ը (Նկ. 39): Աղեղները նշանակվում են այսպես՝ $\cup ALB$ և $\cup AMB$: Երբեմն նշանակվում են նաև առանց միջանկյալ տառի՝ $\cup AB$ (երբ պարզ է լինում, թե խոսքը աղեղներից որի մասին է):

Աղեղը կոչվում է *կիսաշրջանագիծ*, եթե նրա ծայրերը միացնող հատվածը այդ շրջանագծի տրամագիծ է: 40(ա) նկարում պատկերված են երկու կիսաշրջանագիծ, որոնցից մեկը նշագծված է կապույտ գծով:

Անկյունը, որի գագաթը շրջանագծի կենտրոնն է, կոչվում է նրա *կենտրոնային անկյուն*: Դիցուք՝ O կենտրոնով շրջանագծի կենտրոնային անկյան կողմերը շրջանագիծը հատում են A և B կետերում: AOB կենտրոնային անկյանը համապատասխանում են A և B ծայրերով երկու աղեղ (Նկ. 40): Եթե $\angle AOB$ -ն փոքր է, ապա նրան համապատասխանում են երկու կիսաշրջանագիծ (Նկ. 40(ա)): Եթե $\angle AOB$ -ն չփոքր է, ապա ասում են, որ այդ անկյան ներսում ընկած AB աղեղը *փոքր է կիսաշրջանագծից*: 40(բ) նկարում այդ աղեղը նշագծված է կապույտ գծով: A և B ծայրերով մյուս աղեղի մասին ասում են, որ այն մեծ է *կիսաշրջանագծից* (աղեղ ALB -ն՝ 40(գ) նկարում):

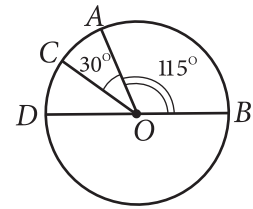
Շրջանագծի աղեղը կարելի է չափել աստիճաններով: Եթե O կենտրոնով շրջանագծի AB աղեղը փոքր է կիսաշրջանագծից կամ կիսաշրջանագիծ է, ապա համարվում է, որ նրա աստիճանային չափը հավասար է AOB կենտրոնային անկյան աստիճանային չափին (յլևս Նկ. 40(ա,բ)):

Իսկ եթե AB աղեղը մեծ է կիսաշրջանագծից, ապա համարվում է, որ նրա աստիճանային չափը հավասար է $360^\circ - \angle AOB$ (տես նկ. 40(գ)):

Այստեղից հետևում է, որ շրջանագծի՝ ընդհանուր ծայրեր ունեցող երկու աղեղների աստիճանային չափերի գումարը 360° է:

Ինչպես AB աղեղի (ALB աղեղի) աստիճանային չափը, այնպես էլ AB աղեղը (ALB աղեղը) նշանակվում են նույն $\cup AB$ ($\cup ALB$) պայմանանշանով:

Նկար 41-ում CAB աղեղի աստիճանային չափը հավասար է 145° : Սովորաբար համառոտ ասում են՝ CAB աղեղը հավասար է 145° կամ պարզապես՝ CAB աղեղը 145° է, և գրում են՝ $\cup CAB = 145^\circ$: Այդ նույն նկարում $\cup ADB = 360^\circ - 115^\circ = 245^\circ$, $\cup CDB = 360^\circ - 145^\circ = 215^\circ$, $\cup DB = 180^\circ$:

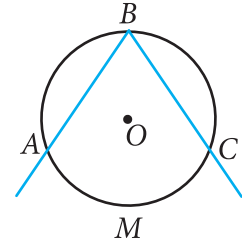


Նկ. 41

23. Թեորեմ ներգծյալ անկյան մասին

Այն անկյունը, որի գագաթը գտնվում է շրջանագծի վրա, իսկ կողմերը հատում են այդ շրջանագիծը, կոչվում է ներգծյալ անկյուն:

Նկար 42-ում ABC անկյունը ներգծյալ է: AMC աղեղն ընկած է այդ անկյան ներսում: Այդպիսի դեպքերում ասում են, որ ABC ներգծյալ անկյունը հենվում է AMC աղեղի վրա: Ապացուցենք թեորեմ ներգծյալ անկյան մասին:



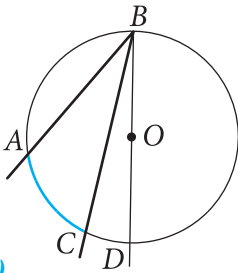
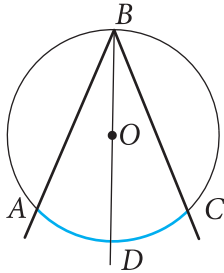
Նկ. 42

Թեորեմ: Ներգծյալ անկյունը չափվում է այն աղեղի կեսով, որի վրա նա հենվում է:

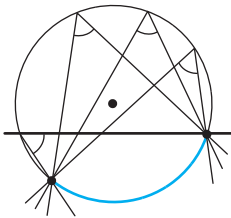
Ապացուցում: Դիցուք՝ $\angle ABC$ -ն O կենտրոնով շրջանագծի ներգծյալ անկյունն է, որը հենվում է AC աղեղի վրա (նկ. 43): Ապացուցենք, որ $\angle ABC = \frac{1}{2} \cup AC$:

Դիտարկենք BO ճառագայթի՝ ABC անկյան նկատմամբ դասավորության հնարավոր երեք դեպք:

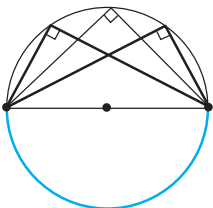
1. BO ճառագայթը համընկնում է ABC եռանկյան կողմերից մեկին, օրինակ՝ BC կողմին (նկ. 43(ա)): Այս դեպքում AC աղեղը փոքր է կիսաշրջանագծից, ուրեմն՝



*υ*4. 43



*υ*η. 44



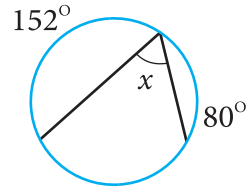
ۛۛ. 45

Հետևանք 2. Կիսաշրջանագծին հենված ներգծյալ անկյունը ուղիղ է (նկ. 45):

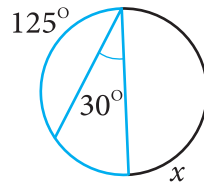
Խնդիրներ

156. Գծագրեք O կենտրոնով շրջանագիծ և նրա վրա նշեք A կետը: AB լարը կառուցեք այնպես, որ՝
ա) $\angle AOB = 60^\circ$, բ) $\angle AOB = 90^\circ$,
գ) $\angle AOB = 120^\circ$, դ) $\angle AOB = 180^\circ$:
157. O կենտրոնով շրջանագծի շառավիղը 16 սմ է: Գտեք AB լարը, եթե՝ ա) $\angle AOB = 60^\circ$, բ) $\angle AOB = 180^\circ$:

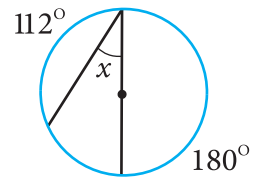
158. O կենտրոնով շրջանագծի AB և CD լարերը հավասար են: ա) Ապացուցեք, որ A և B ծայրերով երկու աղեղները համապատասխանաբար հավասար են C և D ծայրերով երկու աղեղներին: բ) Գտեք C և D ծայրերով աղեղները, եթե $\angle AOB = 112^\circ$:
159. AB կիսաշրջանագծի վրա վերցված են C և D կետերն այնպես, որ $\cup AC = 57^\circ$, $\cup BD = 63^\circ$: Գտեք CD լարը, եթե շրջանագծի շառավիղը 12 սմ է:
160. Գտեք ABC ներգծյալ անկյունը, եթե AC աղեղը, որի վրա այն հենվում է, հավասար է՝ ա) 48° , բ) 57° , գ) 90° , դ) 124° , ե) 180° :
161. Ըստ նկար 46-ի տվյալների՝ գտեք x -ը:
162. AOB կենտրոնային անկյունը 30° -ով մեծ է AB աղեղին հենված ներգծյալ անկյունից: Գտեք այդ անկյուններից յուրաքանչյուրը:
163. AB լարը ձգում է 115° -ի հավասար աղեղ, իսկ AC լարը՝ 43° -ի աղեղ: Գտեք BAC անկյունը:
164. Շրջանագիծը A և B կետերով տրոհվում է երկու աղեղի, որոնց աստիճանային չափերը հարաբերում են, ինչպես 6 : 4: Գտեք այդ աղեղների աստիճանային չափերը:
165. A և B կետերը շրջանագիծը տրոհում են երկու աղեղի, որոնցից փոքրը 140° է, իսկ մեծը M կետով տրոհված է 6 : 5 հարաբերությամբ՝ հաշված A կետից: Գտեք BAM անկյունը:
166. A , B և C կետերը գտնվում են O կենտրոնով շրջանագծի վրա: Գտեք ABC անկյունը, եթե $\angle AOC = 146^\circ$, իսկ B և O կետերը գտնվում են AC ուղղի միևնույն կողմում:
167. A , B և C կետերը գտնվում են O կենտրոնով շրջանագծի վրա: Գտեք ABC անկյունը, եթե $\angle AOC = 164^\circ$, իսկ B և O կետերը գտնվում են AC ուղղի տարբեր կողմերում:
168. O կենտրոնով շրջանագծի AB աղեղը 90° է: Գտեք O կետի հեռավորությունը AB լարից, եթե $AB = 24$ սմ:



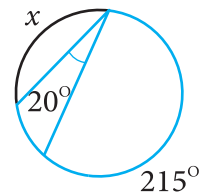
ա)



բ)



գ)



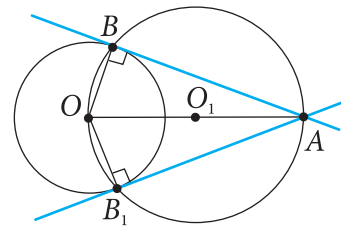
դ)

Նկ. 46

169. O կենտրոնով շրջանագծի AB աղեղը 120° է: Գտեք O կետի հեռավորությունը AB լարից, եթե շրջանագծի շառավիղը 20 սմ է:
170. AB -ն և AC -ն շրջանագծի լարեր են: $\angle BAC = 70^\circ$, $\angle AOB = 120^\circ$: Գտեք AC աղեղի աստիճանային չափը:
171. Շրջանագծում տարված են AB տրամագիծը և AC լարը: Գտեք BAC անկյունը, եթե կիսաշրջանագիծը C կետով տրոհվում է AC և CB աղեղների, որոնց աստիճանային չափերը հարաբերում են, ինչպես $7 : 2$:
172. Շրջանագծի AB և CD լարերը հատվում են E կետում: Գտեք BEC անկյունը, եթե $\angle AED = 54^\circ$, $\angle BCD = 70^\circ$:
173. AB -ն շրջանագծի տրամագիծն է: Շրջանագծի վրա վերցված է C կետն այնպես, որ BC լարը հավասար է շրջանագծի շառավիղին: Գտեք ABC եռանկյան անկյունները:
174. A կետով տարված են շրջանագծին AB շոշափողը (B -ն շոշափման կետն է) և AD հատողը, որն անցնում է նաև O կենտրոնով (D -ն շրջանագծի կետ է, ընդ որում՝ O -ն գտնվում է A և D կետերի միջև): Գտեք $\angle BAD$ -ն և $\angle ADB$ -ն, եթե $\angle BOD = 110^\circ 20'$:
175. Ապացուցեք, որ շրջանագծի՝ զուգահեռ լարերի միջև առնված աղեղների աստիճանային չափերը հավասար են:
176. Շրջանից դուրս վերցված կետից այդ շրջանագծին տարված են երկու հատող, որոնց կազմած անկյունը 32° է: Շրջանագծի՝ այդ անկյան կողմերի միջև առնված աղեղներից մեծը հավասար է 100° : Գտեք փոքր աղեղը:
177. Գտեք շրջանից դուրս վերցված կետից այդ շրջանագծին տարված երկու հատողներով կազմված սուր անկյունը, եթե շրջանագծի՝ հատողների միջև առնված աղեղները հավասար են 140° և 52° :
178. AC հատվածը շրջանագծի տրամագիծ է, AB -ն՝ լար, MA -ն՝ շոշափող, և MAB անկյունը սուր է: Ապացուցեք, որ $\angle MAB = \angle ACB$:

179. AM ուղիղը շրջանագծի շոշափող է, իսկ AB -ն՝ այդ շրջանագծի լար: Ապացուցեք, որ MAB անկյունը չափվում է MAB անկյան ներսում առնված AB աղեղի կեսով:
180. ABC եռանկյան գագաթները գտնվում են շրջանագծի վրա: Ապացուցեք, որ եթե AB -ն շրջանագծի տրամագիծ է, ապա $\angle C > \angle A$ և $\angle C > \angle B$:
181. Տրված են մի հատված և մի անկյուն: Կառուցեք շրջանագիծն այնպես, որ այդ հատվածը լինի նրա այն լարը, որի ձգած աղեղի աստիճանային չափը հավասար է տրված անկյանը:
182. Կառուցեք տրված շրջանագծի շոշափողը, որն անցնում է այդ շրջանից դուրս տրված կետով:

Լուծում: Դիցուք՝ տրված են O կենտրոնով շրջանագիծը և շրջանից դուրս գտնվող A կետը: Ենթադրենք, որ խնդիրը լուծված է, և AB -ն որոնելի շոշափողն է (նկ. 47): Քանի որ AB ուղիղը ուղղահայաց է OB շառավիղին, ապա խնդրի լուծումը հանգում է շրջանագծի այն B կետի կառուցմանը, որի համար $\angle ABO$ -ն ուղիղ է: Այդ կետը կարելի է կառուցել հետևյալ կերպ. տանում ենք OA հատվածը և որոշում նրա O_1 միջնակետը: Այնուհետև կառուցում ենք O_1 կենտրոնով և O_1A շառավիղով շրջանագիծը: Այդ շրջանագիծը տրված շրջանագծի հետ հատվում է երկու՝ B և B_1 կետերում: AB -ն և AB_1 -ը որոնելի շոշափողներն են, քանի որ $AB \perp OB$ և $AB_1 \perp OB_1$: Իսկապես՝ ABO և AB_1O անկյուններից յուրաքանչյուրը O_1 կենտրոնով շրջանագծի ներգծյալ անկյուն է, որը հենվում է կիսաշրջանագծի վրա: Ակներև է, որ խնդիրն ունի երկու լուծում:

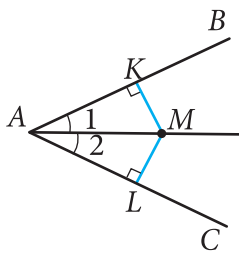


Նկ. 47

24. Անկյան կիսորդի և հատվածի միջնորդահայացի հատկությունները

Ապացուցենք թեորեմ անկյան կիսորդի մասին:

Թեորեմ: Չփոփած անկյան կիսորդի յուրաքանչյուր կետ հավասարահեռ է անկյան կողմերից¹: Հակադարձը՝ անկյան ներսում գտնվող և նրա կողմերից հավասարահեռ յուրաքանչյուր կետ գտնվում է այդ անկյան կիսորդի վրա:



Նկ. 48

Ապացուցում: 1. BAC անկյան կիսորդի վրա վերցնենք կամայական M կետ, տանենք AB և AC ուղիղներին ուղղահայացներ՝ MK -ն և ML -ը: Ապացուցենք, որ $MK = ML$ (նկ. 48):

Դիտարկենք AMK և AML ուղղանկյուն եռանկյունները: Այդ եռանկյունները, ըստ ներքնաձիգի և սուր անկյան, հավասար են (AM -ը ընդհանուր ներքնաձիգ է, ըստ պայմանի՝ $\angle 1 = \angle 2$): Հետևաբար՝ $MK = ML$:

2. Դիցուք՝ M կետը գտնվում է BAC անկյան ներսում և հավասարահեռ է AB և AC կողմերից: Ապացուցենք, որ AM ճառագայթը BAC անկյան կիսորդն է (նկ. 48):

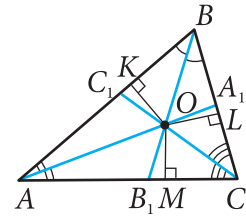
Տանենք AB և AC ուղիղներին ուղղահայացներ՝ MK -ն և ML -ը: AKM և ALM ուղղանկյուն եռանկյունների AM ներքնաձիգը ընդհանուր է, իսկ MK և ML էջերը, ըստ պայմանի, հավասար են: Ուրեմն՝ այդ եռանկյունները հավասար են, հետևաբար՝ $\angle 1 = \angle 2$: Իսկ դա նշանակում է, որ AM ճառագայթը BAC անկյան կիսորդն է: **Թեորեմն ապացուցված է:**

Հետևանք: Եռանկյան կիսորդները հատվում են մի կետում:

Իրոք, O տառով նշանակենք ABC եռանկյան AA_1 և BB_1 կիսորդների հատման կետը և այդ կետից տանենք OK ,

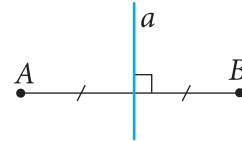
¹ Այսինքն՝ հավասարահեռ է անկյան կողմերն ընդգրկող ուղիղներից:

OL և OM ուղղահայացները համապատասխանաբար AB , BC և CA ուղիղներին (նկ. 49): Ըստ անկյան կիսորդի հատկության՝ $OK = OM$ և $OK = OL$: Հետևաբար՝ $OM = OL$, ինչը նշանակում է, որ O կետը հավասարահեռ է ABC եռանկյան CA և CB կողմերից: Ուրեմն՝ այդ կետը գտնվում է CC_1 կիսորդի վրա: Հետևաբար՝ ABC եռանկյան երեք կիսորդն էլ հատվում են նույն O կետում, ինչը և պահանջվում էր ապացուցել:



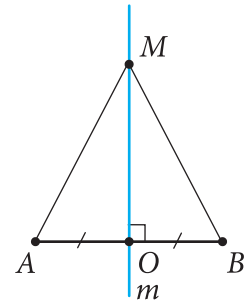
Նկ. 49

Ինչպես գիտենք, *հատվածի միջնուղղահայաց* կոչվում է այն ուղիղը, որն անցնում է հատվածի միջնակետով և ուղղահայաց է նրան: Նկար 50-ում պատկերված a ուղիղը AB հատվածի միջնուղղահայացն է: Յուրաքանչյուր հատվածի միջնուղղահայացը միակն է:



Նկ. 50

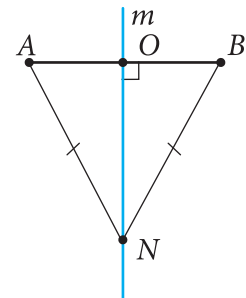
Մենք արդեն գիտենք հատվածի միջնուղղահայացի հատկությունը (*տե՛ս 17-րդ կետը*), ըստ որի՝ հատվածի միջնուղղահայացի յուրաքանչյուր կետ հավասարապես է հեռացված այդ հատվածի ծայրակետերից (*տե՛ս նկ. 51*): Ճշմարիտ է նաև հակադարձը. յուրաքանչյուր կետ, որ հավասարահեռ է հատվածի ծայրակետերից, գտնվում է այդ հատվածի միջնուղղահայացի վրա:



ա)

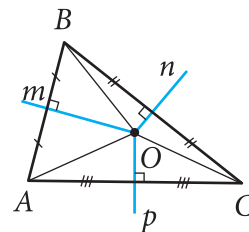
Օգտվելով հատվածի միջնուղղահայացի հատկությունից՝ կարող ենք կատարել մի կարևոր եզրակացություն. **եռանկյան կողմերի միջնուղղահայացները հատվում են մի կետում:**

Իրոք, O տառով նշանակենք ABC եռանկյան AB և BC կողմերի m և n միջնուղղահայացների հատման կետը (նկ. 52, քանի որ AB և BC ուղիղները *հատվում են, ուրեմն հատվում են նաև m -ը և n -ը*): Ըստ հատվածի միջնուղղահայացի հատկության՝ $OB = OA$ և $OB = OC$: Ուրեմն՝ $OA = OC$, ինչը նշանակում է, որ O -ն հավասարապես է հեռացված AC հատվածի ծայրակետերից: Հետևաբար՝ այն գտնվում է այդ հատվածի միջնուղղահայացի՝ p -ի վրա: Այսպիսով՝ ABC եռանկյան կողմերի բոլոր երեք՝ m , n և p միջնուղղահայացները հատվում են միևնույն O կետում:

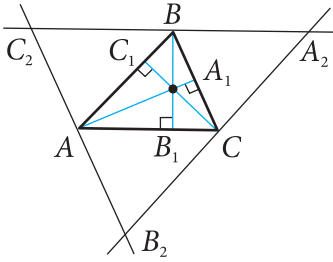


բ)

Նկ. 51



Նկ. 52



Նկ. 53

25. Թեորեմ եռանկյան բարձրությունների հատման կետի մասին

Մենք ապացուցել ենք, որ եռանկյան կողմերի միջնուղղահայացները հատվում են մի կետում: Մի կետում են հատվում նաև կիսորդները: Պարզվում է, որ նույնպիսի հատկություն ունեն նաև եռանկյան բարձրությունները:

Թեորեմ: Եռանկյան բարձրությունները (կամ նրանց շարունակությունները) հատվում են մի կետում:

Ապացուցում: Դիտարկենք կամայական ABC եռանկյուն և ապացուցենք, որ նրա բարձրություններն ընդգրկող AA_1 , BB_1 և CC_1 ուղիղները հատվում են մի կետում (նկ. 53):

ABC եռանկյան յուրաքանչյուր գագաթից տանենք հանդիպակաց կողմին զուգահեռ ուղիղ: Ստացվում է $A_2B_2C_2$ եռանկյունը: A , B և C կետերը ստացված եռանկյան կողմերի միջնակետերն են: Իսկապես, $AB = A_2C$ և $AB = CB_2$, որպես ABA_2C և $ABCB_2$ զուգահեռագծերի հանդիպակաց կողմեր: Ուստի՝ $A_2C = CB_2$: Նույն ձևով՝ $C_2A = AB_2$ և $C_2B = BA_2$: Բացի այդ, ինչպես հետևում է կառուցումից, $CC_1 \perp A_2B_2$, $AA_1 \perp B_2C_2$ և $BB_1 \perp A_2C_2$: Այսպիսով՝ AA_1 , BB_1 և CC_1 ուղիղները $A_2B_2C_2$ եռանկյան կողմերի միջնուղղահայացներն են: Հետևաբար՝ դրանք հատվում են մի կետում: **Թեորեմն ապացուցված է:**

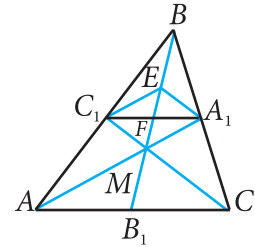
26. Եռանկյան միջնագծերի հատման կետը

Պարզվում է, որ եռանկյան միջնագծերն օժտված են բացառիկ հատկությամբ: Այդ հատկությանը հանգամանորեն կանդրադառնանք հետագայում, միայն նշենք, որ յուրաքանչյուր եռանկյան երեք միջնագիծը հատվում են մի կետում:

Դիցուք՝ ABC եռանկյան մեջ AA_1 և CC_1 միջնագծերը հատվում են M կետում (նկ. 54): Ապացուցենք, որ այդ M կետով անցնող BB_1 հատվածը եռանկյան երրորդ միջնա-

գիծն է: Դրա համար նախ ցույց տանք, որ BB_1 հատվածը ABC եռանկյան C_1A_1 միջին գիծը հատում է նրա F միջնակետում, այսինքն՝ ապացուցենք, որ $C_1F = FA_1$: AB կողմի C_1 միջնակետով տանենք AA_1 -ին զուգահեռ C_1E հատվածը: Ըստ Թալեսի թեորեմի՝ $BE = EM$: Դրանից հետևում է, որ $EA_1 \parallel MC$ (BCM եռանկյան մեջ EA_1 -ը միջին գիծ է): Ստացվեց, որ C_1EA_1M քառանկյան հանդիպակաց կողմերը զույգ առ զույգ զուգահեռ են, և, ուրեմն, այն զուգահեռագիծ է: Քանի որ F կետը այդ զուգահեռագծի անկյունագծերի հատման կետն է, ապա $C_1F = FA_1$: Այժմ դիտարկենք ABB_1 և CBB_1 եռանկյունները, որոնց մեջ C_1F -ը և A_1F -ը համապատասխանաբար միջին գիծ են: Ստանում ենք՝ $AB_1 = 2C_1F = 2FA_1 = B_1C$, այսինքն՝ $AB_1 = B_1C$: Այսպիսով՝ M կետով անցնող BB_1 հատվածը, իրոք, համընկնում է ABC եռանկյան B գագաթով անցնող միջնագծի հետ: Հետևաբար՝ M կետում հատվում են այդ եռանկյան բոլոր միջնագծերը:

Ամփոփենք ստացված փաստերը: Յուրաքանչյուր եռանկյան հետ առնչվում են չորս կետ. միջնագծերի հատման կետը, կիսորդների հատման կետը, կողմերի միջնուղղահայացների հատման կետը և բարձրությունների (կամ նրանց շարունակությունների) հատման կետը: Այս չորս կետերը կոչվում են *եռանկյան նշանավոր կետեր*:



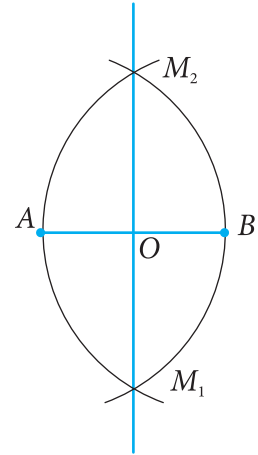
Նկ. 54

Խնդիրներ

183. Չփոփված O անկյան կիսորդի M կետից տարված են այդ անկյան կողմերին ուղղահայացներ՝ MA -ն և MB -ն: Ապացուցեք, որ $AB \perp OM$:
184. O անկյան կողմերը շոշափում են երկու այն շրջանագծերից յուրաքանչյուրին, որոնք A կետում ունեն ընդհանուր շոշափող: Ապացուցեք, որ այդ շրջանագծերի կենտրոնները գտնվում են OA ուղղի վրա:
185. A անկյան կողմերը շոշափում են O կենտրոնով և 5 սմ շառավիղով շրջանագիծը: Գտեք AO -ն, եթե $\angle A = 60^\circ$:

186. ABC եռանկյան B և C գագաթներին հարակից արտաքին անկյունների կիսորդները հատվում են O կետում: Ապացուցեք, որ O կետը կենտրոն է մի շրջանագծի, որին շոշափում են AB , BC և AC ուղիղները:
187. ABC եռանկյան AA_1 և BB_1 կիսորդները հատվում են M կետում: Գտեք ACM և BCM անկյունները, եթե՝
ա) $\angle AMB = 136^\circ$, բ) $\angle AMB = 111^\circ$:
188. ABC եռանկյան BC կողմի միջնուղղահայացը D կետում հատում է AC կողմը: Գտեք՝ ա) AD -ն և CD -ն, եթե $BD = 5$ սմ, $AC = 8,5$ սմ, բ) AC -ն, եթե $BD = 11,4$ սմ, $AD = 3,2$ սմ:
189. ABC եռանկյան AB և AC կողմերի միջնուղղահայացները հատում են BC կողմը D կետում: Ապացուցեք, որ՝ ա) D -ն BC կողմի միջնակետն է, բ) $\angle A = \angle B + \angle C$:
190. ABC հավասարասրուն եռանկյան AB կողմի միջնուղղահայացը BC կողմը հատում է E կետում: Գտեք եռանկյան AC հիմքը, եթե AEC եռանկյան պարագիծը 27 սմ է, իսկ $AB = 18$ սմ:
191. ABC և ABD հավասարասրուն եռանկյուններն ունեն ընդհանուր հիմք՝ AB -ն: Ապացուցեք, որ CD ուղիղն անցնում է AB հատվածի միջնակետով:
192. Ապացուցեք, որ եթե ABC եռանկյան AB և AC կողմերը հավասար չեն, ապա եռանկյան AM միջնագիծը բարձրություն չէ:
193. ABC հավասարասրուն եռանկյան AB հիմքին առընթեր անկյունների կիսորդները հատվում են M կետում: Ապացուցեք, որ CM և AB ուղիղները փոխուղղահայաց են:
194. ABC հավասարասրուն եռանկյան սրունքներին տարված AA_1 և BB_1 բարձրությունները հատվում են M կետում: Ապացուցեք, որ MC ուղիղը AB հատվածի միջնուղղահայացն է:
195. Կառուցեք տրված հատվածի միջնուղղահայացը:

Լուծում: Դիցուք՝ AB -ն տրված հատվածն է: Կառուցենք AB շառավիղով երկու շրջանագիծ, որոնց կենտրոններն են A և B կետերը (նկ. 55): Այդ շրջանագծերը հատվում են երկու՝ M_1 և M_2 կետերում: AM_1 , AM_2 , BM_1 և BM_2 հատվածները իրար հավասար են՝ որպես այդ շրջանագծերի շառավիղներ:



Նկ. 55

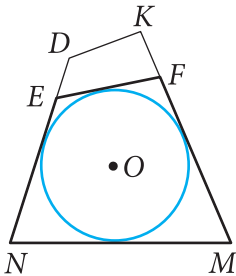
Տանենք M_1M_2 ուղիղը: Նկատի ունենանք, որ M_1 և M_2 կետերը հավասարահեռ են AB հատվածի ծայրակետերից: Ուստի՝ դրանք գտնվում են AB հատվածի միջնուղղահայացի վրա: Հետևաբար՝ M_1M_2 ուղիղը AB հատվածի որոնելի միջնուղղահայացն է:

196. Տրված են a ուղիղը և նրա միևնույն կողմում գտնվող A , B կետերը: a ուղղի վրա կառուցեք այնպիսի M կետ, որը հավասարահեռ է A և B կետերից:

197. Տրված են մի անկյուն և մի հատված: Անկյան ներսում կառուցեք այն կետը, որը հավասարահեռ է տվյալ անկյան կողմերից և տրված հատվածի ծայրակետերից:

198. Կառուցեք այն եռանկյունը, որի կողմերի միջնակետերը տրված են:

§5 ՆԵՐԳԾՅԱԼ ԵՎ ԱՐՏԱԳԾՅԱԼ ՇՐՋԱՆԱԳԾԵՐ



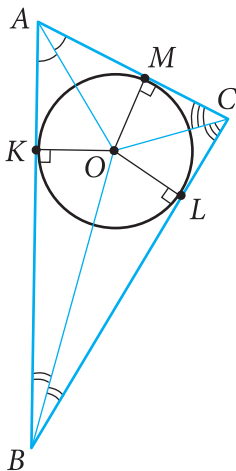
Նկ. 56

27. Ներգծյալ շրջանագիծ

Եթե բազմանկյան բոլոր կողմերը շոշափում են շրջանագիծը, ապա շրջանագիծը կոչվում է այդ բազմանկյանը *ներգծյալ*, իսկ բազմանկյունը՝ այդ շրջանագծին *արտագծյալ*: Նկար 56-ում $EFMN$ քառանկյունը արտագծված է O կենտրոնով շրջանագծին, մինչդեռ $DKMN$ քառանկյունը այդ շրջանագծին արտագծյալ չէ, քանի որ DK կողմը չի շոշափում շրջանագիծը: Նկար 57-ում ABC եռանկյունը արտագծված է O կենտրոնով շրջանագծին:

Ապացուցենք թեորեմ եռանկյանը ներգծյալ շրջանագծի մասին:

Թեորեմ: Ցանկացած եռանկյանը կարելի է ներգծել շրջանագիծ:



Նկ. 57

Ապացուցում: Դիտարկենք կամայական ABC եռանկյուն և O տառով նշանակենք նրա կիսորդների հատման կետը: O կետից տանենք OK , OL և OM ուղղահայացները համապատասխանաբար, AB , BC և CA կողմերին (նկ. 57): Քանի որ O կետը հավասարապես է հեռացված ABC եռանկյան կողմերից, ապա $OK = OL = OM$: Ուստի՝ O կենտրոնով և OK շառավիղով շրջանագիծն անցնում է K , L և M կետերով: ABC եռանկյան կողմերը K , L , M կետերում շոշափում են այդ շրջանագիծը, քանի որ դրանք ուղղահայաց են OK , OL և OM շառավիղներին: Ուրեմն՝ O կենտրոնով և OK շառավիղով շրջանագիծը ABC եռանկյանը ներգծյալ է: **Թեորեմն ապացուցված է:**

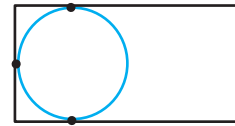
Պարզաբանում: 1. Նշենք, որ եռանկյանը կարելի է ներգծել միայն մեկ շրջանագիծ: Իրոք, ենթադրենք, թե եռանկյանը կարելի է ներգծել երկու շրջանագիծ: Այդ դեպքում շրջանագծերից յուրաքանչյուրի կենտրոնը հա-

վասարապես է հեռացված եռանկյան կողմերից և, ուրեմն, համընկնում է եռանկյան կիսորդների հատման O կետին: Յուրաքանչյուրի շառավիղը հավասար է O կետի՝ եռանկյան կողմերից ունեցած հեռավորությանը: Հետևաբար՝ այդ շրջանագծերը համընկնում են:

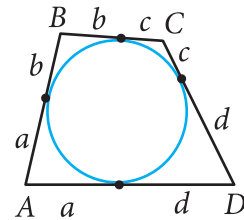
2. Ի տարբերություն եռանկյունների, որ կարելի է շրջանագիծ ներգծել բոլորին, քառանկյուններից ոչ բոլորին է հնարավոր ներգծել շրջանագիծ: Դիտարկենք, օրինակ, ուղղանկյուն, որի կից կողմերը անհավասար են, այսինքն՝ այն քառակուսի չէ: Ակներև է, որ այդպիսի ուղղանկյան մեջ հնարավոր է «տեղավորել» միայն նրա երեք կողմը շոշափող շրջանագիծ (նկ. 58(ա)), բայց միաժամանակ չորս կողմը շոշափող շրջանագիծ «տեղավորելն» անհնար է: Այլ խոսքով՝ անհնար է այդպիսի ուղղանկյանը ներգծել շրջանագիծ: Եթե քառանկյանը կարելի է շրջանագիծ ներգծել, ապա նրա կողմերն ունեն մի կարևոր հատկություն: Այն է՝ *ցանկացած արտագծյալ քառանկյան հանդիպակաց կողմերի գումարները հավասար են*:

Այս հատկությունը հեշտ է բացահայտվում, եթե, օգտվելով 58(բ) նկարից, շոշափողների միմյանց հավասար հատվածները նշանակենք նույն տառով: Իրոք, $AB + CD = a + b + c + d$, $BC + AD = a + b + c + d$, ուստի՝ $AB + CD = BC + AD$:

Պարզվում է, որ ճշմարիտ է նաև հակադարձ պնդումը. *եթե ուռուցիկ քառանկյան հանդիպակաց կողմերի գումարները հավասար են, ապա նրան կարելի է ներգծել շրջանագիծ (տես խնդիր 276-ը)*:

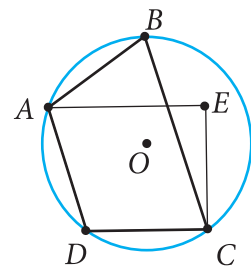


ա)

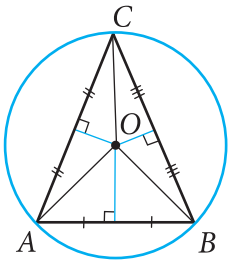
բ)
Նկ. 58

28. Արտագծյալ շրջանագիծ

Եթե բազմանկյան բոլոր գագաթները գտնվում են շրջանագծի վրա, ապա շրջանագիծը կոչվում է այդ բազմանկյանը *արտագծյալ*, իսկ բազմանկյունը՝ այդ շրջանագծին *ներգծյալ*: Նկար 59-ում $ABCD$ քառանկյունը ներգծված է O կենտրոնով շրջանագծին, մինչդեռ $AECD$ քառանկյունը այդ շրջանագծին ներգծյալ չէ, քանի որ



Նկ. 59



Նկ. 60

նրա E գագաթը շրջանագծի վրա չի գտնվում: Նկար 60-ում ABC եռանկյունը ներգծված է O կենտրոնով շրջանագծին:

Ապացուցենք թեորեմ եռանկյան արտագծյալ շրջանագծի մասին:

Թեորեմ: Ցանկացած եռանկյանը կարելի է արտագծել շրջանագիծ:

Ապացուցում: Այս թեորեմի ապացուցումը մենք, փաստորեն, կատարել ենք (*տես 19-րդ կետը*): Դիտարկենք կամայական ABC եռանկյուն: Նրա A , B և C գագաթները չեն գտնվում մի ուղղի վրա: Ըստ երեք կետով շրջանագծի որոշման՝ այդ A , B և C կետերով կարելի է տանել շրջանագիծ, ընդ որում՝ միայն մեկը: Հետևաբար՝ ABC եռանկյանը կարելի է արտագծել շրջանագիծ, և այն միակն է: Եռանկյանը արտագծյալ շրջանագծի կենտրոնը նրա կողմերի միջնուղղահայացների հատման կետն է, որը հավասարահեռ է եռանկյան գագաթներից: Նրա շառավիղը հավասար է այդ կետի՝ եռանկյան որևէ գագաթից ունեցած հեռավորությանը: Իսկ եռանկյան գագաթներից հավասարահեռ կետը համընկնում է նրա կողմերի միջնուղղահայացների հատման կետին: **Թեորեմն ապացուցված է:**

Պարզաբանում: Ի տարբերություն եռանկյունների, որոնց բոլորին կարելի է շրջանագիծ արտագծել, քառանկյուններից ոչ բոլորին է հնարավոր արտագծել շրջանագիծ:

Օրինակ՝ շեղանկյանը շրջանագիծ արտագծել հնարավոր չէ, եթե, իհարկե, շեղանկյունը քառակուսի չէ (բացառեք ինքնուրույն):

Եթե քառանկյանը կարելի է շրջանագիծ արտագծել, ապա նրա անկյուններն ունեն մի կարևոր հատկություն: Այն է՝ **ցանկացած ներգծյալ քառանկյան հանդիպակաց անկյունների գումարը 180° է:**

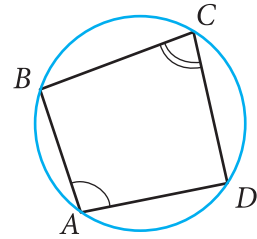
Այս հատկությունը հեշտ է ապացուցվում, եթե, օգտվելով նկար 61-ից, կիրառենք ներգծյալ անկյունների մասին

թեորեմը: Իրոք, $\angle A = \frac{1}{2} \cup BCD$, $\angle C = \frac{1}{2} \cup BAD$,

հետևաբար՝

$$\angle A + \angle C = \frac{1}{2} (\cup BCD + \cup BAD) = \frac{1}{2} \cdot 360^\circ = 180^\circ:$$

Պարզվում է, որ ձևարիտ է նաև հակադարձ պնդումը. եթե քառանկյան հանդիպակաց անկյունների գումարը 180° է, ապա այդ քառանկյանը կարելի է արտագծել շրջանագիծ (տես խնդիր 280-ը):

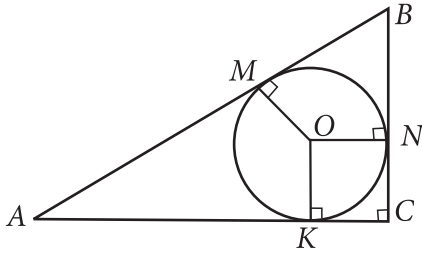


Նկ. 61

Խնդիրներ

199. Ապացուցեք, որ հավասարակողմ եռանկյան ներգծյալ և արտագծյալ շրջանագծերի կենտրոնները համընկնում են:
200. Հավասարակողմ եռանկյան ներգծյալ շրջանագծի շառավիղը r է: Ապացուցեք, որ այդ եռանկյան արտագծյալ շրջանագծի շառավիղը $2r$ է:
201. Եռանկյան ներգծյալ և արտագծյալ շրջանագծերի կենտրոնները համընկնում են: Կարո՞ղ է արդյոք այդ եռանկյունը հավասարակողմ չլինել: Պատասխանը հիմնավորեք:
202. Ներգծյալ շրջանագծի շոշափման կետում հավասարասրուն եռանկյան սրունքը տրոհվում է 3 սմ և 4 սմ երկարությամբ հատվածների՝ հաշված հիմքից: Գտեք այդ եռանկյան պարագիծը:
203. Գտեք 6 սմ և 8 սմ էջերով և 10 սմ ներքնաձիգով ուղղանկյուն եռանկյանը ներգծած շրջանագծի շառավիղը (տես հաջորդ համարի խնդիրը):
204. Ապացուցեք, որ a և b էջեր և c ներքնաձիգ ունեցող ուղղանկյուն եռանկյանը ներգծած շրջանագծի շառավիղը հավասար է $\frac{1}{2}(a + b - c)$:

Լուծում: Դիցուք՝ ABC -ն C ուղիղ անկյունով ուղղանկյուն եռանկյուն է, O -ն ներգծյալ շրջանագծի կենտրոնն է, իսկ M -ը, N -ը և



Նկ. 62

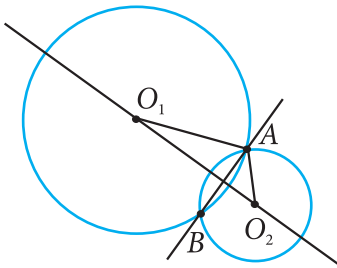
K -ն շոշափման կետերն են (նկ. 62): Նկատենք, որ $ONCK$ -ն քառակուսի է, որի կողմը հավասար է որոնելի r շառավիղին: Յուրաքանչյուր անկյան գագաթը հավասարապես է հեռացված իր կողմերի և շրջանագծի շոշափման կետերից: Այսպիսով՝ $CK = CN = r$, $BN = BM = a - r$, $AK = AM = b - r$: Մյուս կողմից՝ $AB = AM + MB$, այսինքն՝ $b - r + a - r = c$: Լուծելով ստացված հավասարումը r անհայտի նկատմամբ՝ ստանում ենք. $r = \frac{1}{2}(a + b - c)$:

205. Ուղղանկյուն եռանկյան ներքնաձիգը 13 սմ է, իսկ էջերի գումարը՝ 17 սմ: Գտեք եռանկյան ներգծյալ շրջանագծի շառավիղը:
206. Ուղղանկյուն եռանկյան ներքնաձիգը 15 սմ է, իսկ պարագիծը՝ 36 սմ: Գտեք այդ եռանկյան ներգծյալ շրջանագծի շառավիղը:
207. O -ն ABC եռանկյան ներգծյալ շրջանագծի կենտրոնն է: Գտեք $\angle AOC$ -ն, եթե $\angle ABC = 80^\circ$:
208. ABC եռանկյան մեջ $\angle C = 120^\circ$, $AC = BC = a$: Գտեք այդ եռանկյան արտագծյալ շրջանագծի շառավիղը:
209. Շրջանագծին արտագծած հավասարաարուն սեղանի հիմքերը հավասար են 2 սմ և 8 սմ: Գտեք սեղանի պարագիծը:
210. Շրջանագծին արտագծած հավասարաարուն սեղանի հիմքերից մեկը հավասար է մյուսի եռապատիկին, իսկ սեղանի սրունքը 8 սմ է: Գտեք սեղանի հիմքերը:
211. Գտեք շրջանագծին արտագծած հավասարաարուն սեղանի կողմերը, եթե նրա պարագիծը 40 սմ է, իսկ հիմքերից մեկը 4 անգամ փոքր է մյուսից:
212. Հավասարաարուն սեղանին ներգծած է շրջանագիծ: Այդ սեղանի պարագիծը 60 սմ է: Գտեք նրա սրունքը:
213. Հավասարաարուն սեղանի սրունքը 8 սմ է, իսկ փոքր հիմքին առընթեր անկյունների գումարը՝ 300° : Գտեք այդ սեղանին ներգծած շրջանագծի շառավիղը:

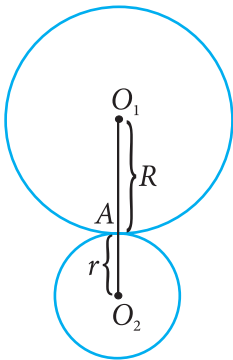
214. Ապացուցեք, որ եթե զուգահեռագծին կարելի է ներգծել շրջանագիծ, ապա այդ զուգահեռագիծը շեղանկյուն է:
215. Ապացուցեք, որ ցանկացած շեղանկյանը կարելի է ներգծել շրջանագիծ:
216. Գծագրեք երեք եռանկյուն՝ սուրանկյուն, բութանկյուն և ուղղանկյուն: Դրանց յուրաքանչյուրի համար կառուցեք արտագծյալ շրջանագիծ:
217. Շրջանագծին ներգծած է ABC եռանկյունն այնպես, որ AB -ն տրամագիծ է: Գտեք եռանկյան անկյունները, եթե՝ ա) $\angle B = 134^\circ$, բ) $\angle C = 70^\circ$:
218. Շրջանագծին ներգծված է BC հիմքով ABC հավասարասրուն եռանկյունը: Գտեք եռանկյան անկյունները, եթե $\angle C = 102^\circ$:
219. Ուղղանկյուն եռանկյանը արտագծված է շրջանագիծ: Ապացուցեք, որ նրա կենտրոնը ներքնաձիգի միջնակետն է:
220. ABC եռանկյանը արտագծված է շրջանագիծ: Գտեք այդ շրջանագծի շառավիղը, եթե $AC = 24$ սմ, $\angle A = 60^\circ$, $\angle B = 30^\circ$:
221. Ապացուցեք, որ կարելի է շրջանագիծ արտագծել՝ ա) ցանկացած ուղղանկյանը, բ) ցանկացած հավասարասրուն սեղանին:
222. Ապացուցեք, որ եթե սեղանին կարելի է արտագծել շրջանագիծ, ապա սեղանը հավասարասրուն է:
223. Շրջանագծին ներգծած է $ABCD$ քառանկյունը, որի մեջ $\angle A = 104^\circ$ և $\angle B = 71^\circ$: Գտեք անկյուններ C -ն և D -ն:
224. Արդյոք կարելի է տրված $ABCD$ քառանկյանը արտագծել շրջանագիծ, եթե՝ ա) $\angle A = 64^\circ$, $\angle B = 95^\circ$, $\angle C = 106^\circ$, բ) $\angle A = 72^\circ$, $\angle B = 69^\circ$, $\angle D = 111^\circ$, գ) $\angle A = 90^\circ$, $\angle C = 90^\circ$, $\angle D = 80^\circ$, դ) $\angle A = 2\alpha$, $\angle B = 5\alpha$, $\angle C = 7\alpha$, $\angle D = 4\alpha$:

29. Երկու շրջանագծերի փոխադարձ դասավորությունը

Հարթության վրա պատկերված երկու շրջանագծերի փոխադարձ դասավորությունը կախված է նրանց կենտրոնների հեռավորությունից և շառավիղների երկարություններից: Դիտարկենք հնարավոր դեպքերը:



Նկ. 63



$$O_1O_2 = R + r$$

ա)
Նկ. 64

ա. Երկու շրջանագծեր կարող են լինել հատվող, այսինքն՝ ունենալ երկու ընդհանուր կետ (նկ. 63): Այդպիսի դասավորությամբ շրջանագծերի կենտրոնները, բնականաբար, չեն համընկնում, ընդ որում՝ **կենտրոնների հեռավորությունը փոքր է շառավիղների գումարից:** Իրոք, եթե A -ն շրջանագծերի հատման կետ է, ապա ըստ եռանկյան անհավասարության՝ $O_1A + O_2A > O_1O_2$: Այս դեպքում կարևոր է մեկ այլ փաստ ևս. շրջանագծերի կենտրոններով անցնող O_1O_2 ուղիղը այդ շրջանագծերի հատման կետերը միացնող AB հատվածի միջնուղղահայացն է (հիմնավորեք ինքներդ):

բ. Երկու շրջանագծեր կարող են ունենալ ընդհանուր մեկ կետ (նկ. 64): Այսպիսի դասավորության համար հնարավոր է երկու դեպք: 64(ա) նկարում պատկերված են O_1 և O_2 կենտրոններով երկու շրջանագիծ, որոնք ունեն A ընդհանուր կետը: Այս դեպքում շրջանագծերի կենտրոնների հեռավորությունը հավասար է նրանց շառավիղների գումարին. $O_1O_2 = O_1A + AO_2$: Եթե այս հավասարությունը տեղի չունենար, ապա O_1O_2 -ը կամ պետք է մեծ լիներ շառավիղների գումարից, կամ փոքր: Առաջին դեպքում դրանից կհետևեր, որ շրջանագծերն ընդհանուր կետ ունենալ չեն կարող: Երկրորդ դեպքում

կհետևեն, որ A կետի՝ O_1O_2 ուղղի նկատմամբ համաչափ կետը ևս կգտնվեր շրջանագծի վրա, իսկ դա կնշանակեր, որ այդ շրջանագծերն ունեն երկու ընդհանուր կետեր:

64(բ) նկարում պատկերված է A ընդհանուր կետ ունեցող երկու՝ O_1 և O_2 կենտրոններով շրջանագծերի դասավորության մեկ այլ դիրք: Այս դեպքում շրջանագծերի կենտրոնների O_1O_2 հեռավորությունը հավասար է O_1A և O_2A շառավիղների տարբերությանը:

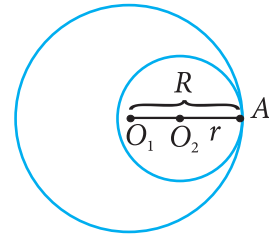
Եթե երկու շրջանագծեր ունեն մեկ ընդհանուր կետ, ապա այդ կետում շառավիղներին տարված ուղղահայացները համընկնում են: Ուրեմն՝ ընդհանուր կետում այդ շրջանագծերն ունեն ընդհանուր շոշափող: Նման դեպքերում ասում են նաև, որ *շրջանագծերն իրար շոշափում են*, ընդ որում՝ նկար 64(ա)–ի դեպքում ասում են՝ *շոշափում դրսից* (կամ՝ *արտաքին շոշափում*), իսկ նկար 64(բ)–ի դեպքում՝ *շոշափում ներսից* (կամ՝ *ներքին շոշափում*): Դրսից շոշափման դեպքում շրջանագծերի կենտրոններն ընկած են նրանց ընդհանուր շոշափողի տարբեր կողմերում, իսկ ներսից շոշափման դեպքում՝ միևնույն կողմում:

գ. Երկու շրջանագծեր կարող են ընդհանուր կետ չունենալ (նկ. 65):

Այսպիսի դասավորության համար նույնպես հնարավոր է երկու դեպք: 65(ա) նկարում O_1 և O_2 կենտրոններով շրջանագծերը չունեն ընդհանուր կետ. նրանց կենտրոնների հեռավորությունը մեծ է շառավիղների գումարից. $O_1O_2 > O_1A + O_2B$:

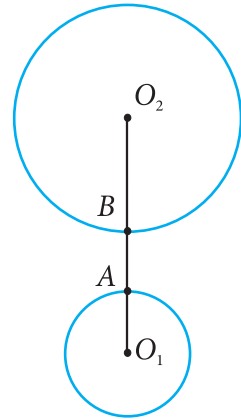
65(բ) նկարում O_1 և O_2 կենտրոններով շրջանագծերը նույնպես չունեն ընդհանուր կետ. նրանց կենտրոնների հեռավորությունը փոքր է, քան շառավիղներից մեծը: Ավելին՝ այս դեպքում շրջանագծերի կենտրոնների հեռավորությունն ավելի փոքր է, քան մեծ և փոքր շառավիղների տարբերությունը (փորձեք հիմնավորել ինքնուրույն):

Ընդհանուր կետ չունեցող երկու շրջանագծեր մասնավորապես կարող են լինել *համակենտրոն*, այսինքն՝ նրանց կենտրոնները համընկնում են, բայց շառավիղները հա-

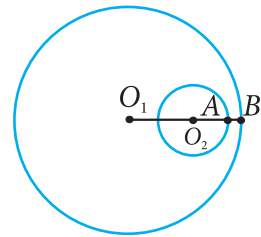


$$O_1O_2 = R - r$$

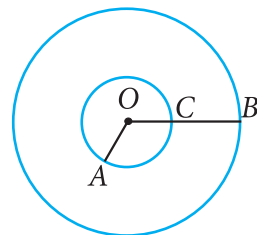
բ)
Նկ. 64



ա)



բ)
Նկ. 65



Նկ. 66

վասար չեն (*նկ. 66*): Այդ շրջանագծերից փոքր շառավիղ ունեցողն ընկած է մեծ շառավիղով շրջանի մեջ: Դրանցից երկրորդի յուրաքանչյուր շառավիղ առաջին շրջանագծի հետ ունի ընդհանուր կետ, իսկ շրջանագծերը ընդհանուր կետ չունեն: Օրինակ՝ նկար 66-ում OB շառավիղը առաջին շրջանագծի հետ հատվում է C կետում:

Այսպիսով՝ երկու շրջանագծերը կարող են ունենալ երկու ընդհանուր կետեր, մեկ ընդհանուր կետ կամ չունենալ ոչ մի ընդհանուր կետ:

30. Կետերի երկրաչափական տեղը

Այժմ նկարագրենք կառուցման խնդիրներ լուծելու մի նոր եղանակ: Այն լայնորեն կիրառվում է այնպիսի խնդիրներ լուծելիս, որոնցում անհրաժեշտ է գտնել կետեր, որոնք բավարարում են երկու կամ ավելի պայմանների: Այդ եղանակը նկարագրենք հետևյալ օրինակով:

Խնդիր: Կառուցել եռանկյունը՝ ըստ տրված կողմի, դրան իջեցրած բարձրության և հանդիպակաց անկյան:

Լուծում: Դիցուք՝ տրված են երկու հատված՝ a -ն և h -ը, և մի անկյուն՝ α -ն: a երկարությամբ հատվածը որոնելի եռանկյան կողմերից մեկն է, h -ը՝ այդ կողմին տարված բարձրությունը, իսկ α -ն հավասար է a կողմի հանդիպակաց անկյանը:

Որևէ դիրքով կառուցենք a հատվածը՝ որպես եռանկյան BC կողմ: Ուրեմն՝ որոնելի եռանկյան B և C գագաթները հայտնի են, մնում է գտնել A գագաթի տեղը: Դրա համար խնդիրը մասնատենք երկու խնդրի՝ յուրաքանչյուր դեպքում նկատի առնելով մյուս երկու պայմաններից մեկը:

Որպեսզի որոնելի եռանկյունն ունենա h բարձրություն, նրա a կողմին հանդիպակաց A գագաթը պետք է գտնվի այդ կողմից h հեռավորության վրա: Այդպիսի գագաթ կարող են լինել բազմաթիվ կետեր, որոնք կազմում

են կետերի երկրաչափական տեղ². այն ներկայացնում է BC -ին զուգահեռ, նրանից h հեռավորություն ունեցող ուղիղ (զուգահեռ ուղիղները երկուսն են, բայց կարելի է բավարարվել դրանցից մեկով):

Այժմ «աչքաթող» անենք խնդրի՝ բարձրությանը վերաբերող տվյալը և դիտենք միայն մյուս տվյալը, որը վերաբերում է հանդիպակաց անկյանը:

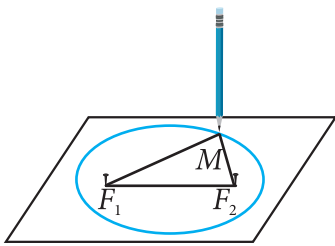
α մեծությամբ A անկյունը կարելի է դիտել որպես մի ներգծյալ անկյուն, որը հենվում է B և C ծայրերով աղեղի վրա, ընդ որում՝ $\angle BOC = 2\alpha$: Բայց այդ աղեղի վրա հենված ներգծյալ անկյունը ոչ թե մեկն է, այլ դրանց գագաթները կազմում են կետերի երկրաչափական տեղ, որը շրջանագծի աղեղ է: Նկատենք, որ այդ շրջանագծի կենտրոնը կարելի է որոշել՝ կառուցելով BC հիմքով հավասարասրուն եռանկյուն, որի սրունքների կազմած անկյունը հավասար է 2α (այդ սրունքները կլինեն շառավիղներ):

Այսպիսով՝ որոնելի ABC եռանկյան A գագաթը միաժամանակ գտնվելու է կետերի երկրաչափական տեղերից թե՛ մեկի և թե՛ մյուսի վրա: Այսինքն՝ A գագաթը գտնվելու է ինչպես a -ին զուգահեռ տարված ուղղի, այնպես էլ կառուցված շրջանագծի վրա: Այդ ուղղի և շրջանագծի հատման կետն էլ կլինի եռանկյան A գագաթը: Եթե ուղիղը և շրջանագիծը ունեն երկու հատման կետ, ապա գոյություն ունի խնդրի պայմաններին բավարարող երկու լուծում: Իսկ եթե դրանք հատման կետ չունեն, ապա խնդիրը լուծում չունի:

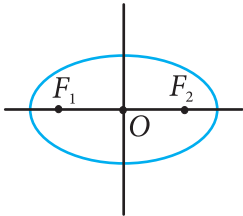
Այսպիսով՝ **կետերի երկրաչափական տեղերը գտնելու եղանակով խնդիրներ լուծելու համար անհրաժեշտ է նախ կառուցել խնդրի առանձին պայմաններին բավարարող կետերի երկրաչափական տեղերը, ապա որոշել դրանց ընդհանուր կետերը**: Լուծման այս եղանակը դուք արդեն կիրառել եք բազմաթիվ խնդիրներ լուծելիս, ինչպես, օրինակ՝ տրված երեք կողմով եռանկյունը կառուցելիս: Այնտեղ, կարկինին տալով կողմի երկարությանը հավասար բաց-

² Կետերի երկրաչափական տեղ կամ կետերի բազմություն կոչվում է այն պատկերը, որը բաղկացած է այն բոլոր կետերից, որոնք օժտված են որոշակի հատկությամբ:

վածք, շրջանագծի աղեղ կառուցելիս, փաստորեն, գտնում եք եռանկյան գագաթ հանդիսացող կետերի երկրաչափական տեղը:



Նկ. 67



Նկ. 68

31. Պատկերացում էլիպսի մասին

Դիտարկենք մի պատկեր, որը գծագրվում է հետևյալ կերպ: Գծագրական տախտակի վրա ամրացնենք երկու քորոց, որոնց կապված է թել, որի երկարությունը մեծ է քորոցների հեռավորությունից: Այնուհետև մատիտի ծայրով ձգենք թելը և գծագրական թղթի վրա տեղաշարժենք այնպես, որ մատիտի ծայրը շարունակ հավի թղթին, և միաժամանակ թելը ձգված մնա, ինչպես ցույց է տրված նկար 67-ում: Այդ ձևով ստացվում է մի պատկեր, որը կոչվում է *էլիպս*: Եթե նկատի ունենանք, որ կապված թելի երկարությունը հաստատուն է, ապա կարող ենք ասել, որ էլիպսի բոլոր կետերի համար քորոցներից ունեցած հեռավորությունների գումարը նույնպես հաստատուն է (այդ հեռավորությունների գումարը հավասար է ձգված թելի երկարությանը):

Այսպիսով՝ էլիպսն այն երկրաչափական պատկերն է, որը կազմված է հարթության բոլոր այն կետերից, որոնց համար հաստատուն է մինչև տրված երկու կետերն ունեցած հեռավորությունների գումարը: Այդ երկու տրված կետերը կոչվում են էլիպսի կիզակետեր (F_1 և F_2 կետերը նկար 67-ում և նկար 68-ում):

Նկատենք, որ էլիպս ստանալու համար նշված հեռավորությունների հաստատուն գումարը պետք է մեծ լինի տրված երկու կետերի (կիզակետերի) հեռավորությունից:

Դժվար չէ համոզվել, որ էլիպսը համաչափ պատկեր է: Մասնավորապես F_1 և F_2 կետերով անցնող ուղիղը էլիպսի համաչափության առանցք է: Դրա հետ մեկտեղ այն ուղիղը, որը F_1F_2 հատվածի միջնուղղահայացն է, նույնպես համաչափության առանցք է: Այդ երկու ուղիղների O հատման կետը էլիպսի համաչափության կենտրոնն է, որին հաճախ անվանում են նաև էլիպսի **կենտրոն** (*տես խնդիր 287-ը*):

Էլիպսը մեկ այլ ձևով կարելի է պատկերացնել որպես

տրամագծի նկատմամբ սեղմված շրջանագիծ: Ավելի ակնառու պատկերացնելու համար նկատենք, որ երբ շրջանագիծը դիտում ենք անկյան տակ, ապա այն երևում է էլիպսաձև: Դրանում դուք կարող եք համոզվել նաև, եթե հարթ մակերևույթի վրա դիտեք թեք դիրքով պահված շրջանի ստվերը:

Էլիպս հանդիպում է բազմազան իրադրություններում: Այսպես՝ հարթ տեղանքում ավտոմեքենայի ցուլարձակ լապտերի մոտակա լույսը միացնելիս լուսավորվում է այդ տեղանքի մի մասը, որի եզրագիծը էլիպսաձև է: Հայտնի է, որ Երկիր մոլորակը ձվաձև է. բևեռների ուղղությամբ այն սեղմված է հասարակածի համեմատությամբ մոտավորապես 42 կմ-ով: Այդ իսկ պատճառով միջօրեականները ոչ թե շրջանագիծ են, այլ էլիպս: Ուշագրավ է նաև այն, որ Արեգակնային համակարգի յուրաքանչյուր մոլորակ, այդ թվում նաև Երկիրը, Արեգակի շուրջ պտտվում է էլիպսաձև ուղեծրով, ընդ որում՝ Արեգակը գտնվում է այդ էլիպսի կիզակետերից մեկում:

Էլիպսն օժտված է օպտիկական և այլ հետաքրքիր հատկություններով, որոնք դուք կուսումնասիրեք հետագայում:

Խնդիրներ

225. Տրված են երկու՝ A և B կետեր: Գտեք այն C կետերի երկրաչափական տեղը, որոնց համար $AC \perp CB$:
226. Գտեք այն կետերի երկրաչափական տեղը, որոնք հավասարահեռ են երկու հատվող շրջանագծերի ընդհանուր կետերից:
227. Տրված է O կետը a ուղղի վրա: Գտեք այն կետերի երկրաչափական տեղը, որոնց a ուղղից ունեցած հեռավորությունը երկու անգամ փոքր է O կետից ունեցած հեռավորությունից:
228. Կառուցեք արտաքին շոշափում ունեցող երկու շրջանագիծ: Երրորդ շրջանագիծը կառուցեք այնպես, որ այն հատի ն առաջին, ն երկրորդ շրջանագիծը, և բոլոր շրջանագծերի կենտրոնները գտնվեն մի ուղղի վրա:

229. Կառուցեք շրջանագիծ, եթե տրված են նրա լարը և այդ լարի ծայրակետերով աղեղներից մեկի աստիճանային չափը:
230. Կառուցեք շրջանագիծ, եթե տրված են երկու կետ, որոնք այդ շրջանագծին արտագծած շեղանկյան հանդիպակաց կողմերի շոշափման կետերն են:
231. Կառուցեք շրջանագիծ, եթե տրված են երկու կետ, որոնք այդ շրջանագծին արտագծած քառակուսու կից կողմերի շոշափման կետերն են:
232. Կառուցեք եռանկյուն՝ նրա տրված մի կողմով և այդ կողմին տարված միջնագծով ու բարձրությամբ:
233. Կառուցեք եռանկյունը՝ նրա տրված մի կողմով, նրա հանդիպակաց անկյունով և այդ կողմին տարված միջնագծով:
234. Տրված են էլիպսը և նրա կիզակետերից մեկը: Քանոնի և կարկինի օգնությամբ կառուցեք մյուս կիզակետը:
- 235*. Տրված են էլիպսը և նրա համաչափության երկու առանցքները: Կարկինի օգնությամբ կառուցեք նրա կիզակետերը:

§7

ԿԱՆՈՆԱՎՈՐ ԲԱԶՄԱՆԿՅՈՒՆՆԵՐ

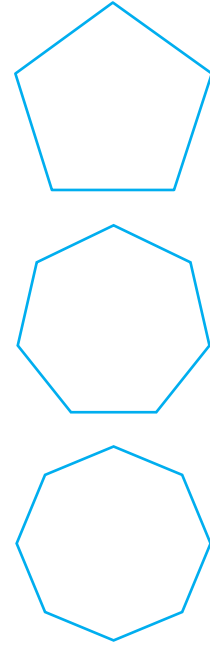
32. Կանոնավոր բազմանկյուն

Կանոնավոր բազմանկյուն կոչվում է այն ուռուցիկ բազմանկյունը, որի բոլոր անկյունները հավասար են, և բոլոր կողմերը հավասար են:

Կանոնավոր բազմանկյունների օրինակներ են հավասարակողմ եռանկյունը և քառակուսին: Նկար 69-ում պատկերված են կանոնավոր հնգանկյուն, յոթանկյուն և ութանկյուն:

Արտածենք կանոնավոր n -անկյան α_n անկյունը հաշվելու բանաձևը: Այդպիսի n -անկյուն բազմանկյան բոլոր անկյունների գումարը հավասար է $(n - 2) \cdot 180^\circ$: Քանի որ նրա բոլոր անկյունները հավասար են, ուստի՝

$$\alpha_n = \frac{(n - 2)}{n} \cdot 180^\circ$$



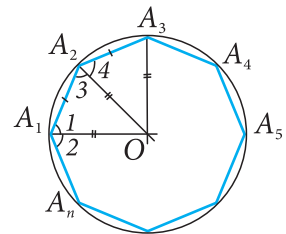
Նկ. 69

33. Կանոնավոր բազմանկյանը արտագծած շրջանագիծ

Հիշենք, որ շրջանագիծը կոչվում է բազմանկյանն արտագծյալ, եթե բազմանկյան բոլոր գագաթները գտնվում են այդ շրջանագծի վրա: Ապացուցենք թեորեմ կանոնավոր բազմանկյանն արտագծած շրջանագծի մասին:

Թեորեմ: Ցանկացած կանոնավոր բազմանկյանը կարելի է արտագծել շրջանագիծ, ընդ որում՝ միայն մեկը:

Ապացուցում: Դիցուք՝ $A_1 A_2 A_3 \dots A_n$ -ը կանոնավոր բազմանկյուն է, O -ն A_1 և A_2 անկյունների կիսորդների



Նկ. 70

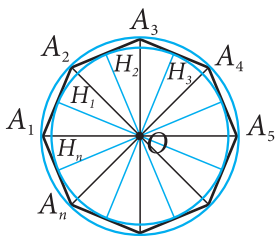
հատման կետն է (նկ. 70): O կետը հատվածներով միացնենք բազմանկյան մյուս գագաթներին և ապացուցենք, որ $OA_1 = OA_2 = \dots = OA_n$: Քանի որ $\angle A_1 = \angle A_2$, ապա $\angle 1 = \angle 3$, ուստի A_1A_2O եռանկյունը հավասարասրուն է և, հետևաբար, $OA_1 = OA_2$: Եռանկյուններ A_1A_2O -ն և A_3A_2O -ն հավասար են՝ ըստ երկու կողմի և դրանց կազմած անկյան ($A_1A_2 = A_3A_2$, A_2O -ն ընդհանուր կողմ է, և $\angle 3 = \angle 4$): Հետևաբար՝ $OA_3 = OA_1$: Համանման ձևով կարելի է ապացուցել, որ $OA_4 = OA_2$, $OA_5 = OA_3$ և այլն:

Այսպիսով՝ $OA_1 = OA_2 = \dots = OA_n$, այսինքն՝ O կետը հավասարահեռ է բազմանկյան բոլոր գագաթներից: Ուստի՝ O կենտրոնով և OA_1 շառավիղով շրջանագիծը բազմանկյանը արտագծյալ շրջանագիծ է:

Այժմ ապացուցենք, որ արտագծյալ շրջանագիծը միայն մեկն է: Դիտարկենք բազմանկյան որևէ երեք գագաթ, ասենք՝ A_1 -ը, A_2 -ը, A_3 -ը: Քանի որ երեք կետերով անցնում է միայն մեկ շրջանագիծ, ապա $A_1A_2\dots A_n$ բազմանկյանը կարելի է արտագծել միայն մեկ շրջանագիծ:

Թեորեմն ապացուցված է:

34. Կանոնավոր բազմանկյանը ներգծած շրջանագիծ



Նկ. 71

Հիշենք, որ շրջանագիծը կոչվում է բազմանկյանը ներգծած, եթե բազմանկյան բոլոր կողմերը շոշափում են այդ շրջանագիծը: Ապացուցենք թեորեմ կանոնավոր բազմանկյանը ներգծած շրջանագծի մասին:

Թեորեմ: Ցանկացած կանոնավոր բազմանկյանը կարելի է ներգծել շրջանագիծ, ընդ որում՝ միայն մեկը:

Ապացուցում: Դիցուք՝ $A_1A_2\dots A_n$ -ը կանոնավոր բազմանկյուն է, O -ն նրա արտագծյալ շրջանագծի կենտրոնն է (նկ. 71): Նախորդ թեորեմի ապա-

ցուցման ընթացքում մենք բացահայտեցինք, որ $\triangle OA_1A_2 = \triangle OA_2A_3 = \dots = \triangle OA_nA_1$: Ուստի այդ եռանկյունների՝ O գագաթից տարված բարձրությունները հավասար են. $OH_1 = OH_2 = \dots = OH_n$: Այստեղից հետևում է, որ O կենտրոնով և OH_1 շառավիղով շրջանագիծն անցնում է H_1, H_2, \dots, H_n կետերով, և այդ կետերից յուրաքանչյուրով տարված շառավիղն ուղղահայաց է բազմանկյան կողմին: Հետևաբար՝ այդ շրջանագիծը շոշափում է բազմանկյան կողմերը: Իսկ դա նշանակում է, որ այդ շրջանագիծը ներգծյալ է բազմանկյանը:

Այժմ ապացուցենք, որ ներգծյալ շրջանագիծը միայն մեկն է:

Ենթադրենք, թե O կենտրոնով և OH_1 շառավիղով շրջանագծից բացի կա ևս մեկ այլ շրջանագիծ, որը ներգծյալ է $A_1A_2\dots A_n$ բազմանկյանը: Այդ դեպքում նրա O_1 կենտրոնը հավասարահեռ է բազմանկյան կողմերից, այսինքն՝ O_1 կետը գտնվում է բազմանկյան յուրաքանչյուր անկյան կիսորդի վրա: Իսկ դրանից հետևում է, որ այն համընկնում է այդ կիսորդների հատման O կետին: Այդ շրջանագծի շառավիղը հավասար է O կետից մինչև բազմանկյան կողմերը եղած հեռավորությանը, այսինքն՝ այն հավասար է OH_1 -ին: Այսպիսով՝ ենթադրվող երկրորդ շրջանագիծը համընկնում է առաջին շրջանագծին:

Թեորեմն ապացուցված է:

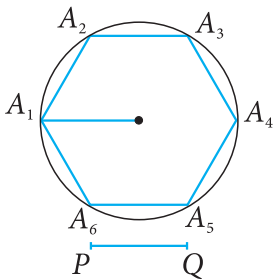
Հետևանք 1. Կանոնավոր բազմանկյան ներգծյալ շրջանագիծը բազմանկյան կողմերը շոշափում է նրանց միջնակետում:

Հետևանք 2. Կանոնավոր բազմանկյան արտագծյալ շրջանագծի կենտրոնը համընկնում է այդ բազմանկյան ներգծյալ շրջանագծի կենտրոնին:

Այդ կետը կոչվում է *կանոնավոր բազմանկյան կենտրոն*:

35. Կանոնավոր բազմանկյունների կառուցումը

Որոշ կանոնավոր բազմանկյունների համար դիտարկենք քանոնի և կարկինի օգնությամբ կառուցման եղանակներ: Կանոնավոր եռանկյան և կանոնավոր քառանկյան, այսինքն՝ քառակուսու կառուցումները դիտարկել ենք ավելի վաղ: $n > 4$ դեպքում կանոնավոր n -անկյուն կառուցելու համար սովորաբար օգտագործում են բազմանկյանն արտագծած շրջանագիծը:



Նկ. 72

Խնդիր 1. Կառուցել կանոնավոր վեցանկյուն, որի կողմը հավասար է տրված հատվածին:

Լուծում: Խնդիրը լուծելու համար օգտվում ենք այն փաստից, որ կանոնավոր վեցանկյան կողմը հավասար է նրա արտագծյալ շրջանագծի շառավիղին: Իսկապես, արտագծյալ շրջանագծի կենտրոնից կանոնավոր վեցանկյան զագաթներին տարված շառավիղները այդ կողմերի հետ կազմում են եռանկյուններ, որոնցից յուրաքանչյուրը հավասարակողմ է: Այդ փաստի շնորհիվ խնդիրը հեշտությամբ լուծվում է: Դիցուք՝ PQ -ն տրված հատվածն է: Կառուցենք PQ շառավիղով շրջանագիծ և նրա վրա նշենք կամայական A_1 կետը (Նկ. 72): Այնուհետև չփոխելով կարկինի բացվածքը՝ այդ շրջանագծի վրա կառուցում ենք A_2, A_3, A_4, A_5, A_6 կետերն այնպես, որ տեղի ունենան $A_1A_2 = A_2A_3 = A_3A_4 = A_4A_5 = A_5A_6$ հավասարությունները: Կառուցված կետերը հաջորդաբար միացնենք հատվածներով: Ստանում ենք որոնելի $A_1A_2A_3A_4A_5A_6$ կանոնավոր վեցանկյունը:

Կանոնավոր բազմանկյուններ կառուցելիս հաճախ օգտագործվում է հետևյալ խնդիրը:

Խնդիր 2. Տրված է կանոնավոր n -անկյուն: Կառուցել կանոնավոր $2n$ -անկյուն:

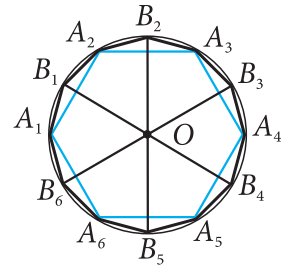
Լուծում: Դիցուք՝ $A_1A_2\dots A_n$ -ը տրված կանոնավոր n -անկյունն է: Նրան արտագծենք շրջանագիծ: Դրա համար կառուցենք A_1 և A_2 անկյունների կիսորդները և O տառով նշանակենք նրանց հատման կետը: Այնուհետև տանենք O կենտրոնով և OA_1 շառավիղով շրջանագիծ (յո՛ւնա Նկ. 70):

Խնդիրը լուծելու համար բավական է կիսել $A_1A_2, A_2A_3, \dots, A_nA_1$ աղեղները և բաժանման այդ B_1, B_2, \dots, B_n կետերը հատվածներով միացնել համապատասխան աղեղի ծայրակետերին (նկ. 73-ում $n = 6$): B_1, B_2, \dots, B_n կետերի կառուցման համար կարելի է օգտվել նաև տվյալ n -անկյան կողմերի միջնուղահայացներից:

Նկար 73-ում այդ եղանակով կառուցված է կանոնավոր տասներկուանկյուն՝ $A_1B_1A_2B_2\dots A_6B_6$ -ը:

Նշված եղանակը կիրառելով՝ կարելի է քանոնի և կարկինի օգնությամբ կառուցել մի շարք կանոնավոր բազմանկյուններ, եթե արդեն կառուցված է դրանցից մեկը: Օրինակ՝ կառուցելով կանոնավոր քառանկյունը, այսինքն՝ քառակուսին, և օգտվելով խնդիր 2-ից՝ կարելի է կառուցել կանոնավոր ութանկյուն, այնուհետև՝ կանոնավոր տասնվեցանկյուն և, առհասարակ, կանոնավոր 2^k -անկյուն, որտեղ k -ն 2-ից մեծ կամայական ամբողջ թիվ է:

Ծանոթություն: Դիտարկված օրինակները ցույց են տալիս, որ կանոնավոր բազմանկյուններից շատերը կարելի է կառուցել քանոնի և կարկինի օգնությամբ: Սակայն պարզվում է, որ ոչ բոլոր կանոնավոր բազմանկյունների համար է հնարավոր այդպիսի կառուցումը: Ապացուցված է, որ, օրինակ, կարկինի և քանոնի միջոցով կանոնավոր յոթանկյուն չի կարող կառուցվել: Հետաքրքրական է, որ կանոնավոր տասնյոթանկյունը այդ գործիքներով կարելի է կառուցել:



Նկ. 73

Հարցեր և խնդիրներ

236. Ճշմարիտ է արդյոք հետևյալ պնդումը. ա) յուրաքանչյուր կանոնավոր բազմանկյուն ուռուցիկ բազմանկյուն է, բ) ցանկացած ուռուցիկ բազմանկյուն կանոնավոր բազմանկյուն է: Պատասխանը հիմնավորեք:
237. Հետևյալ պնդումներից որո՞նք են ճշմարիտ. ա) բազմանկյունը կանոնավոր է, եթե այն ուռուցիկ է, և նրա

բոլոր կողմերը հավասար են, ք) եռանկյունը կանոնավոր է, եթե նրա բոլոր անկյունները հավասար են, գ) ցանկացած հավասարակողմ եռանկյուն կանոնավոր եռանկյուն է, դ) հավասար կողմերով յուրաքանչյուր քառանկյուն կանոնավոր քառանկյուն է: Պատասխանը հիմնավորեք:

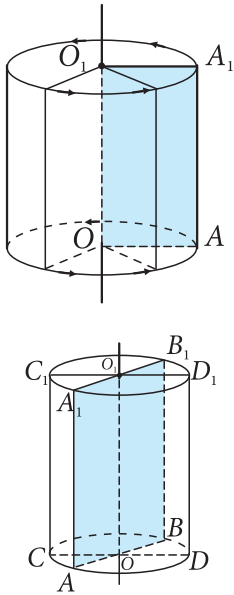
238. Ապացուցեք, որ յուրաքանչյուր կանոնավոր քառանկյուն քառակուսի է:
239. Գտեք կանոնավոր n -անկյան անկյունները, եթե՝ ա) $n = 3$, բ) $n = 5$, գ) $n = 6$, դ) $n = 10$, ե) $n = 18$:
240. Ինչի՞ է հավասար կանոնավոր n -անկյան արտաքին անկյունների գումարը, եթե յուրաքանչյուր գագաթում վերցված է մեկական արտաքին անկյուն:
241. Քանի՞ կողմ ունի կանոնավոր բազմանկյունը, եթե նրա յուրաքանչյուր անկյունը հավասար է՝ ա) 60° , բ) 90° , գ) 135° , դ) 150° :
242. Քանի՞ կողմ ունի կանոնավոր ներգծյալ բազմանկյունը, եթե արտագծյալ շրջանագծի աղեղը, որ ձգվում է նրա կողմով, հավասար է՝ ա) 60° , բ) 30° , գ) 90° , դ) 36° , ե) 18° , զ) 72° :
243. Քանի՞ կողմ ունի կանոնավոր բազմանկյունը, եթե արտաքին անկյուններից յուրաքանչյուրը հավասար է՝ ա) 36° , բ) 24° :
244. Կանոնավոր բազմանկյանն արտագծած է շրջանագիծ, որի շառավիղը հավասար է R -ի: Բազմանկյան կենտրոնը նրա կողմերից հեռացված է $\frac{R}{2}$ -ի չափով: Ինչի՞ է հավասար այդ բազմանկյան կողմերի թիվը:
245. Ապացուցեք, որ $ABCDE$ կանոնավոր հինգանկյան AC և AD անկյունագծերը BAE անկյունը տրոհում են երեք հավասար մասերի:
246. Ապացուցեք, որ կանոնավոր բազմանկյան ցանկացած երկու կողմերի միջնուղղահայացները կան հատվում են, կան համընկնում:

247. Ապացուցեք, որ կանոնավոր բազմանկյան ցանկացած երկու անկյան կիսորդներն ընդգրկող ուղիղները կամ հատվում են, կամ համընկնում:
248. Շրջանագծին արտագծած է քառակուսի և ներգծած է կանոնավոր վեցանկյուն: Գտեք քառակուսու պարագիծը, եթե վեցանկյան պարագիծը 48 սմ է:
249. Տրված շրջանագծին կարկինով և քանոնով ներգծեք՝ ա) կանոնավոր վեցանկյուն, բ) կանոնավոր եռանկյուն, գ) քառակուսի, դ) կանոնավոր ութանկյուն:
250. Տրված շրջանագծին կարկինով և քանոնով ներգծեք կանոնավոր տասներկուանկյուն:

§8 ՊԱՏԿԵՐԱՑՈՒՄ ԳԼԱՆԻ, ԿՈՆԻ ԵՎ ԳՆԴԻ ՄԱՍԻՆ

36. Պատկերացում գլանի մասին

Ծանոթանանք տարածական այնպիսի մարմինների, որոնց մեջ շրջանագիծը նրա մաս է և ունի կարևոր դեր: Մեր շրջակայքում և տեխնիկայում հաճախ հանդիպող այդպիսի մարմին է գլանը: Գլանի տեսք ունեն, օրինակ՝ խողովակները: Յուրաքանչյուր գլան մակերևույթում ունի երկու շրջան, որոնց շառավիղները հավասար են (*նկ. 74*): Կարելի է գլան ստանալ հետևյալ կերպ: Վերցնենք որևէ ուղղանկյուն, օրինակ՝ AA_1O_1O ուղղանկյունը, և այն պտտենք OO_1 կողմի շուրջ: Ընդունենք, որ այդ ընթացքում *ուղղանկյան անկյունները և կողմերի երկարությունները չեն փոխվում*: Այդ պտտումից առաջանում է տարածական մի մարմին, որը կոչվում է գլան (այն կոչվում է նաև ուղիղ շրջանային գլան): Շրջանների O և O_1 կենտրոններով անցնող ուղիղը կոչվում է *գլանի առանցք*:



Նկ. 74

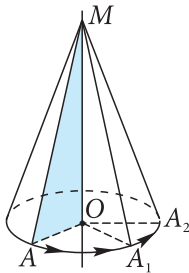
OA և O_1A_1 հատվածները պտտելիս գծում են O և O_1 կենտրոններով շրջաններ, որոնք կոչվում են գլանի *հիմքեր*, իսկ դրանց շառավիղները՝ գլանի *շառավիղներ*: Գլանի առանցքն ընդգրկող հարթությունը գլանի հետ ունի ընդհանուր մաս, որը կոչվում է *գլանի առանցքային հատույթ*: Գլանի առանցքային հատույթը ուղղանկյուն է, որի հանդիպակաց կողմերից երկուսը հիմքերի շրջանագծերի տրամագծեր են: Այդպիսի ուղղանկյան տրամագիծ չհանդիսացող կողմերը կոչվում են գլանի *ծնորդներ*: Նկար 74-ում պատկերված գլանի ծնորդներ են AA_1 , BB_1 , CC_1 , DD_1 հատվածները:

Գլանի ծնորդները միմյանց հավասար են:

Իրոք, քանի որ $AA_1 = OO_1$, $CC_1 = OO_1$ (որպես ուղղանկյունների հանդիպակաց կողմեր), ապա $AA_1 = CC_1$: Այսպիսով՝ գլանի ծնորդները հավասար են նրա հիմքերի շրջանների կենտրոնների հեռավորությանը և, ուրեմն, միմյանց հավասար են:

Գլանը որոշելու համար կարևոր է իմանալ նրա հիմքերի շրջանների շառավիղը և կենտրոնների հեռավորությունը (կամ ծնորդի երկարությունը):

37. Պատկերացում կոնի մասին



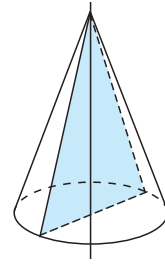
Նկ. 75

Մենք գիտենք, որ եթե ուղղանկյունը պտտում ենք կողմերից մեկի շուրջը, առաջանում է գլան: Այժմ պատկերացնենք մի մարմին, որն առաջանում է ուղղանկյուն եռանկյունն իր էջերից մեկի շուրջը պտտելիս: Այդ ձևով ստացված մարմինը կոչվում է *կոն*: Նկար 75-ում պատկերված է մի կոն, որն ստացվում է, երբ AOM ուղղանկյուն եռանկյունը պտտվում է MO էջի շուրջը: Պտտման ընթացքում OA էջը առաջացնում է շրջան, որի կենտրոնը O կետն է: O կենտրոնով և OA շառավիղով շրջանը կոչվում է այդ *կոնի հիմք*, իսկ M կետը՝ *կոնի գագաթ*: Կոնի գագաթը հիմքի շրջանագծի կետերին միացնող հատվածները (MA -ն, MA_1 -ը, MA_2 -ը և այլն) կոչվում են *կոնի ծնորդներ*:

Նկատենք, որ պտտման ընթացքում AOM եռանկյան անկյունները և կողմերի երկարությունները չեն փոխվում: Դրանից հետևում է, որ **կոնի բոլոր ծնորդներն իրար հավասար են:**

Կոնի գագաթով և հիմքի կենտրոնով անցնող ուղիղը (MO ուղիղը նկ. 75-ում) կոչվում է *կոնի առանցք*: Կոնի առանցքը պարունակող հարթության և կոնի ընդհանուր մասը եռանկյուն է. այն կոչվում է *առանցքային հատույթ* (նկ. 76-ում առանցքային հատույթը ստվերագծված է): Այդ եռանկյան կողմերից երկուսը կոնի ծնորդներն են և, ուրեմն, հավասար են, իսկ երրորդ կողմը հիմքի տրամագիծն է:

Այսպիսով՝ կոնի առանցքային հատույթը հավասարասրուն եռանկյուն է, ընդ որում՝ առանցքով տարված բոլոր հատույթներն իրար հավասար են:

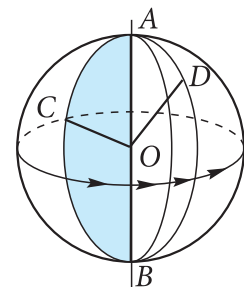
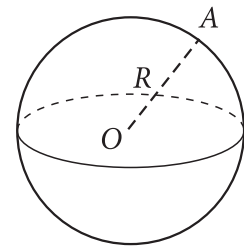


Նկ. 76

38. Պատկերացում գնդի մասին

Գունդը մեր շրջակայքում հաճախակի հանդիպող տարածական մարմին է: Գունդը սահմանափակված է գնդային մակերևույթով (*գնդոլորտով*): Գնդային մակերևույթ կոչվում է տարածական այն պատկերը, որը կազմված է տարածության բոլոր այն կետերից, որոնք տրված կետից ունեն տրված հեռավորությունը (նկ. 77(ա)): Այդ կետը կոչվում է գնդի *կենտրոն*, իսկ կենտրոնը մակերևույթի կետին միացնող հատվածը՝ *շառավիղ*: 77(բ) նկարում O կենտրոնով գնդի շառավիղներ են OA , OB , OC , OD հատվածները: Գնդային մակերևույթի երկու կետերը միացնող հատվածը, որն անցնում է նրա կենտրոնով, կոչվում է *տրամագիծ*: Տրամագիծը հավասար է երկու շառավիղի: Գնդային մակերևույթ կարելի է ստանալ պտտման միջոցով: Դրա համար անհրաժեշտ է կիսաշրջանագիծը պտտել տրամագծի շուրջը (նկ. 77(բ)): Իսկ եթե տրամագծի շուրջը պտտենք կիսաշրջանը, ապա կառաջանա գունդ:

Գնդի կենտրոնը պարունակող հարթության և գնդային մակերևույթի ընդհանուր մասը կազմված է տվյալ հարթության բոլոր այն կետերից, որոնք հավասարահեռ



ա)

բ)

Նկ. 77

են կենտրոնից: Այն շրջանագիծ է: Պարզվում է, որ գնդա-
յին մակերևույթի երկու կետ պարունակող հարթության և
այդ մակերևույթի ընդհանուր մասը ևս շրջանագիծ է:
Դրանցից մեծագույն շառավիղ ունեցողները այն շրջա-
նագծերն են, որոնց կենտրոնը համընկնում է գնդի
կենտրոնին:

Գունդը որոշելու համար կարևոր է իմանալ նրա շա-
ռավիղը, իսկ որոշ դեպքերում՝ նաև կենտրոնի տեղը:
Գնդաձև մարմիններ հաճախ հանդիպում են ոչ միայն
մեր շրջակայքում և տեխնիկայում, այլև տիեզերքում:
Երկնակամարում դուք ամեն օր տեսնում եք այդպիսի
մարմիններ, որոնցից ամենապայծառ երևացողներն են
Արեգակը և Լուսինը: Նշենք, որ Երկիրը ևս մոտավորա-
պես գնդաձև է, որի համար էլ նրան հաճախ անվանում
են նաև երկրագունդ: Երկրագնդի մեծ շրջանագծի շառա-
վիղը մոտավորապես հավասար է 6380 կմ: Իսկ որպես
մեծ շրջանագիծ է ծառայում նրա *հասարակածը*, ինչը ձեզ
ծանոթ է աշխարհագրությունից: Ինչպես գիտեք, *միջօրե-
սկանները* երկրագնդի կենտրոնով անցնող հարթության
և գնդոլորտի հատումից առաջացած պատկերներ են:
Ինչ վերաբերում է *զուգահեռականներին*, դրանք ևս
շրջանագծեր են, սակայն ունեն համեմատաբար ավելի
փոքր շառավիղներ:

Հարցեր և խնդիրներ

251. Գլանի առանցքային հատույթը քառակուսի է:
Գտեք գլանի ծնորդի և շառավիղի երկարություն-
ների հարաբերությունը:
252. Գլանի առանցքային հատույթը 40 սմ պարագծով
մի ուղղանկյուն է, որի անկյունագծերը փոխուղ-
ղահայաց են: Գտեք գլանի շառավիղը:
253. Գլանի առանցքային հատույթը մի ուղղանկյուն է,
որի անկյունագիծը ծնորդ հանդիսացող կողմի հետ
կազմում է 60° -ի անկյուն: Գտեք այդ անկյունագիծը,
եթե գլանի ծնորդի երկարությունը 6 սմ է:

254. Գլանաձև բաժակը կիսով չափ լցված է թեյով: Գոլորշիանալուց հետո թեյի հետքը մնացել էր բաժակի պատերին: Երկրաչափական ի՞նչ պատկեր է այդ հետքը: Համեմատեք այդ պատկերը բաժակում եղած այլ պատկերների հետ:
255. Գլանաձև ցիստեռնի մի մասը լցված է հեղուկով: Ի՞նչ պատկեր է հեղուկի մակերևույթը: Դիտարկեք ցիստեռնի տեղադրման երկու դեպք՝ ուղղաձիգ և հորիզոնական:
256. 30° անկյուն ունեցող ուղղանկյուն եռանկյունը պտտվում է մեծ էջի շուրջը: Գտեք պտտումից առաջացած կոնի ծնորդը, եթե այդ կոնի շառավիղը 15 սմ է:
257. Կոնի առանցքային հատույթը 12 սմ կողմով հավասարակողմ եռանկյուն է: Որոշեք այդ կոնի շառավիղն ու ծնորդը:
258. Կոնի առանցքային հատույթը հավասարասրուն ուղղանկյուն եռանկյուն է, որի ներքնաձիգը 20 սմ է: Գտեք այդ կոնի շառավիղը:
259. Նկարագրեք այն մարմինը, որն առաջանում է ուղղանկյուն եռանկյունը ներքնաձիգի շուրջը պտտելիս:
260. Նկարագրեք այն մարմինը, որն առաջանում է, երբ ուղղանկյուն սեղանը պտտում ենք. ա) մեծ հիմքի շուրջը, բ) փոքր հիմքի շուրջը:
261. Գնդաձև ակվարիումի մի մասը լցված է ջրով: Ի՞նչ պատկեր է ջրի մակերևույթը: Ո՞ր դեպքում ձկները կունենան ջրի մակերևույթին մոտ լողալու ավելի երկար ուղղագիծ ճանապարհի տեղամաս:
262. Գտեք այն գնդային մակերևույթի մեծ շրջանագծի շառավիղը, որն ստացվում է 12 սմ տրամագծով կիսաշրջանագիծը այդ տրամագծի շուրջը պտտելիս:
263. Ի՞նչ կարող եք ասել 7 սմ տրամագծով երկու գնդային մակերևույթների փոխադարձ դասավորության մասին, եթե նրանց կենտրոնների հեռավորությունը՝ ա) 8 սմ է, բ) 4 սմ է, գ) 7 սմ է, դ) փոքր է 7 սմ-ից, ե) մեծ է 9 սմ-ից:

Ծանոթություն: Երկու գնդային մակերևույթների փոխադարձ դասավորությունը կարող է լինել՝ 1) ընդհանուր կետ չունեն, 2) ունեն միայն մեկ ընդհանուր կետ, 3) ունեն ընդհանուր կետեր:

264. Գնդային մակերևույթի մեծ շրջանագծի վրա երեք կետեր նշված են այնպես, որ այդ շրջանագիծը բաժանված է երեք հավասար աղեղների: Ապացուցեք, որ այդ կետերը հավասարակողմ եռանկյան գագաթներ են:

ԳԼՈՒԽ VI-Ի ԿՐԿՆՈՒԹՅԱՆ ՀԱՐՅԵՐ

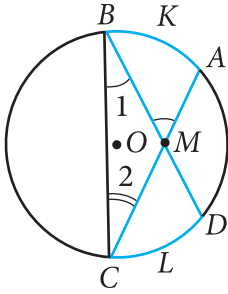
1. Պարզաբանեք երկու կետով անցնող շրջանագիծը որոշելու հարցը:
2. Ինչպե՞ս է որոշվում շրջանագիծն իր երեք կետերով:
3. Հետազոտեք ուղղի և շրջանագծի փոխադարձ դասավորությունը՝ համեմատելով շրջանագծի շառավիղը և կենտրոնից մինչև ուղիղը եղած հեռավորությունը: Ձևակերպեք ստացված արդյունքը:
4. Ո՞ր ուղիղն է կոչվում շրջանագծին հատող:
5. Ո՞ր ուղիղն է կոչվում շրջանագծի շոշափող: Ո՞ր կետն է կոչվում շրջանագծի և ուղղի շոշափման կետ:
6. Ձևակերպեք և ապացուցեք թեորեմ շոշափողի հատկության մասին:
7. Ապացուցեք, որ մի կետից շրջանագծին տարված շոշափողի հատվածները հավասար են, և դրանք կազմում են հավասար անկյուններ այն ուղղի հետ, որն անցնում է այդ կետով ու շրջանագծի կենտրոնով:
8. Ձևակերպեք և ապացուցեք շոշափողի հատկության մասին թեորեմի հակադարձ թեորեմը:
9. Պարզաբանեք, թե տրված շրջանագծի վրա տրված կետով ինչպես տանել շոշափող այդ շրջանագծին:
10. Ո՞ր անկյունն է կոչվում շրջանագծի կենտրոնային անկյուն:
11. Պարզաբանեք, թե որ աղեղն է կոչվում կիսաշրջանագիծ: Ո՞ր աղեղն է կիսաշրջանագծից փոքր, և ո՞րը՝ կիսաշրջանագծից մեծ:
12. Ինչպե՞ս է որոշվում աղեղի աստիճանային չափը: Ինչպե՞ս է այն նշանակվում:
13. Ո՞ր անկյունն է կոչվում ներգծյալ: Ձևակերպեք և ապացուցեք թեորեմ ներգծյալ անկյան մասին:
14. Ապացուցեք, որ միևնույն աղեղի վրա հենված ներգծյալ անկյունները հավասար են:
15. Ապացուցեք, որ կիսաշրջանագծի վրա հենված ներգծյալ անկյունը ուղիղ է:

16. Ձևակերպեք և ապացուցեք թեորեմ անկյան կիսորդի մասին:
17. Ապացուցեք, որ եռանկյան կիսորդները հատվում են մի կետում:
18. Ո՞ր հատվածն է կոչվում հատվածի միջնուղղահայաց: Վերհիշեք հատվածի միջնուղղահայացի հատկությունը:
19. Ապացուցեք, որ եռանկյան կողմերի միջնուղղահայացները հատվում են մի կետում:
20. Ձևակերպեք և ապացուցեք թեորեմ եռանկյան բարձրությունների հատման մասին:
21. Ձևակերպեք եռանկյան միջնագծերի հատման կետի մասին պնդումը:
22. Ո՞ր շրջանագիծն է կոչվում բազմանկյանը ներգծյալ: Ո՞ր բազմանկյունն է կոչվում շրջանագծին արտագծյալ:
23. Ձևակերպեք և ապացուցեք թեորեմ եռանկյան ներգծյալ շրջանագծի մասին: Քանի՞ շրջանագիծ կարելի է ներգծել տրված եռանկյանը:
24. Ի՞նչ հատկություն ունեն շրջանագծին արտագծված քառանկյան կողմերը:
25. Ո՞ր շրջանագիծն է կոչվում բազմանկյանը արտագծյալ: Ո՞ր բազմանկյունն է կոչվում շրջանագծին ներգծյալ:
26. Ձևակերպեք և ապացուցեք թեորեմ եռանկյան արտագծյալ շրջանագծի մասին: Քանի՞ շրջանագիծ է հնարավոր արտագծել եռանկյանը:
27. Ի՞նչ հատկություն ունեն շրջանագծին ներգծած քառանկյան անկյունները:
28. Պարզաբանեք երկու շրջանագծերի փոխադարձ դասավորության դեպքերը՝ կախված նրանց շառավիղներից և կենտրոնների հեռավորությունից:
29. Նկարագրեք, թե ինչ է էլիպսը, բերեք օրինակներ: Ցույց տվեք էլիպսի համաչափության առանցքները և կենտրոնը:
30. Ո՞ր բազմանկյունն է կոչվում կանոնավոր: Բերեք կանոնավոր բազմանկյունների օրինակներ:
31. Արտածեք կանոնավոր n -անկյան անկյունը հաշվելու բանաձևը:
32. Ձևակերպեք և ապացուցեք թեորեմ կանոնավոր բազմանկյանն արտագծած շրջանագծի մասին:
33. Ձևակերպեք և ապացուցեք թեորեմ կանոնավոր բազմանկյանը ներգծած շրջանագծի մասին:

34. Նկարագրեք, թե ինչպես կարելի է ստանալ գլան: Ի՞նչ է գլանի առանցքային հատույթը:
35. Նկարագրեք, թե ինչպես կարելի է ստանալ կոն: Ի՞նչ է կոնի առանցքային հատույթը:
36. Ի՞նչ է գնդային մակերևույթը: Ինչպե՞ս կարելի է ստանալ գնդային մակերևույթ: Ի՞նչ են մեծ շրջանագծերը:

Լրացուցիչ խնդիրներ

265. Ապացուցեք, որ շրջանագծի՝ տրամագիծ չհանդիսացող լարի ծայրակետերով տարված շոշափողները հատվում են:
266. AB և AC ուղիղները B և C կետերում շոշափում են O կենտրոնով շրջանագիծը: BC աղեղի կամայական X կետով տարված է այդ շրջանագծին շոշափող, որը M և N կետերում հատում է AB և AC հատվածները: Ապացուցեք, որ AMN եռանկյան պարագիծը և MON անկյան մեծությունը կախված չեն BC աղեղի վրա X կետի ընտրությունից:
- 267*. Երկու շրջանագծեր ունեն ընդհանուր կետ՝ M -ը, և այդ կետում ընդհանուր շոշափող: AB ուղիղը շոշափում է շրջանագծերից մեկը A կետում, իսկ մյուսը՝ B կետում: Ապացուցեք, որ M կետը գտնվում է AB տրամագծով շրջանագծի վրա:
268. Շրջանագծի AA_1 տրամագիծը ուղղահայաց է BB_1 լարին: Ապացուցեք, որ կիսաշրջանագծից փոքր AB և AB_1 աղեղների աստիճանային չափերը հավասար են:
269. A , B , C և D կետերը գտնվում են շրջանագծի վրա: Ապացուցեք, որ եթե $\cup AB = \cup CD$, ապա $AB = CD$:
270. AB հատվածը շրջանագծի տրամագիծ է, իսկ BC և AD լարերը զուգահեռ են: Ապացուցեք, որ CD լարը տրամագիծ է:



Նկ. 78

271. Ըստ նկար 78-ի տվյալների՝ ապացուցեք, որ

$$\angle AMB = \frac{1}{2}(\cup CLD + \cup AKB):$$

Լուծում: Տանենք BC լարը: Քանի որ $\angle AMB$ -ն BMC եռանկյան արտաքին անկյուն է, ապա $\angle AMB = \angle 1 + \angle 2$: Ըստ ներգծյալ անկյան մասին թեորեմի՝

$$\angle 1 = \frac{1}{2} \cup CLD, \angle 2 = \frac{1}{2} \cup AKB:$$

$$\text{Հետևաբար՝ } \angle AMB = \frac{1}{2}(\cup CLD + \cup AKB):$$

272. Շրջանից դուրս վերցրած կետով տարված են այդ շրջանագծի երկու հատող: Ապացուցեք, որ դրանց կազմած անկյունը չափվում է այն աղեղների աստիճանային չափերի կիսատարբերությամբ, որոնք առնված են հատողների միջև:

273. Կարո՞ղ է արդյոք տարակողմ եռանկյան գագաթը գտնվել եռանկյան կողմերից մեկի միջնուղղահայացի վրա: Պատասխանը հիմնավորեք:

274. Ապացուցեք, որ եթե ուղղանկյանը կարելի է շրջանագիծ ներգծել, ապա այն քառակուսի է:

275. Ապացուցեք, որ եթե սեղանի հիմքերն ընդգրկող ուղիղները շոշափում են շրջանագիծը, և շոշափման կետերը գտնվում են հիմքերի վրա, ապա սեղանի միջին գիծն անցնում է շրջանագծի կենտրոնով:

276. Ապացուցեք, որ եթե ուռուցիկ քառանկյան հանդիպակաց կողմերի գումարները հավասար են, ապա այդ քառանկյանը կարելի է ներգծել շրջանագիծ:

Լուծում: Դիցուք՝ $ABCD$ ուռուցիկ քառանկյան մեջ $AB + CD = BC + AD$ (1)

A և B անկյունների կիսորդների հատման O կետը հավասարապես է հեռացված AD , AB և BC կողմերից: Ուրեմն՝ O կենտրոնով կարելի է տանել շրջանագիծ, որին շոշափում են այդ երեք կողմերը (նկ. 79(ա)): Ապացուցենք, որ CD կողմը ևս շոշա-

փում է այդ շրջանագիծը, և դա կնշանակի, որ տվյալ շրջանագիծը քառանկյանը ներգծյալ է:

Ենթադրենք հակառակը. CD ուղիղը կամ ընդհանուր կետ չունի շրջանագծի հետ, կամ հատում է շրջանագիծը:

Քննության առնենք առաջին դեպքը (սկ. 79(բ)): Տանենք C_1D_1 շոշափողը, որը գուցահեռ է CD -ին (C_1 -ը և D_1 -ը այդ շոշափողի հատման կետերն են BC և AD կողմերի հետ): Քանի որ ABC_1D_1 -ը շրջանագծին արտագծյալ քառանկյուն է, ապա ըստ նրա կողմերի հատկության՝

$$AB + C_1D_1 = BC_1 + AD_1 \quad (2)$$

Բայց $BC_1 = BC - C_1C$, $AD_1 = AD - D_1D$: Հետևաբար՝ (2) հավասարությունից ստանում ենք.

$$C_1D_1 + C_1C + D_1D = BC + AD - AB$$

Այս հավասարության աջ մասը, հաշվի առնելով (1) հավասարությունը, հավասար է CD : Այսպիսով՝ հանգում ենք հետևյալ հավասարությանը.

$$C_1D_1 + C_1C + D_1D = CD$$

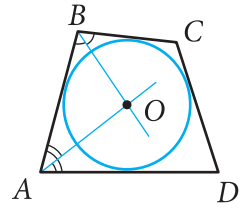
Ստացվում է, որ C_1CDD_1 քառանկյան կողմերից մեկը հավասար է մյուս երեք կողմերի գումարին: Իսկ դա լինել չի կարող, և, հետևաբար, մեր ենթադրությունը սխալ է:

Նույն եղանակով ապացուցվում է նաև, որ CD ուղիղը չի կարող լինել շրջանագծին հատող: Հետևաբար՝ CD -ն շոշափում է շրջանագիծը, ինչը և պահանջվում էր ապացուցել:

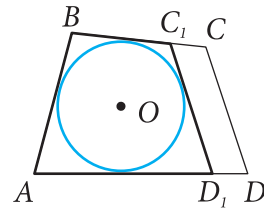
277. Եռանկյանն արտագծած շրջանագծի կենտրոնը գտնվում է միջնագծի վրա: Ապացուցեք, որ այդ եռանկյունը հավասարասրուն է կամ ուղղանկյուն:

278. Հավասարասրուն եռանկյանը ներգծած է O_1 կենտրոնով շրջանագիծ, և արտագծած է O_2 կենտրոնով շրջանագիծ: Ապացուցեք, որ O_1 և O_2 կենտրոնները գտնվում են եռանկյան հիմքի միջնուղղահայացի վրա:

279. Ապացուցեք, որ եթե շեղանկյանը կարելի է արտագծել շրջանագիծ, ապա այդ շեղանկյունը քանակուսի է:



ա)



բ)

Նկ. 79

280. Ապացուցեք, որ եթե քառանկյան հանդիպակաց անկյունների գումարը 180° է, ապա այդ քառանկյանը կարելի է արտագծել շրջանագիծ:

Լուծում: Դիցուք՝ $ABCD$ քառանկյան մեջ $\angle A + \angle C = 180^\circ$ (1)

Քառանկյան գագաթներից երեքով՝ A -ով, B -ով և D -ով, տանենք շրջանագիծ (նկ. 80(ա)): Ապացուցենք, որ այն անցնում է նաև C գագաթով, և դրանից կհետևի, որ այդ շրջանագիծն արտագծված է $ABCD$ քառանկյանը:

Ենթադրենք՝ այդպես չէ: Այդ դեպքում C գագաթն ընկած կլինի կամ շրջանի ներսում, կամ նրանից դուրս: Քննության առնենք առաջին դեպքը (նկ. 80(բ)):

Այս դեպքում $\angle C = \frac{1}{2} (\cup DAB + \cup EF)$ (տես

խնդիր 271-ը), հետևաբար՝ $\angle C > \frac{1}{2} \cup DAB$:

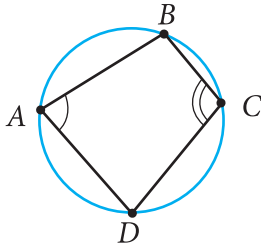
Քանի որ $\angle A = \frac{1}{2} \cup BED$, ապա $\angle A + \angle C > \frac{1}{2} (\cup BED + \cup DAB) = \frac{1}{2} \cdot 360^\circ = 180^\circ$:

Այսպիսով՝ ստացվում է, որ $\angle A + \angle C > 180^\circ$: Իսկ դա հակասում է (1) պայմանին, և, ուրեմն, մեր ենթադրությունը սխալ է:

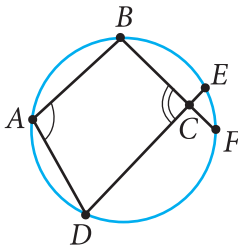
Նույն եղանակով ապացուցվում է նաև, որ C գագաթը չի կարող ընկած լինել շրջանից դուրս (խնդիր 272): Հետևաբար՝ C գագաթը գտնվում է շրջանագծի վրա, ինչը պահանջվում էր ապացուցել:

281. A և B կետերից տարված են AOB անկյան կողմերին ուղղահայաց ուղիղներ, որոնք հատվում են անկյան ներսում գտնվող C կետում: Ապացուցեք, որ $ACBO$ քառանկյանը կարելի է արտագծել շրջանագիծ:

282. Ապացուցեք, որ սեղանի անկյունների կիսորդաների հատումից ստացված ուռուցիկ քառանկյանը կարելի է արտագծել շրջանագիծ:



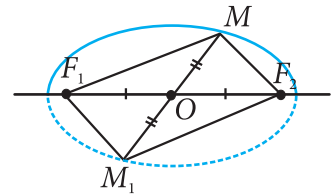
ա)



բ)
Նկ. 80

283. ABC ուղղանկյուն եռանկյան մեջ AC կողմի M կետից տարված է AB ներքնաձիգին ուղղահայաց՝ MH -ը: Ապացուցեք, որ MHC և MBC անկյունները հավասար են:
284. Ապացուցեք, որ եթե զուգահեռագծին կարելի է և՛ ներգծել, և՛ արտագծել շրջանագիծ, ապա այդ զուգահեռագիծը քառակուսի է:
285. Տրված են a ուղիղը, նրա վրա A կետը և նրա վրա չգտնվող B կետը: Կառուցեք շրջանագիծ, որն անցնի B կետով և a ուղիղը շոշափի A կետում:
286. Տրված են երկու զուգահեռ ուղիղներ և մի կետ, որը չի գտնվում դրանցից ոչ մեկի վրա: Կառուցեք այդ կետով անցնող շրջանագիծ, որին այդ ուղիղները լինեն շոշափող:
287. Ապացուցեք, որ F_1 և F_2 կիզակետեր ունեցող էլիպսի յուրաքանչյուր կետի՝ F_1F_2 հատվածի միջնակետի նկատմամբ համաչափ կետը պատկանում է էլիպսին:

Լուծում: Դիցուք՝ M -ը էլիպսի կամայական կետ է, և M_1 -ը նրա համաչափ կետն է F_1F_2 հատվածի O միջնակետի նկատմամբ (նկ. 81): Ունենք՝ $F_1O = F_2O$, $MO = M_1O$: M և M_1 կետերը հատվածներով միացնենք F_1 և F_2 կիզակետերին և ցույց տանք, որ $MF_1 + MF_2 = M_1F_1 + M_1F_2$, որից էլ, ըստ էլիպսի սահմանման, կրիսի, որ M_1 կետը ևս պատկանում է էլիպսին:



Նկ. 81

Դիտարկենք այն դեպքը, երբ M կետը չի գտնվում F_1F_2 առանցքի վրա: Նկատենք, որ $MF_1M_1F_2$ քառանկյունը զուգահեռագիծ է՝ ըստ զուգահեռագծի երրորդ հայտանիշի:

Ուրեմն՝ նրա հանդիպակաց կողմերը հավասար են. $MF_1 = M_1F_2$ և $MF_2 = M_1F_1$, որից հետևում է, որ $M_1F_1 + M_1F_2 = MF_1 + MF_2$:

Այս հավասարությունը տեղի ունի նաև այն դեպքում, երբ M կետը ընկած է F_1F_2 առանցքի վրա (հիմնադրե՛ք ինքնուրույն):

288. Ապացուցեք, որ F_1 և F_2 կիզակետեր ունեցող էլիպսի յուրաքանչյուր կետի՝ F_1F_2 առանցքի նկատմամբ համաչափ կետը պատկանում է էլիպսին:
289. Քանի՞ կողմ ունի այն կանոնավոր բազմանկյունը, որի արտաքին անկյուններից մեկը հավասար է՝ ա) 18° , բ) 40° , գ) 72° , դ) 60° :
290. Գտեք $A_1A_2A_3A_4A_5A_6$ կանոնավոր վեցանկյան պարագիծը, եթե $A_1A_4 = 2,24$ մ:
- 291*. Կառուցեք կանոնավոր ութանկյուն, որի կողմը հավասար է տրված հատվածին:
- 292*. Տրված շրջանագծին արտագծեք՝ ա) կանոնավոր եռանկյուն, բ) կանոնավոր վեցանկյուն:
293. Տրված շրջանագծին արտագծեք՝ ա) կանոնավոր քառանկյուն, բ) կանոնավոր ութանկյուն:

ԳԼՈՒԽ VII

Մակերես

§1

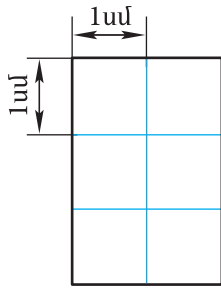
ԲԱԶՄԱՆԿՅԱՆ ՄԱԿԵՐԵՍԸ

39. Բազմանկյան մակերեսի հասկացությունը

«Մակերես» հասկացությունը մեզ ծանոթ է ամենօրյա փորձից: Բոլորն էլ հասկանում են այն խոսքի իմաստը, երբ ասվում է՝ սենյակի մակերեսը տասնվեց քառակուսի մետր է, այգու հողակտորի մակերեսը ութ ար է և այլն: Այժմ մենք կդիտարկենք հարցեր, որոնք վերաբերում են բազմանկյունների մակերեսներին:

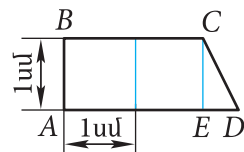
Կարելի է ասել՝ բազմանկյան մակերեսը հարթության այն մասի մեծությունն է, որ գրավում է այդ բազմանկյունը: Մակերեսներ չափելու համար ընտրվում է չափման միավոր, և դա համանման է հատվածների երկարությունների չափմանը: Որպես մակերեսների չափման միավոր է ընդունվում այն քառակուսին, որի կողմը հավասար է հատվածների չափման միավորին: Այսպես, եթե իբրև հատվածների չափման միավոր ընդունվում է սանտիմետրը, ապա որպես մակերեսների չափման միավոր է ծառայում 1 սմ կողմով քառակուսին: Այդպիսի քառակուսին կոչվում է *քառակուսի սանտիմետր և նշանակվում է սմ²*: Նույն կերպ որոշվում է *քառակուսի մետրը (մ²)*, *քառակուսի միլիմետրը (մմ²)* և այլն:

Մակերեսների չափման ընտրված միավորի դեպքում յուրաքանչյուր բազմանկյան մակերեսն արտահայտվում է դրական թվով: Այդ թիվը ցույց է տալիս, թե տվյալ բազմանկյան մեջ քանի անգամ են տեղավորվում ընտրված միավորն ու նրա մասերը: Օրինակ՝ 82(ա) նկարում պատկերված է ուղղանկյուն, որի մեջ քառակուսի սան-

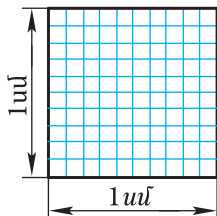


$$S=6u\text{đ}^2$$

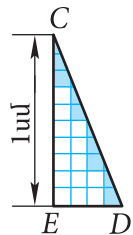
ա)



բ)



գ)



դ)

Նկ. 82

տիմետրը տեղավորվում է ձիշտ 6 անգամ: Դա նշանակում է, որ ուղղանկյան մակերեսը հավասար է 6 սմ²: 82(բ) նկարում պատկերված $ABCD$ սեղանի մեջ քառակուսի սանտիմետրը տեղավորվում է երկու անգամ, բայց սեղանից մնում է մի մաս՝ CDE եռանկյունը, որի մեջ քառակուսի սանտիմետրը ամբողջությամբ չի տեղավորվում: Այդ եռանկյան մակերեսը չափելու համար հարկավոր է օգտագործել քառակուսի սանտիմետրի մասերը. օրինակ՝ քառակուսի միլիմետրը, որը կազմում է քառակուսի սանտիմետրի 0,01 մասը: Դա ցույց է տրված 82(գ) նկարում, որտեղ քառակուսի սանտիմետրը տրոհված է 100 քառակուսի միլիմետրի (այդ և 82(դ) նկարները ավելի դիտողական դարձնելու նպատակով պատկերված են խոշորացված մասշտաբներով): 82(դ) նկարում երևում է, որ CDE եռանկյան մեջ քառակուսի միլիմետրը տեղավորվում է 14 անգամ, բայց մնում է եռանկյան այնպիսի մաս, որի մեջ քառակուսի միլիմետրը ամբողջությամբ չի տեղավորվում (նկարի վրա այդ մասը ստվերագծված է): Հետևաբար՝ կարելի է ասել, որ $ABCD$ սեղանի մակերեսը մոտավորապես 2,14 սմ² է: CDE եռանկյան մնացած մասը կարելի է չափել քառակուսի սանտիմետրի ավելի փոքր մասերի օգնությամբ. այդ դեպքում ստացվում է սեղանի մակերեսի ավելի ճշգրիտ արժեք:

Չափման նկարագրված ընթացքը կարելի է երկար շարունակել, սակայն գործնականում դա այնքան էլ հարմար չէ: Սովորաբար չափում են բազմանկյունների հետ կապված որոշ հատվածները միայն, իսկ հետո մակերեսը հաշվում են որոշակի բանաձևերով: Այդ բանաձևերի արտածումը հիմնվում է մակերեսների այն հատկությունների վրա, որոնք մենք հիմա կդիտարկենք:

Սկզբից նշենք, որ եթե երկու բազմանկյուններ հավասար են, ապա մակերեսների չափման միավորն ու նրա մասերը այդ բազմանկյունների մեջ տեղավորվում են նույնքան անգամ, այսինքն՝ տեղի ունի հետևյալ հատկությունը.

1⁰. Հավասար բազմանկյունների մակերեսները հավասար են:

Այնուհետև դիտարկենք բազմանկյուն, որը կազմված է մի քանի բազմանկյուններից (այս դեպքում ենթադրում ենք, որ այդ բազմանկյուններից ցանկացած երկուսը չունեն ընդհանուր մաս. տե՛ս նկ. 83): Ակնհայտ է, որ հարթության այն մասի մեծությունը, որ գրավում է ամբողջ բազմանկյունը, հարթության այն մասերի մեծությունների գումարն է, որ գրավել են նրա բաղադրիչ բազմանկյունները:

Այսպիսով՝

2^o. Եթե բազմանկյունը կազմված է մի քանի բազմանկյուններից, ապա նրա մակերեսը հավասար է այդ բազմանկյունների մակերեսների գումարին:

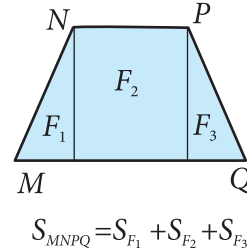
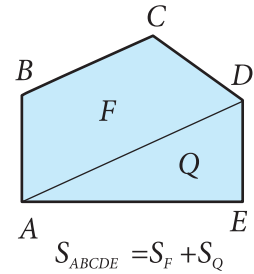
1^o և 2^o հատկությունները *մակերեսների հիմնական հարկություններն են*: Հիշենք, որ համանման հատկություններով օժտված են նաև հատվածների երկարությունները:

Այս հատկությունների հետ մեկտեղ անհրաժեշտ է իմանալ մակերեսների ևս մեկ հատկություն.

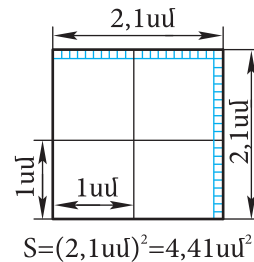
3^o. Քառակուսու մակերեսը հավասար է նրա կողմի քառակուսուն:

Այս հատկության հակիրճ ձևակերպումը պետք է հասկանալ այսպես. եթե քառակուսու կողմը հատվածների չափման ընտրված միավորով արտահայտվում է a թվով, ապա այդ քառակուսու մակերեսն արտահայտվում է a^2 թվով: Նկար 84-ում պատկերված է 2,1 սմ կողմով քառակուսի: Այն կազմված է չորս քառակուսի սանտիմետրից և քառասունմեկ քառակուսի միլիմետրից: Այսպիսով՝ այդ քառակուսու մակերեսը հավասար է 4,41 սմ², որն էլ հավասար է նրա կողմի քառակուսուն. $4,41 = (2,1)^2$:

3^o պնդման ապացուցումը բերված է հաջորդ կետում:

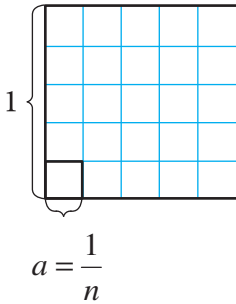


Նկ. 83

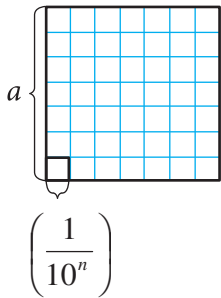


Նկ. 84

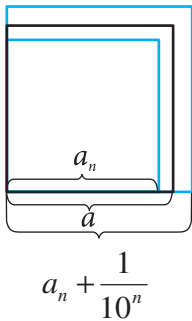
40.* Քառակուսու մակերեսը



ա)



բ)



գ)

Նկ. 85

Ապացուցենք, որ a կողմով քառակուսու S մակերեսը հավասար է a^2 :

Սկսենք այն դեպքից, երբ $a = \frac{1}{n}$, որտեղ n -ը ամբողջ թիվ է: Վերցնենք 1 կողմով քառակուսի և այն տրոհենք n^2 հատ հավասար քառակուսիների այնպես, ինչպես ցույց է տրված 85(ա) նկարում (այս նկարում $n = 5$): Քանի որ մեծ քառակուսու մակերեսը հավասար է 1-ի, ուրեմն փոքր քառակուսիներից յուրաքանչյուրի մակերեսը հավասար է $\frac{1}{n^2}$: Յուրաքանչյուր փոքր քառակուսու կողմը հավասար է $\frac{1}{n}$ -ի, այսինքն՝ a -ի:

$$\text{Այսպիսով՝ } S = \frac{1}{n^2} = \left(\frac{1}{n}\right)^2 = a^2 : \quad (1)$$

Այժմ ենթադրենք, որ a թիվը վերջավոր տասնորդական կոտորակ է և ստորակետից հետո պարունակում է n նիշ (a -ն կարող է լինել մասնավորապես նաև ամբողջ թիվ, որի համար $n = 0$): Այդ դեպքում $m = a \cdot 10^n$ թիվը ամբողջ թիվ է: a կողմով քառակուսին տրոհենք m^2 հատ հավասար քառակուսիների այնպես, ինչպես ցույց է տրված 85(բ) նկարում (այս նկարում $m = 7$): Այդ դեպքում տրված քառակուսու յուրաքանչյուր կողմը տրոհվում է m հավասար մասերի, և, ուրեմն, փոքր քառակուսիներից յուրաքանչյուրի կողմը հավասար է՝ $\frac{a}{m} = \frac{a}{a \cdot 10^n} = \frac{1}{10^n}$:

Ըստ (1) բանաձևի՝ յուրաքանչյուր փոքր քառակուսու մակերեսը հավասար է $\left(\frac{1}{10^n}\right)^2$:

Հետևաբար՝ տրված քառակուսու S մակերեսը հավասար է.

$$m^2 \cdot \left(\frac{1}{10^n}\right)^2 = \left(\frac{m}{10^n}\right)^2 = \left(\frac{a \cdot 10^n}{10^n}\right)^2 = a^2$$

Վերջապես՝ ենթադրենք, որ a թիվը անվերջ տասնորդական կոտորակ է: Դիտարկենք այնպիսի a_n թիվ, որն ստացվում է a թվից, եթե նրա ստորակետից հետո $(n+1)$ -րդից սկսած բոլոր թվանշանները դեն ենք գցում: Քանի որ a թիվը a_n -ից տարբերվում է ոչ ավելի, քան $\frac{1}{10^n}$ -ը, ապա $a_n \leq a \leq a_n + \frac{1}{10^n}$: Այստեղից՝

$$a_n^2 \leq a^2 \leq \left(a_n + \frac{1}{10^n}\right)^2 \quad (2)$$

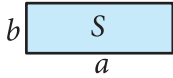
Պարզ է, որ տրված քառակուսու S մակերեսը եզրափակված է a_n կողմով քառակուսու և $a_n + \frac{1}{10^n}$ կողմով քառակուսու մակերեսների միջև (նկ. 85(q)), այսինքն՝ a_n^2 և $\left(a_n + \frac{1}{10^n}\right)^2$ մեծությունների միջև.

$$a_n^2 \leq S \leq \left(a_n + \frac{1}{10^n}\right)^2 \quad (3)$$

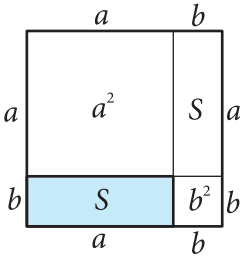
Այժմ պատկերացնենք, որ n թիվը անսահմանափակորեն մեծացնում ենք: Այդ ընթացքում $\frac{1}{10^n}$ թիվը կդառնա որքան ուզեք փոքր: Ուրեմն՝ $\left(a_n + \frac{1}{10^n}\right)^2$ թիվը a_n^2 թվից կտարբերվի որքան ուզեք փոքր չափով: Հետևաբար՝ (2) և (3) անհավասարություններից բխում է, որ S թիվը որքան ուզեք քիչ կտարբերվի a^2 թվից: Դրանից հետևում է, որ նրանք հավասար են. $S = a^2$, ինչն էլ պահանջվում էր ապացուցել:

41. Ուղղանկյան մակերեսը

Թեորեմ: Ուղղանկյան մակերեսը հավասար է նրա կից կողմերի արտադրյալին:



ա)



բ)

Նկ. 86

Ապացուցում: Դիտարկենք a , b կողմերով և S մակերեսով ուղղանկյունը (Նկ. 86(ա)): Ապացուցենք, որ $S = ab$:

Ուղղանկյունը լրացնենք այնպես, մինչև ստացվի $a + b$ կողմով քառակուսի, ինչպես ցույց է տրված 86(բ) նկարում: Ըստ 3^0 հատկության՝ այդ քառակուսու մակերեսը հավասար է $(a + b)^2$: Մյուս կողմից՝ այդ քառակուսին կազմված է S մակերեսով տրված ուղղանկյունից, նրան հավասար և, ուրեմն, նույնպես S մակերեսով մեկ այլ ուղղանկյունից (ըստ մակերեսների 1^0 հատկության) և a^2 ու b^2 մակերեսներով երկու քառակուսուց (ըստ մակերեսների 3^0 հատկության):

Ըստ մակերեսների 2^0 հատկության՝

$$(a + b)^2 = a^2 + b^2 + S + S \quad \text{կամ}$$

$$a^2 + 2ab + b^2 = a^2 + b^2 + 2S:$$

Այստեղից ստացվում է՝ $S = ab$: **Թեորեմն ապացուցված է:**

Հարցեր և խնդիրներ

294. Թղթից կտրեք երկու հավասար ուղղանկյուն եռանկյուններ և դրանցով կազմեք՝ ա) հավասարաբարուն եռանկյուն, բ) ուղղանկյուն, գ) ուղղանկյուն չհանդիսացող զուգահեռագիծ: Համեմատեք ստացված պատկերների մակերեսները:

295. Գծագրեք քառակուսի և այն ընդունեք որպես մակերեսների չափման միավոր: Այնուհետև գծագրեք՝ ա) քառակուսի, որի մակերեսն արտահայտող թիվը 4 է, բ) քառակուսի չհանդիսացող ուղղանկյուն, որի մակերեսն արտահայտող թիվը 4 է, գ) եռանկյուն, որի մակերեսն արտահայտող թիվը 2 է:

296. Գծագրեք $ABCD$ զուգահեռագիծ և նշեք այնպիսի M կետ, որը համաչափ է D կետին C կետի նկատմամբ: Ապացուցեք, որ $S_{ABCD} = S_{AMD}$:

297. $ABCD$ ուղղանկյան AD կողմի վրա կառուցված է ADE եռանկյուն այնպես, որ նրա AE և DE կողմերը BC հատվածը հատում են M և N կետերում, ընդ որում՝ M կետը AE հատվածի միջնակետն է: Ապացուցեք, որ $S_{ABCD} = S_{ADE}$:
298. Գտեք քառակուսու մակերեսը, եթե նրա կողմը հավասար է՝ ա) 1,2 սմ, բ) $\frac{3}{4}$ դմ, գ) $3\frac{1}{3}$ մ:
299. Որոշեք այն քառակուսու կողմը, որի մակերեսը հավասար է՝ ա) 16 սմ², բ) 25 դմ², գ) 2,25 մ²:
300. Քառակուսու մակերեսը 24սմ² է: Այդ քառակուսու մակերեսն արտահայտեք՝ ա) քառակուսի միլիմետրով, բ) քառակուսի դեցիմետրով:
301. Ինչպե՞ս կփոփոխվի քառակուսու մակերեսը, եթե նրա կողմերը՝ ա) մեծացվեն 3 անգամ, բ) փոքրացվեն 2 անգամ:
302. Քանի՞ անգամ պետք է մեծացնել քառակուսու կողմը, որպեսզի նրա մակերեսը մեծանա 36 անգամ:
303. Դիցուք՝ ուղղանկյան կից կողմերն են a -ն և b -ն, իսկ մակերեսը՝ S -ը: Գտեք՝ ա) S -ը, եթե $a = 8,5$ սմ, $b = 3,2$ սմ, բ) S -ը, եթե $a = \frac{2}{3}$ սմ, $b = 1,2$ սմ, գ) b -ն, եթե $a = 32$ սմ, $S = 684$ սմ², դ) a -ն, եթե $b = 4,5$ դմ, $S = 1215$ սմ²:
304. Ինչպե՞ս կփոփոխվի ուղղանկյան մակերեսը, եթե՝ ա) հանդիպակաց կողմերի զույգերից մեկը մեծացնեն 2 անգամ, բ) կողմերից յուրաքանչյուրը մեծացնեն 2 անգամ, գ) հանդիպակաց կողմերի զույգերից մեկը մեծացնեն 2 անգամ, իսկ մյուսը փոքրացնեն 2 անգամ:
305. Ուղղանկյան կից կողմերը հարաբերում են, ինչպես 4 : 3, իսկ նրա պարագիծը 28 սմ է: Գտեք այդ ուղղանկյան մակերեսը:
306. Ուղղանկյան կողմերից մեկը 12 սմ է, իսկ մակերեսը՝ 96 սմ²: Գտեք այդ ուղղանկյան պարագիծը:

307. Քառակուսու պարագիծը 32 սմ է, իսկ ուղղանկյան կողմերից մեկը՝ 45 սմ: Գտեք այդ ուղղանկյան մյուս կողմը, եթե հայտնի է, որ նրա և քառակուսու մակերեսները հավասար են:
308. Տրված է $ABCD$ քառակուսին: AD ճառագայթի վրա վերցված է M կետն այնպես, որ $\angle AMB = 30^\circ$, և $BM = 20$ սմ: Գտեք այդ քառակուսու մակերեսը:
309. $ABCD$ ուղղանկյան A անկյան կիսորդը BC կողմը հատում է K կետում: Հայտնի է, որ $BK = 5$ սմ, $KC = 7$ սմ: Գտեք այդ ուղղանկյան մակերեսը:
310. $ABCD$ ուղղանկյան A և D անկյունների կիսորդները BC կողմի հետ հատվում են միևնույն M կետում: Գտեք այդ ուղղանկյան մակերեսը, եթե հայտնի է, որ նրա պարագիծը 42 սմ է:
311. Անհրաժեշտ է սենյակի՝ 5,5 մ և 6 մ կողմերով ուղղանկյունաձև հատակը ծածկել մանրահատակով: Դրա համար քանի՞ մանրատախտակ կպահանջվի, եթե այդ տախտակներից յուրաքանչյուրն ունի 30 սմ երկարությամբ և 5 սմ լայնությամբ ուղղանկյան ձև:
312. 15 սմ կողմով քառակուսաձև քանի՞ սալիկ կպահանջվի, որպեսզի երեսպատվի 3 մ և 2,7 մ կողմերով ուղղանկյունաձև պատը:
313. Հավասար ցանկապատերով հողակտորներից մեկն ունի քառակուսու, իսկ մյուսը՝ այնպիսի ուղղանկյան ձև, որի երկարությունը 20 մ է, լայնությունը՝ 10 մ: Ո՞ր հողակտորի մակերեսն է ավելի մեծ և ինչքանո՞վ:

§2

ԶՈՒԳԱՅԵՈՒԳԾԻ, ԵՌԱՆԿՅԱՆ
ԵՎ ՍԵՂԱՆԻ ՄԱԿԵՐԵՍՆԵՐԸ

42. Զուգահեռագծի մակերեսը

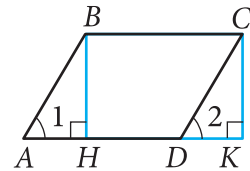
Պայմանավորվենք զուգահեռագծի կողմերից մեկն անվանել *հիմք*, իսկ դրա հանդիպակաց կողմից անկացած կետից այդ հիմքն ընդգրկող ուղղին տարված ուղղահայացը՝ նրա *բարձրություն*:

Թեորեմ: Զուգահեռագծի մակերեսը հավասար է նրա հիմքի և բարձրության արտադրյալին:

Ապացուցում: Դիտարկենք S մակերեսով $ABCD$ զուգահեռագիծը: Որպես հիմք ընդունենք AD կողմը և տանենք բարձրություններ՝ BH -ը և CK -ն (նկ. 87): Պահանջվում է ապացուցել, որ $S = AD \cdot BH$:

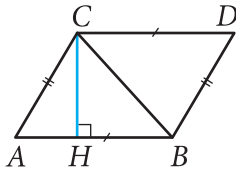
Նախ ապացուցենք, որ $HBCK$ ուղղանկյան մակերեսը նույնպես հավասար է S -ի: $ABCK$ սեղանը կազմված է $ABCD$ զուգահեռագծից և DCK եռանկյունից: Մյուս կողմից՝ այն կազմված է $HBCK$ ուղղանկյունից և ABH եռանկյունից: Բայց DCK և ABH ուղղանկյուն եռանկյունները հավասար են՝ ըստ ներքնաձիգի և սուր անկյան (ներանց AB և CD ներքնաձիգները՝ որպես զուգահեռագծի հանդիպակաց կողմեր, հավասար են, իսկ անկյուններ 1-ը և 2-ը հավասար են որպես համապատասխան անկյուններ, որոնք առաջանում են AB և CD զուգահեռ ուղիղները AD -ով հատելիս): Ուրեմն՝ այդ եռանկյունների մակերեսները հավասար են: Հետևաբար՝ $ABCD$ զուգահեռագծի և $HBCK$ ուղղանկյան մակերեսները նույնպես հավասար են: Այսինքն՝ $HBCK$ ուղղանկյան մակերեսը S է: Ըստ ուղղանկյան մակերեսի մասին թեորեմի՝ $S = BC \cdot BH$: Բայց քանի որ $BC = AD$, ապա $S = AD \cdot BH$:

Թեորեմն ապացուցված է:



Նկ. 87

43. Եռանկյան մակերեսը



Նկ. 88

Եռանկյան կողմերից մեկը հաճախ անվանում են նրա *հիմք*: Եթե հիմքն ընտրված է, ապա ասելով «բարձրություն»՝ հասկանում են եռանկյան այն բարձրությունը, որ տարված է այդ հիմքին:

Թեորեմ: Եռանկյան մակերեսը հավասար է հիմքի և բարձրության արտադրյալի կեսին:

Ապացուցում: Դիցուք՝ S -ը ABC եռանկյան մակերեսն է (Նկ. 88): Որպես եռանկյան հիմք ընդունենք AB կողմը և տանենք CH բարձրությունը: Ապացուցենք, որ

$$S = \frac{1}{2} AB \cdot CH:$$

ABC եռանկյունը լրացնենք՝ կառուցելով $ABCD$ զուգահեռագիծ, ինչպես ցույց է տրված նկար 88-ում: ABC և DCB եռանկյունները հավասար են՝ ըստ երեք կողմի (BC -ն նրանց ընդհանուր կողմ է, $AB = CD$ և $AC = BD$, որպես $ABDC$ զուգահեռագծի հանդիպակաց կողմեր): Հետևաբար՝ ABC եռանկյան S մակերեսը հավասար է $ABDC$ զուգահեռագծի մակերեսի կեսին: Այսինքն՝ $S = \frac{1}{2} AB \cdot CH$: **Թեորեմն ապացուցված է:**

Հետևանք 1. Ուղղանկյուն եռանկյան մակերեսը հավասար է նրա էջերի արտադրյալի կեսին:

Հետևանք 2. Եթե երկու եռանկյան բարձրությունները հավասար են, ապա նրանց մակերեսները հարաբերում են ինչպես հիմքերը:

Օգտվելով հետևանք 2-ից՝ ապացուցենք թեորեմ մեկական հավասար անկյուն ունեցող եռանկյունների մակերեսների հարաբերության մասին:

Թեորեմ: Եթե եռանկյուններից մեկի անկյունը հավասար է մյուսի անկյանը, ապա այդ եռանկյունների մակերեսները հարաբերում են, ինչպես հավասար անկյուն կազմող կողմերի արտադրյալները:

Ապացուցում: Դիցուք՝ S -ը և S_1 -ը ABC և $A_1B_1C_1$ եռանկյունների մակերեսներն են, և նրանց մեջ $\angle A = \angle A_1$ (նկ. 89(ա)):

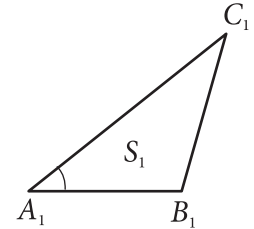
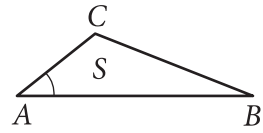
Ապացուցեք, որ
$$\frac{S}{S_1} = \frac{AB \cdot AC}{A_1B_1 \cdot A_1C_1} :$$

$A_1B_1C_1$ եռանկյունը վերադրենք ABC եռանկյանն այնպես, որ A_1 և A զագաթները համընկնեն, իսկ A_1B_1 և A_1C_1 կողմերը վերադրվեն, համապատասխանաբար, AB և AC ճառագայթների վրա (նկ. 89(բ))։ ABC և AB_1C եռանկյուններն ունեն ընդհանուր բարձրություն՝ CH -ը։ Ուրեմն՝ $\frac{S}{S_{AB_1C}} = \frac{AB}{AB_1}$ (ըստ հետևանք 2-ի)։ AB_1C և

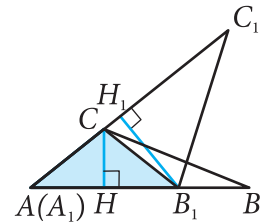
AB_1C_1 եռանկյունները նույնպես ունեն ընդհանուր բարձրություն՝ B_1H_1 -ը։ Ուրեմն՝ $\frac{S_{AB_1C}}{S_{AB_1C_1}} = \frac{AC}{AC_1}$ ։ Բազմապատկելով այս երկու հավասարությունները՝ ստաց-

վում է.
$$\frac{S}{S_{AB_1C_1}} = \frac{AB \cdot AC}{AB_1 \cdot AC_1} \quad \text{կամ} \quad \frac{S}{S_1} = \frac{AB \cdot AC}{A_1B_1 \cdot A_1C_1}$$

Թերեմն ապացուցված է:



ա)

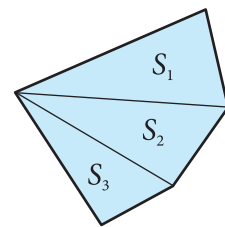


բ)

Նկ. 89

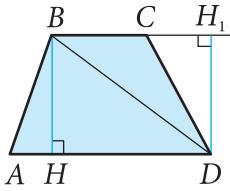
44. Սեղանի մակերեսը

Կամայական բազմանկյան մակերեսը հաշվելու համար սովորաբար բազմանկյունը տրոհում են եռանկյունների և գտնում են եռանկյուններից յուրաքանչյուրի մակերեսը։ Այդ եռանկյունների մակերեսների գումարը հավասար է տրված բազմանկյան մակերեսին (նկ. 90)։ Օգտվելով այդ հնարքից՝ արտածենք սեղանի մակերեսը հաշվելու բանաձևը։ Պայմանավորվենք՝ *սեղանի բարձրություն* անվանել այն ուղղահայացը, որը սեղանի հիմքերից մեկի կամայական կետից տարվում է մյուս հիմքն ընդգրկող ուղղին։ Նկար 91-ում BH հատվածը (ինչպես նաև DH_1 հատվածը) $ABCD$ սեղանի բարձրություն է:



$$S = S_1 + S_2 + S_3$$

Նկ. 90



Նկ. 91

Թեորեմ: Սեղանի մակերեսը հավասար է նրա հիմքերի կիսագումարի և բարձրության արտադրյալին:

Ապացուցում: Դիտարկենք $ABCD$ սեղանը, որի հիմքերն են AD -ն և BC -ն, բարձրությունը՝ BH -ը, իսկ մակերեսը՝ S -ը (Նկ. 91):

$$\text{Ապացուցենք, որ } S = \frac{1}{2}(AD + BC) \cdot BH:$$

BD անկյունագիծը սեղանը տրոհում է երկու՝ ABD և BDC եռանկյունների: Ուրեմն՝ $S = S_{ABD} + S_{BDC}$: AD և BH հատվածներն ընդունենք որպես ABD եռանկյան հիմք և բարձրություն, իսկ BC և DH_1 հատվածները՝ որպես BDC եռանկյան հիմք և բարձրություն: Այդ դեպքում $S_{ABD} = \frac{1}{2}AD \cdot BH$, $S_{BDC} = \frac{1}{2}BC \cdot DH_1$: Քանի որ $DH_1 = BH$,

$$\text{ապա } S_{BDC} = \frac{1}{2}BC \cdot BH:$$

Այսպիսով՝

$$S = \frac{1}{2}AD \cdot BH + \frac{1}{2}BC \cdot BH = \frac{1}{2}(AD + BC) \cdot BH:$$

Թեորեմն ապացուցված է:

Խնդիրներ

314. Դիցուք՝ զուգահեռագծի հիմքը a -ն է, բարձրությունը՝ h -ը, իսկ մակերեսը՝ S -ը: Գտեք՝ ա) S -ը, եթե $a = 15$ սմ, $h = 12$ սմ, բ) a -ն, եթե $S = 34$ սմ², $h = 8,5$ սմ, գ) h -ը, եթե $S = 162$ սմ², $a = 9$ սմ, դ) a -ն, եթե $h = \frac{1}{2}a$, $S = 21a$:

315. Զուգահեռագծի անկյունագիծը 13 սմ է և ուղղահայաց է զուգահեռագծի այն կողմին, որը 12 սմ է: Գտեք զուգահեռագծի մակերեսը:

316. Զուգահեռագծի կից կողմերը հավասար են 12 սմ և 13 սմ, իսկ սուր անկյունը 30° է: Գտեք զուգահեռագծի մակերեսը:

317. Շեղանկյան կողմը 6 սմ է, իսկ անկյուններից մեկը՝ 150° : Գտեք շեղանկյան մակերեսը:
318. Զուգահեռագծի կողմը 8,1 սմ է, իսկ 14 սմ-ի հավասար անկյունագիծը նրա հետ կազմում է 30° անկյուն: Գտեք զուգահեռագծի մակերեսը:
319. Դիցուք՝ a -ն և b -ն զուգահեռագծի կից կողմերն են, իսկ h_1 -ը և h_2 -ը՝ բարձրությունները: Գտեք՝ ա) h_2 -ը, եթե $a = 18$ սմ, $b = 30$ սմ, $h_1 = 6$ սմ, $h_2 > h_1$, բ) h_1 -ը, եթե $a = 10$ սմ, $b = 15$ սմ, $h_2 = 6$ սմ, $h_2 > h_1$, գ) h_1 -ը և h_2 -ը, եթե մակերեսը՝ $S = 54$ սմ², $a = 4,5$ սմ, $b = 6$ սմ:
320. Զուգահեռագծի սուր անկյունը 30° է, իսկ բութ անկյան գագաթից տարված բարձրությունները հավասար են 2 սմ և 3 սմ: Գտեք զուգահեռագծի մակերեսը:
321. Գտեք զուգահեռագծի անկյունները, եթե նրա մակերեսը 40 սմ² է, իսկ կողմերը՝ 10 սմ և 8 սմ:
322. Գտեք զուգահեռագծի անկյունները, եթե նրա մակերեսը 20 սմ² է, իսկ բութ անկյան գագաթից կողմերից մեկին տարված բարձրությունը այդ կողմը տրոհում է 2 սմ և 8 սմ երկարությամբ հատվածների՝ սկսած սուր անկյան գագաթից:
323. $ABCD$ զուգահեռագծի B անկյունը բութ է: AD կողմի շարունակության վրա՝ D կետից դեպի աջ նշված է E կետն այնպես, որ $\angle ECD = 60^\circ$, $\angle CED = 90^\circ$, $AB = 4$ սմ, $AD = 10$ սմ: Գտեք զուգահեռագծի մակերեսը:
324. $MPKT$ զուգահեռագծի MT կողմի վրա նշված է E կետը, $\angle PEM = 90^\circ$, $\angle EPT = 45^\circ$, $ME = 4$ սմ, $ET = 7$ սմ: Գտեք զուգահեռագծի մակերեսը:
325. Որոշեք զուգահեռագծի պարագիծը, եթե նրա կից կողմերի տարբերությունը 10 սմ է, իսկ բարձրությունները հարաբերում են, ինչպես 3 : 5:
326. Զուգահեռագծի անկյունագիծը հավասար է նրա կողմին: Գտեք զուգահեռագծի մակերեսը, եթե նրա մեծ կողմը 15,2 սմ է, իսկ անկյուններից մեկը՝ 45° :

327. Քառակուսին և քառակուսի չհանդիսացող շեղանկյունն ունեն հավասար պարագծեր: Համեմատեք այդ պատկերների մակերեսները:
328. Համեմատեք ուղղանկյան և զուգահեռագծի մակերեսները, եթե նրանք ունեն հավասար հիմքեր և հավասար պարագծեր:
329. Դիցուք՝ a -ն եռանկյան հիմքն է, h -ը՝ բարձրությունը, իսկ S -ը՝ մակերեսը: Գտեք՝ ա) S -ը, եթե $a = 7$ սմ, $h = 11$ սմ, բ) h -ը, եթե $a = 14$ սմ, $S = 37,8$ սմ², գ) a -ն, եթե $S = h^2$, $h = 2$ սմ:
330. ABC եռանկյան AB և BC կողմերը համապատասխանաբար 16 սմ և 22 սմ են: Գտեք BC կողմին տարված բարձրությունը, եթե AB կողմին տարված բարձրությունը 11 սմ է:
331. Եռանկյան երկու կողմերն են 7,5 սմ և 3,2 սմ: Դրանցից մեծին տարված բարձրությունը 2,4 սմ է: Գտեք տրված կողմերից փոքրին տարված բարձրությունը:
332. Գտեք ուղղանկյուն եռանկյան մակերեսը, եթե նրա էջերն են՝ ա) 4 սմ և 11 սմ, բ) 12 սմ և 3 դմ:
333. Ուղղանկյուն եռանկյան էջերից մեկը 14 սմ է, իսկ անկյուններից մեկը՝ 45° : Գտեք եռանկյան մակերեսը:
334. Երկու եռանկյան բարձրությունները հավասար են, իսկ նրանցից մեկի հիմքը երկու անգամ փոքր է մյուսի հիմքից: Գտեք այդ եռանկյունների մակերեսների հարաբերությունը:
335. ABC եռանկյան մեջ $\angle C = 135^\circ$, $AC = 6$ դմ, իսկ BD բարձրությունը 2 դմ է: Գտեք ABD եռանկյան մակերեսը:
336. Գտեք 10 սմ ներքնաձիգով հավասարասրուն ուղղանկյուն եռանկյան մակերեսը:
337. $ABCD$ ուղղանկյան BD անկյունագիծը 12 սմ է: B գագաթի հեռավորությունը AC ուղղից հավասար է 4 սմ: Գտեք ABC եռանկյան մակերեսը:
338. Համեմատեք այն երկու եռանկյունների մակերեսները, որոնց տրոհվում է տրված եռանկյունն իր միջնագծով:

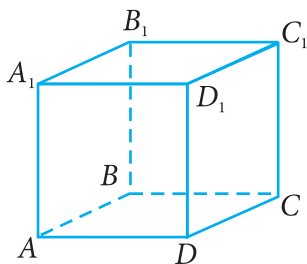
339. ABC եռանկյան AB կողմի վրա վերցված M կետը հատվածով միացված է C գագաթին: Հայտնի է, որ $AB = 18$ սմ, $AM = 12$ սմ: Գտեք ABC և AMC եռանկյունների մակերեսների հարաբերությունը:
340. ABC եռանկյան AB և AC կողմերի վրա վերցված են համապատասխանաբար M և N կետերն այնպես, որ $AB = 2AM$, $AC = 3AN$: Գտեք ABC և AMN եռանկյունների մակերեսների հարաբերությունը:
341. Գծեք ABC եռանկյուն: A գագաթով տարեք երեք այնպիսի ուղիղներ, որ դրանք եռանկյունը տրոհեն չորս միմյանց հավասար մակերեսով եռանկյունների:
342. Ապացուցեք, որ շեղանկյան մակերեսը հավասար է անկյունագծերի արտադրյալի կեսին: Հաշվեք շեղանկյան մակերեսը, եթե նրա անկյունագծերը հավասար են՝ ա) $3,2$ դմ և 14 սմ, բ) $4,6$ դմ և 2 դմ:
343. Շեղանկյան անկյունագծերից մեկը m մ է, իսկ մակերեսը՝ $27m$ մ²: Գտեք շեղանկյան մյուս անկյունագիծը:
344. Ուռուցիկ քառանկյան անկյունագծերը փոխուղղահայաց են: Ապացուցեք, որ այդ քառանկյան մակերեսը հավասար է անկյունագծերի արտադրյալի կեսին:
345. Գտեք AD և BC հիմքերով $ABCD$ սեղանի մակերեսը, եթե՝ ա) $AD = 21$ սմ, $BC = 17$ սմ, BH բարձրությունը 7 սմ է, բ) $\angle D = 30^\circ$, $AD = 10$ սմ, $BC = 2$ սմ, $CD = 8$ սմ, գ) $CD \perp AD$, $AD = 5$ սմ, $CD = 8$ սմ, $BC = 13$ սմ:
346. $ABCD$ սեղանի AD և BC հիմքերը համապատասխանաբար 10 սմ և 8 սմ են: ACD եռանկյան մակերեսը 30 սմ² է: Գտեք սեղանի մակերեսը:
347. Ուղղանկյուն սեղանի մակերեսը 30 սմ² է, պարագիծը՝ 28 սմ, իսկ փոքր սրունքը՝ 3 սմ: Գտեք սեղանի մեծ սրունքը:
348. Հավասարասրուն սեղանի պարագիծը 32 սմ է, սրունքը՝ 5 սմ, իսկ մակերեսը՝ 44 սմ²: Գտեք սեղանի բարձրությունը:

349. Գտեք այն ուղղանկյուն սեղանի մակերեսը, որի փոքր կողմերը 6 սմ են, իսկ մեծ անկյունը՝ 135° :
350. Հավասարասրուն սեղանի բութ անկյունը 135° է, իսկ այդ անկյան գագաթից տարված բարձրությունը մեծ հիմքը տրոհում է 1,4 սմ և 3,4 սմ հատվածների: Գտեք սեղանի մակերեսը:
351. Սեղանի հիմքերը հարաբերում են, ինչպես 5 : 3: Փոքր հիմքի միջնակետը մեծ հիմքի ծայրակետերին միացնելուց ստացված եռանկյան մակերեսը 15 սմ² է: Հաշվեք սեղանի մակերեսը: Արդյոք կփոխվէր խնդրի պատասխանը, եթե պայմանում փոքր հիմքի միջնակետի փոխարեն վերցվեր նրա կամայական կետը:

ԽՈՐԱՆԱՐԴԻ ԵՎ ՈՒՂԱՆԿՅՈՒՆԱՆԻՍԻ ՄԱԿԵՐԵՎՈՒՅԹՆԵՐԻ ՄԱԿԵՐԵՍՆԵՐԸ

§3

45. Խորանարդի մակերևույթի մակերեսը



Նկ. 92

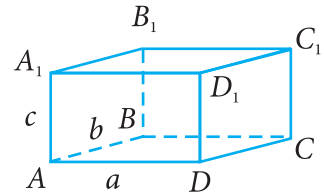
Հիշենք, որ խորանարդն այն ուղղանկյունանիստն է, որի բոլոր կողերը հավասար են: Խորանարդի մակերևույթը կազմված է վեց նիստից, որոնցից յուրաքանչյուրը քառակուսի է (նկ. 92): Եթե խորանարդի կողն ունի a երկարություն, ապա յուրաքանչյուր նիստի մակերեսը հավասար է a^2 : Ուրեմն՝ խորանարդի բոլոր նիստերի մակերեսների գումարը հավասար է $6a^2$, որն էլ կլինի խորանարդի մակերևույթի մակերեսը:

Այսպիսով՝ խորանարդի մակերևույթի մակերեսը հաշվվում է $S = 6a^2$ բանաձևով:

46. Ուղղանկյունանիստի մակերևույթի մակերեսը

Հիշենք, որ ուղղանկյունանիստն ունի վեց նիստ, որոնցից յուրաքանչյուրն ուղղանկյուն է:

Այդ նիստերը զույգ առ զույգ հավասար են. դրանք հանդիպակաց նիստերն են, որոնք չունեն ընդհանուր գագաթ: Հանդիպակաց նիստերից երկուսը, օրինակ՝ $ABCD$ և $A_1B_1C_1D_1$ ուղղանկյունները, դիտվում են որպես հիմքեր, իսկ մյուս չորս նիստերը՝ որպես կողմնային նիստեր (նկ. 93):



Նկ. 93

Ուղղանկյունանիստի կողմնային նիստերի մակերեսների գումարը անվանում են *կողմնային մակերևույթի մակերեսը*: Ուղղանկյունանիստի լրիվ մակերևույթի մակերեսը նրա բոլոր նիստերի մակերեսների գումարն է:

Այսպիսով՝ ուղղանկյունանիստի լրիվ մակերևույթի $S_{\text{լրիվ}}$ մակերեսը արտահայտվում է հետևյալ բանաձևով.

$$S_{\text{լրիվ}} = S_{\text{կողմ}} + 2S_{\text{հիմք}} \quad (1)$$

$S_{\text{կողմ}}$ -ը կողմնային մակերևույթի մակերեսն է, իսկ $S_{\text{հիմք}}$ -ը՝ հիմքի մակերեսը:

Դիցուք՝ ուղղանկյունանիստի միևնույն, օրինակ, A գագաթը պարունակող կողերի երկարություններն են՝ $AD = a$, $AB = b$, $AA_1 = c$: Այդ դեպքում, օգտվելով ուղղանկյան մակերեսի հաշվման բանաձևից, ստանում ենք.

$$S_{ABCD} = ab, S_{AA_1D_1D} = ac, S_{AA_1B_1B} = bc$$

Հաշվի առնելով, որ հանդիպակաց նիստերը հավասար են, ստանում ենք ուղղանկյունանիստի լրիվ մակերևույթի մակերեսի բանաձևը.

$$S_{\text{լրիվ}} = 2ac + 2bc + 2ab \quad (2)$$

Եթե $ABCD$ ուղղանկյունն ընդունում ենք որպես ուղղանկյունանիստի հիմք, ապա հեշտ է տեսնել, որ $S_{\text{հիմք}} = ab$: Այդ դեպքում կողմնային մակերևույթի մակերեսը, այսինքն՝ հիմք չհանդիսացող նիստերի մակերեսների գումարը, հաշվվում է հետևյալ բանաձևով.

$$S_{\text{կողմ}} = 2ac + 2bc \quad (3)$$

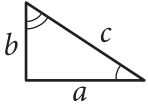
(3) բանաձևը գրենք $S_{\text{կողմ}} = (2a + 2b)c$ տեսքով: Նկատենք, որ $2a + 2b$ արտահայտությունը ներկայացնում է ուղղանկյունանիստի հիմքի, այն է՝ $ABCD$ ուղղանկյան պարագիծն է, իսկ c -ն կողմնային կողն է:

Այսպիսով՝ ուղղանկյունանիստի կողմնային մակերևույթի մակերեսը հավասար է ուղղանկյունանիստի հիմքի պարագծի և կողմնային կողի արտադրյալին:

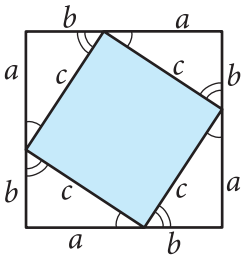
352. Գտեք խորանարդի մակերևույթի մակերեսը, եթե նրա կողը հավասար է՝ ա) 2,1 սմ, բ) 3,5 մ:
353. Գտեք այն խորանարդի նիստի մակերեսը, որի մակերևույթի մակերեսը հավասար է՝ ա) 24 սմ², բ) 150 դմ²: Կարո՞ղ եք գտնել այդ խորանարդի կողը:
354. Քանի՞ անգամ կմեծանա խորանարդի մակերևույթի մակերեսը, եթե՝ ա) նրա յուրաքանչյուր կողը մեծացնեն 4 անգամ, բ) նրա յուրաքանչյուր նիստի մակերեսը մեծացնեն 4 անգամ:
355. Սկզբից խորանարդի յուրաքանչյուր կողը մեծացրին 3 անգամ, իսկ հետո յուրաքանչյուր նիստի մակերեսը փոքրացրին 6 անգամ: Մեծացմով, թե՞ փոքրացմով խորանարդի մակերևույթի մակերեսը:
356. Ուղղանկյունանիստի հիմքը $a = 6$ սմ և $b = 7$ սմ կից կողմերով ուղղանկյուն է, իսկ կողմնային կողը՝ $c = 8$ սմ: Գտեք այդ ուղղանկյունանիստի՝ ա) հիմքի մակերեսը, բ) կողմնային մակերևույթի մակերեսը, գ) լրիվ մակերևույթի մակերեսը:
357. Ուղղանկյունանիստի հիմքը 24 սմ պարագծով քառակուսի է, իսկ կողմնային կողը հավասար է 5,5 սմ: Գտեք այդ ուղղանկյունանիստի՝ ա) կողմնային մակերևույթի մակերեսը, բ) լրիվ մակերևույթի մակերեսը:
358. Ուղղանկյունանիստի հիմքը 8 սմ կողմով քառակուսի է, իսկ կողմնային մակերևույթի մակերեսը հավասար է 112 սմ²: Գտեք ուղղանկյունանիստի կողմնային կողը և լրիվ մակերևույթի մակերեսը:
359. Ուղղանկյունանիստի հիմքը 3 սմ և 5 սմ կից կողմերով ուղղանկյուն է: Գտեք ուղղանկյունանիստի կողմնային մակերևույթի մակերեսը, եթե հայտնի է, որ նրա փոքր կողմնային նիստը քառակուսի է:
360. Ուղղանկյունանիստի հիմքի կողմերից մեկը 12 սմ է, իսկ պարագիծը՝ 40 սմ: Գտեք նրա կողմնային կողը, եթե հայտնի է, որ լրիվ մակերևույթի մակերեսը հավասար է 592 սմ²:

361. Արկղն ունի 3,5 դմ կողմով խորանարդի ձև: Որքան նրբատախտակ է անհրաժեշտ այդ արկղը պատ-
րաստելու համար:
362. Ուղղանկյունանիստի ձև ունեցող սենյակի չափ-
սերն են՝ երկարությունը՝ 6 մ, լայնությունը՝ 4 մ,
բարձրությունը՝ 3 մ: Գտեք սենյակի՝ ա) հատակի
մակերեսը, բ) պատերի մակերեսը:
363. 3 մ բարձրություն ունեցող սենյակի ուղղանկյու-
նաձև հատակն ունի 5 մ և 4,5 մ չափսեր: Առնվազն
քանի՞ փաթեթ պաստառ է հարկավոր այդ սենյակի
պատերը լրիվ պաստառապատելու համար, եթե
յուրաքանչյուր փաթեթ ունի 9,5 մ² մակերես (դուռը
և պատուհանը անտեսել):
364. 20 մ երկարությամբ, 10 մ լայնությամբ և 2 մ բարձ-
րությամբ ուղղանկյունանիստի ձև ունեցող ջրա-
վազանի հատակը և պատերը անհրաժեշտ է սա-
լապատել: Սալիկներից յուրաքանչյուրն ունի 2 դմ
կողմով քառակուսու ձև: Քանի՞ այդպիսի սալիկ է
հարկավոր:
365. Ի՞նչ չափսեր պետք է ունենա ուղղանկյունաձև
ստվարաթուղթը, որպեսզի նրանից կարողանաք
առանց թափոնի պատրաստել 7 սմ կողմով խո-
րանարդ, որի յուրաքանչյուր նիստը լինի առանց
կցոնի:

47. Պյութագորասի թեորեմը



u)



$$(a+b)^2 = 4\left(\frac{1}{2}ab\right) + c^2$$

p)

Նկ. 94

Դեռ հին ժամանակներից բացահայտվել է մի նշանավոր առնչություն ուղղանկյուն եռանկյան ներքնաձիգի և էջերի միջև: Թեորեմը, որ հաստատում է այդ առնչությունը, կոչվում է Պյութագորասի թեորեմ: Դա երկրաչափության կարևոր թեորեմներից մեկն է, և մենք այն կապացուցենք՝ օգտվելով բազմանկյունների մակերեսների հատկություններից:

Թեորեմ: Ուղղանկյուն եռանկյան ներքնաձիգի քառակուսին հավասար է էջերի քառակուսիների գումարին:

Ապացուցում: Դիտարկենք a , b էջերով և c ներքնաձիգով ուղղանկյուն եռանկյունը (Նկ. 94(u)): Ապացուցենք, որ $c^2 = a^2 + b^2$:

Եռանկյունը լրացնենք այնպես, մինչև կառուցվի $a + b$ կողմով քառակուսի, ինչպես ցույց է տրված 94(p) նկարում: Այդ քառակուսու S մակերեսը հավասար է $(a + b)^2$: Մյուս կողմից՝ այդ քառակուսին կազմված է c կողմով մի քառակուսուց և չորս հավասար եռանկյուններից, որոնցից յուրաքանչյուրի մակերեսը $\frac{1}{2} ab$ է: Ուրեմն՝ $S = 4 \cdot \frac{1}{2} ab + c^2 = 2ab + c^2$: Այսպիսով՝

$(a + b)^2 = 2ab + c^2$, որտեղից՝ $c^2 = a^2 + b^2$: **Թեորեմն ապացուցված է:**

Ուշագրավ է Պյութագորասի թեորեմի պատմությունը: Այդ թեորեմը թեև կապվում է Պյութագորասի անվան հետ, սակայն այն հայտնի է եղել նախքան Պյութագորասը: Բաբելոնյան բնագրերում Պյութագորասից դեռևս 1200 տարի առաջ հիշատակվել է այդ թեորեմը:

Հնարավոր է, որ դրա ապացուցումը այն ժամանակներում չեն իմացել, իսկ ներքնաձիգի և էջերի միջև առնչությունը բացահայտվել է զուտ փորձնական եղանակով՝

չափումների հիման վրա: Այդ փաստերին վերաբերող ճշգրիտ տեղեկություններ չեն պահպանվել: Որոշ պատմաբաններ կարծում են, որ այդ նշանավոր թեորեմն ապացուցել են Պյութագորասի հետևորդները և այն անվանել իրենց մեծ ուսուցչի պատվին: Թերևս հնարավոր է, որ այդ թեորեմի ապացուցումը գտել է հենց ինքը՝ Պյութագորասը: Այդ մասին պահպանվել է մի հին ավանդություն, ըստ որի՝ Պյութագորասն իր հայտնագործության պատվին աստվածներին զոհ է մատուցել մի մեծ ցուլ, իսկ ըստ այլ վկայությունների՝ նույնիսկ հարյուր ցուլ: Հետագա դարերի ընթացքում գտել են Պյութագորասի թեորեմի տարբեր ապացուցումներ: Ներկայումս դրանց քանակն անցնում է հարյուրից: Մենք արդեն ծանոթ ենք այդ ապացուցումներից մեկին, իսկ հաջորդ դասարանում կծանոթանանք մեկ այլ ապացուցման ևս: Անցյալի մեծ մտածողներից ու գրողներից շատերն անդրադարձել են այդ նշանավոր թեորեմին և դրան են նվիրել իրենց տողերը:



Պյութագորաս (մ.թ.ա VI դարի հույն գիտնական)

48. Պյութագորասի թեորեմի հակադարձ թեորեմը

Թեորեմ: Եթե եռանկյան մի կողմի քառակուսին հավասար է մյուս երկու կողմերի քառակուսիների գումարին, ապա այդ եռանկյունը ուղղանկյուն եռանկյուն է:

Ապացուցում: Դիցուք՝ ABC եռանկյան մեջ $AB^2 = AC^2 + BC^2$: Ապացուցենք, որ C անկյունն ուղիղ է: Դիտարկենք C_1 ուղիղ անկյունով այն $A_1B_1C_1$ ուղղանկյուն եռանկյունը, որի համար $A_1C_1 = AC$ և $B_1C_1 = BC$: Ըստ Պյութագորասի թեորեմի՝ $A_1B_1^2 = A_1C_1^2 + B_1C_1^2$, ուրեմն՝ $A_1B_1^2 = AC^2 + BC^2$:

Սակայն ըստ թեորեմի պայմանի՝ $AC^2 + BC^2 = AB^2$: Հետևաբար՝ $A_1B_1^2 = AB^2$, որից եզրակացնում ենք, որ $A_1B_1 = AB$: Այսպիսով՝ ABC և $A_1B_1C_1$ եռանկյունները, ըստ երեք կողմի, հավասար են: Ուրեմն՝ $\angle C = \angle C_1$, այսինքն՝ ABC եռանկյան C անկյունն ուղիղ է: **Թեորեմն ապացուցված է:**

Ըստ Պյութագորասի թեորեմի հակադարձ թեորեմի՝ 3, 4 և 5 կողմերով եռանկյունը ուղղանկյուն եռանկյուն է. $5^2 = 3^2 + 4^2$: Ուղղանկյուն եռանկյուն է նաև 5, 12, 13 կողմերով, 8, 15, 17 կողմերով և 7, 24, 25 կողմերով եռանկյուններից յուրաքանչյուրը (բացատրեք, թե ինչու): Ուղղանկյուն եռանկյունները, որոնց կողմերն արտահայտվում են ամբողջ թվերով, կոչվում են *պյութագորյան եռանկյուններ*: Կարելի է ապացուցել, որ այդպիսի եռանկյունների a , b էջերը և c ներքնաձիգը արտահայտվում են հետևյալ բանաձևերով. $a = 2m \cdot n$, $b = m^2 - n^2$, $c = m^2 + n^2$, որտեղ m -ը և n -ը կամայական բնական թվեր են, $m > n$:

3, 4 և 5 կողմերով եռանկյունը հաճախ անվանում են նաև *եգիպտական եռանկյուն*. այն հայտնի է եղել դեռևս հին եգիպտացիներին: Ուղիղ անկյուն կառուցելու համար եգիպտացիները պարանի վրա կատարել են նշումներ այնպես, որ դրանցով պարանը տրոհվի 12 հավասար մասերի: Այնուհետև կապելով պարանի ծայրերը՝ գետնի վրա ձողերի օգնությամբ այն ձգել են 3, 4 և 5 կողմերով եռանկյան տեսքով: Այդ դեպքում 3 և 4 երկարությամբ կողմերը կազմում են ուղիղ անկյուն:

Խնդիրներ

366. Գտեք ուղղանկյուն եռանկյան ներքնաձիգը՝ ըստ տրված a և b էջերի. ա) $a = 6$, $b = 8$, բ) $a = 5$, $b = 12$, գ) $a = \frac{3}{7}$, $b = \frac{4}{7}$, դ) $a = 1$, $b = \sqrt{3}$:
367. Ուղղանկյուն եռանկյան էջերն են a -ն և b -ն, իսկ ներքնաձիգը՝ c -ն: Գտեք b -ն, եթե՝ ա) $a = 12$, $c = 13$, բ) $a = 9$, $c = 15$, գ) $a = 2$, $c = \sqrt{5}$, դ) $a = 6$, $c = 2b$:
368. Գտեք c ներքնաձիգով ուղղանկյուն եռանկյան 60° -ի անկյան հանդիպակաց էջը:
369. $ABCD$ ուղղանկյան մեջ գտեք՝ ա) AD -ն, եթե $AB = 5$, $AC = 13$, բ) BC -ն, եթե $CD = 1,5$, $AC = 2,5$, գ) CD -ն, եթե $BD = 17$, $BC = 15$:

370. Հավասարասրուն եռանկյան սրունքը 17 սմ է, իսկ հիմքը՝ 16 սմ: Գտեք հիմքին տարված բարձրությունը:
371. Գտեք՝ ա) հավասարակողմ եռանկյան բարձրությունը, եթե նրա կողմը 6 սմ է, բ) հավասարակողմ եռանկյան կողմը, եթե նրա բարձրությունը 4 սմ է:
372. Քառակուսու անկյունագիծը 20 սմ է: Գտեք նրա կողմը:
373. Ապացուցեք, որ հավասարակողմ եռանկյան մակերեսը հաշվվում է $S = \frac{a^2\sqrt{3}}{4}$ բանաձևով, որտեղ a -ն եռանկյան կողմն է: Գտեք հավասարակողմ եռանկյան մակերեսը, եթե նրա կողմը հավասար է՝ ա) 4 սմ, բ) 1,2 սմ, գ) $2\sqrt{2}$ սմ:
374. Գտեք հավասարասրուն եռանկյան սրունքը և մակերեսը, եթե՝ ա) հիմքը 12 սմ է, իսկ հիմքին տարված բարձրությունը՝ 8 սմ, բ) հիմքը 18 սմ է, իսկ նրա հանդիպակաց անկյունը՝ 120° , գ) այն ուղղանկյուն եռանկյուն է, որի ներքնաձիգին տարված բարձրությունը 7 սմ է:
375. Ուղղանկյուն եռանկյան էջերն են a -ն և b -ն: Գտեք ներքնաձիգին տարված բարձրությունը, եթե՝ ա) $a = 5$, $b = 12$, բ) $a = 12$, $b = 16$:
376. Գտեք 10 սմ, 10 սմ, 12 սմ կողմերով եռանկյան բարձրությունները:
377. Գտեք շեղանկյան կողմը և մակերեսը, եթե նրա անկյունագծերը 10 սմ և 24 սմ են:
378. Շեղանկյան կողմը 10 սմ է, իսկ անկյունագծերից մեկը՝ 12 սմ: Գտնել այդ շեղանկյան մյուս անկյունագիծը և մակերեսը:
379. Գտեք AB և CD հիմքերով $ABCD$ սեղանի մակերեսը, եթե՝ ա) $AB = 10$ սմ, $BC = DA = 13$ սմ, $CD = 20$ սմ, բ) $\angle C = \angle D = 60^\circ$, $AB = BC = 8$ սմ, գ) $\angle C = \angle D = 45^\circ$, $AB = 6$ սմ, $BC = 9\sqrt{2}$ սմ:

380. Ուղղանկյուն սեղանի հիմքերը 9 սմ և 18 սմ են, իսկ մեծ սրունքը՝ 15 սմ: Գտեք սեղանի մակերեսը:
381. ABC եռանկյան CD բարձրության D հիմքը գտնվում է AB կողմի վրա, ընդ որում՝ $AD = BC$: Գտեք AC -ն, եթե $AB = 3$, իսկ $CD = \sqrt{3}$:
382. Զուգահեռագծի անկյունագծերից մեկը նաև նրա բարձրությունն է: Գտեք այդ բարձրությունը, եթե զուգահեռագծի պարագիծը 50 սմ է, իսկ կից կողմերի տարբերությունը՝ 1 սմ:
383. Պարզեք, թե արդյոք ուղղանկյուն եռանկյուն է այն եռանկյունը, որի կողմերն արտահայտվում են հետևյալ թվերով. ա) 6, 8, 10, բ) 5, 6, 7, գ) 9, 12, 15, դ) 10, 24, 26, ե) 3, 4, 6, զ) 11, 9, 13, է) 15, 20, 25: Պատասխանը հիմնավորեք:
384. Գտեք եռանկյան փոքր բարձրությունը, եթե նրա կողմերն են՝ ա) 24 սմ, 25 սմ, 7 սմ, բ) 15 սմ, 17 սմ, 8 սմ:
385. Եռանկյան երկու կողմերն են 30 սմ և 25 սմ, իսկ երրորդ կողմին տարված բարձրությունը՝ 24 սմ: Գտեք երրորդ կողմը:
386. Որոշեք եռանկյան անկյունները, եթե նրա կողմերն են՝ ա) 1, 1, $\sqrt{2}$, բ) 1, $\sqrt{3}$, 2:
387. Հավասարասրուն սեղանի անկյունագիծը 25 սմ է, իսկ բարձրությունը՝ 15 սմ: Գտեք սեղանի մակերեսը:
388. Տրված է այնպիսի ABC եռանկյուն, որ $AB = \sqrt{2}$, $BC = 2$, իսկ AC կողմի վրա նշված է M կետն այնպես, որ $AM = 1$, $BM = 1$: Գտեք $\angle ABC$ -ն:

§5

ԱՌՆՉՈՒԹՅՈՒՆՆԵՐ ՈՒՂԱՆԿՅՈՒՆ
ԵՌԱՆԿՅԱՆ ԿՈՂՄԵՐԻ ԵՎ
ԱՆԿՅՈՒՆՆԵՐԻ ՄԻՋԵՎ49. Ուղղանկյուն եռանկյան սուր անկյան
սինուսը, կոսինուսը և տանգենսը

Դիտարկենք C ուղիղ անկյունով ABC ուղղանկյուն եռանկյունը (նկ. 95): Այդ եռանկյան համար BC -ն A անկյան դիմացի էջ է, իսկ AC -ն՝ A անկյանը կից էջ:

Ուղղանկյուն եռանկյան սուր անկյան սինուս կոչվում է այդ անկյան դիմացի էջի հարաբերությունը ներքնաձիգին³:

Ուղղանկյուն եռանկյան սուր անկյան կոսինուս կոչվում է այդ անկյան կից էջի հարաբերությունը ներքնաձիգին:

Ուղղանկյուն եռանկյան սուր անկյան տանգենս կոչվում է այդ անկյան դիմացի էջի հարաբերությունը կից էջին:

α անկյան սինուսը, կոսինուսը և տանգենսը նշանակվում են $\sin \alpha$, $\cos \alpha$, $\operatorname{tg} \alpha$ պայմանանշաններով (կարդացվում են՝ «սինուս ալֆա», «կոսինուս ալֆա», «տանգենս ալֆա»):

Նկար 95-ում

$$\sin A = \frac{BC}{AB} \quad (1)$$

$$\cos A = \frac{AC}{AB} \quad (2)$$

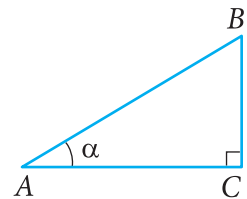
$$\operatorname{tg} A = \frac{BC}{AC} \quad (3)$$

(1) և (2) բանաձևերից ստացվում է.

$$\frac{\sin A}{\cos A} = \frac{BC}{AB} \cdot \frac{AB}{AC} = \frac{BC}{AC}:$$

Համեմատելով (3) բանաձևի հետ՝ որոշում ենք.

$$\operatorname{tg} A = \frac{\sin A}{\cos A}, \quad (4)$$



Նկ. 95

³ Երկու հատվածների հարաբերություն ենք անվանում նրանց երկարությունների հարաբերությունը:

այսինքն՝ անկյան տանգենսը հավասար է այդ նույն անկյան սինուսի և կոսինուսի հարաբերությանը:

Ապացուցենք, որ եթե մի ուղղանկյուն եռանկյան սուր անկյունը հավասար է մեկ այլ ուղղանկյուն եռանկյան սուր անկյանը, ապա այդ անկյունների սինուսները հավասար են, այդ անկյունների կոսինուսները հավասար են, այդ անկյունների տանգենսները հավասար են:

Դիցուք՝ $\triangle ABC$ -ն և $\triangle A_1B_1C_1$ -ը ուղղանկյուն եռանկյուններ են, որոնց ուղիղ անկյուններն են C -ն և C_1 -ը, իսկ հավասար սուր անկյուններն են A -ն և A_1 -ը, հետևաբար նաև B -ն և B_1 -ը (նկ. 96): ABC և $A_1B_1C_1$ եռանկյունների համար օգտվենք հավասար անկյուն ունեցող եռանկյունների մակերեսների հարաբերության մասին թեորեմից:

Ստանում ենք.

$$\frac{S_{ABC}}{S_{A_1B_1C_1}} = \frac{AB \cdot AC}{A_1B_1 \cdot A_1C_1}, \text{ որտեղ } S_{ABC} = \frac{1}{2} AC \cdot BC,$$

$$S_{A_1B_1C_1} = \frac{1}{2} A_1C_1 \cdot B_1C_1$$

Ուրեմն՝
$$\frac{\frac{1}{2} AC \cdot BC}{\frac{1}{2} A_1C_1 \cdot B_1C_1} = \frac{AB \cdot AC}{A_1B_1 \cdot A_1C_1}, \text{ որտեղից ստաց-}$$

վում է
$$\frac{BC}{AB} = \frac{B_1C_1}{A_1B_1}, \text{ այսինքն՝ } \sin A = \sin A_1:$$

Համանման ձևով ստացվում է
$$\frac{AC}{AB} = \frac{A_1C_1}{A_1B_1}, \text{ այսինքն՝}$$

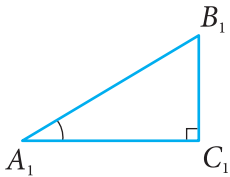
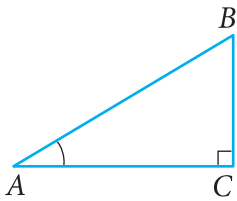
$\cos A = \cos A_1$, և օգտվելով (4) հավասարությունից՝ ստացվում է նաև, որ $\operatorname{tg} A = \operatorname{tg} A_1$:

Այժմ ապացուցենք $\sin^2 A + \cos^2 A = 1$ (5)

հավասարությունը:

(1) և (2) բանաձևերից ստացվում է.

$$\sin^2 A + \cos^2 A = \frac{BC^2}{AB^2} + \frac{AC^2}{AB^2} = \frac{BC^2 + AC^2}{AB^2}$$



Նկ. 96

Ըստ Պյութագորասի թեորեմի՝ $BC^2 + AC^2 = AB^2$,
 ուրեմն՝ $\sin^2 A + \cos^2 A = 1$: (5) հավասարությանը անվանում
 են *եռանկյունաչափական հիմնական նույնություն*:

50. Սինուսի, կոսինուսի և տանգենսի արժեքները 30° , 45° և 60° անկյուն- ների համար

Նախ գտնենք սինուսի, կոսինուսի և տանգենսի
 արժեքները 30° և 60° անկյունների համար: Դրա համար
 դիտարկենք C ուղիղ անկյունով ABC ուղղանկյուն
 եռանկյունը, որում $\angle A = 30^\circ$, $\angle B = 60^\circ$ (նկ. 97): Քանի որ

30° -ի անկյան դիմացի էջը հավասար է ներքնաձիգի կե-

սին, ապա $\frac{BC}{AB} = \frac{1}{2}$: Բայց $\frac{BC}{AB} = \sin A = \sin 30^\circ$:
 Մյուս կողմից՝ $\frac{BC}{AB} = \cos B = \cos 60^\circ$: Այսպիսով՝
 $\sin 30^\circ = \frac{1}{2}$, $\cos 60^\circ = \frac{1}{2}$: Եռանկյունաչափական հիմնական
 նույնությունից ստանում ենք.

$$\cos 30^\circ = \sqrt{1 - \sin^2 30^\circ} = \sqrt{1 - \frac{1}{4}} = \frac{\sqrt{3}}{2},$$

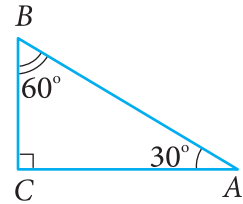
$$\sin 60^\circ = \sqrt{1 - \cos^2 60^\circ} = \sqrt{1 - \frac{1}{4}} = \frac{\sqrt{3}}{2} :$$

Ըստ (4) բանաձևի՝ գտնում ենք.

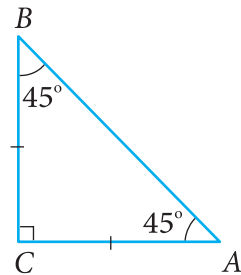
$$\operatorname{tg} 30^\circ = \frac{\sin 30^\circ}{\cos 30^\circ} = \frac{1}{\sqrt{3}} = \frac{\sqrt{3}}{3}, \quad \operatorname{tg} 60^\circ = \frac{\sin 60^\circ}{\cos 60^\circ} = \sqrt{3} :$$

Այժմ գտնենք $\sin 45^\circ$ -ը, $\cos 45^\circ$ -ը և $\operatorname{tg} 45^\circ$ -ը: Դրա համար
 դիտարկենք C ուղիղ անկյունով ABC հավասարասրուն
 ուղղանկյուն եռանկյունը (նկ. 98): Այս եռանկյան մեջ
 $AC = BC$, $\angle A = \angle B = 45^\circ$: Ըստ Պյութագորասի թեորեմի՝
 $AB^2 = AC^2 + BC^2 = 2AC^2 = 2BC^2$:

$$\text{Այստեղից՝ } AC = BC = \frac{AB}{\sqrt{2}} :$$



Նկ. 97



Նկ. 98

Հետևաբար՝

$$\sin 45^\circ = \sin A = \frac{BC}{AB} = \frac{1}{\sqrt{2}} = \frac{\sqrt{2}}{2},$$

$$\cos 45^\circ = \cos A = \frac{AC}{AB} = \frac{1}{\sqrt{2}} = \frac{\sqrt{2}}{2},$$

$$\operatorname{tg} 45^\circ = \operatorname{tg} A = \frac{BC}{AC} = 1$$

Կազմենք $\sin \alpha$ -ի, $\cos \alpha$ -ի, $\operatorname{tg} \alpha$ -ի արժեքների աղյուսակը 30° , 45° , 60° անկյուններին հավասար α -ի համար:

α	30°	45°	60°
$\sin \alpha$	$\frac{1}{2}$	$\frac{\sqrt{2}}{2}$	$\frac{\sqrt{3}}{2}$
$\cos \alpha$	$\frac{\sqrt{3}}{2}$	$\frac{\sqrt{2}}{2}$	$\frac{1}{2}$
$\operatorname{tg} \alpha$	$\frac{\sqrt{3}}{3}$	1	$\sqrt{3}$

30° -ից, 45° -ից և 60° -ից տարբեր սուր անկյունների համար սինուսի, կոսինուսի և տանգենսի արժեքները գտնում են հատուկ աղյուսակների կամ հաշվիչ մեքենաների օգնությամբ:

51. Առնչություններ ուղղանկյուն եռանկյան կողմերի և անկյունների միջև

Գրառումները պարզեցնելու նպատակով C ուղիղ անկյունով ABC եռանկյան կողմերը նշանակենք փոքրատառերով (*տես նկ. 95*). $AB = c$, $BC = a$, $AC = b$:

Օգտվենք (1) և (2) բանաձևերից.

$$\frac{a}{c} = \sin A, \quad \frac{b}{c} = \cos A, \quad \text{որտեղից ստանում ենք.}$$

$$a = c \cdot \sin A, \quad b = c \cdot \cos A:$$

$$\text{Նույն կերպ ստանում ենք՝ } a = c \cdot \cos B, \quad b = c \cdot \sin B:$$

Այսպիսով՝ ուղղանկյուն եռանկյան էջը հավասար է ներք-

նաձիգին՝ բազմապատկած այդ էջի դիմացի անկյան սինուսով կամ այդ էջին կից անկյան կոսինուսով:

Օգտվենք (3) բանաձևից՝ $\frac{a}{b} = \operatorname{tg} A$, որտեղից ստա-

նում ենք՝ $a = b \cdot \operatorname{tg} A$: Նույն կերպ ստանում ենք՝ $b = a \cdot \operatorname{tg} B$:

Այսինքն՝ ուղղանկյուն եռանկյան էջը հավասար է մյուս էջին՝ բազմապատկած առաջին էջի դիմացի անկյան տանգենսով:

Նշված առնչությունները թույլ են տալիս լուծել ուղղանկյուն եռանկյունները, այսինքն՝ ուղղանկյուն եռանկյան մի քանի հայտնի տարրերի միջոցով գտնել մյուս տարրերը: Բերենք մի օրինակ:

Խնդիր: Ուղղանկյուն եռանկյան մեջ հայտնի են էջը՝

$a = 12$, և այդ էջին կից անկյունը՝ $B = 36^\circ$:

Գտնել եռանկյան անհայտ էջը, ներքնաձիգը և անկյունը:

Լուծում: $b = a \cdot \operatorname{tg} B = 12 \operatorname{tg} 36^\circ$: $a = c \cdot \cos B$, որտե-

ղից՝ $c = \frac{a}{\cos B} = \frac{12}{\cos 36^\circ}$: Անհրաժեշտության դեպքում,

հատկապես գործնական խնդիրներ լուծելիս աղյուսակից կարող ենք գտնել $\operatorname{tg} 36^\circ$ -ը և $\cos 36^\circ$ -ը: Սակայն մենք այստեղ կբավարարվենք $\operatorname{tg} 36^\circ$ և $\cos 36^\circ$ գրառումներով՝ հաշվի առնելով, որ դրանք որոշակի թվեր են: $\angle A = 90^\circ - \angle B = 90^\circ - 36^\circ = 54^\circ$:

Հարցեր և խնդիրներ

389. Գտեք C ուղիղ անկյունով ABC եռանկյան A և B անկյունների սինուսը, կոսինուսը և տանգենսը, եթե՝ ա) $BC = 8$, $AB = 17$, բ) $BC = 21$, $AC = 20$, գ) $BC = 1$, $AC = 2$, դ) $AC = 24$, $AB = 25$:

390. Կառուցեք α անկյունը, եթե՝ ա) $\operatorname{tg} \alpha = \frac{1}{2}$,

բ) $\operatorname{tg} \alpha = \frac{3}{4}$, գ) $\cos \alpha = 0,2$, դ) $\cos \alpha = \frac{2}{3}$,

ե) $\sin \alpha = \frac{1}{2}$, զ) $\sin \alpha = 0,4$:

391. Գտեք՝ ա) $\sin \alpha$ -ն և $\operatorname{tg} \alpha$ -ն, եթե $\cos \alpha = \frac{1}{2}$, բ) $\sin \alpha$ -ն

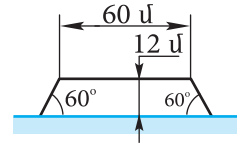
և $\operatorname{tg} \alpha$ -ն, եթե $\cos \alpha = \frac{2}{3}$, գ) $\cos \alpha$ -ն և $\operatorname{tg} \alpha$ -ն, եթե

$\sin \alpha = \frac{\sqrt{3}}{2}$, դ) $\cos \alpha$ -ն և $\operatorname{tg} \alpha$ -ն, եթե $\sin \alpha = \frac{1}{4}$:

392. Ուղղանկյուն եռանկյան էջերից մեկը հավասար է b , իսկ նրա դիմացի անկյունը՝ β : ա) b -ի և β -ի միջոցով արտահայտեք ներքնաձիգը, մյուս էջը և դրա դիմացի անկյունը, բ) գտեք դրանց արժեքները, եթե $b = 10$ սմ, $\beta = 50^\circ$:
393. Կամայական ուղղանկյուն եռանկյան սուր անկյան սինուսի արժեքը փոքր է 1-ից: Բացատրեք, թե ինչու:
394. Կարո՞ղ է 1-ից մեծ արժեք ունենալ ուղղանկյուն եռանկյան սուր անկյան՝ ա) կոսինուսը, բ) տանգենսը: Պատասխանը հիմնավորեք:
395. Ապացուցեք, որ եթե C ուղիղ անկյունով ABC ուղղանկյուն եռանկյան մեջ $\angle A < \angle B$, ապա՝ ա) $\sin A < \sin B$, բ) $\cos A > \cos B$, գ) $\operatorname{tg} A < \operatorname{tg} B$:
396. Ուղղանկյուն եռանկյան ներքնաձիգը հավասար է c , իսկ սուր անկյուններից մեկը՝ α : Մյուս սուր անկյունը և էջերը արտահայտեք c -ով և α -ով: Գտեք դրանց արժեքը, եթե $c = 24$ սմ, և $\alpha = 35^\circ$:
397. Հավասարասրուն եռանկյան հիմքին առընթեր անկյունը հավասար է α , իսկ հիմքը՝ b : Գտեք այդ եռանկյան՝ ա) սրունքը, բ) հիմքին իջեցրած բարձրությունը:
398. Զուգահեռագծի փոքր կողմը հավասար է b , իսկ սուր անկյունը՝ α : Գտեք զուգահեռագծի մեծ հիմքին տարած բարձրությունը:
399. Հավասարասրուն սեղանի հիմքերը հավասար են 2 սմ և 6 սմ, իսկ մեծ հիմքին առընթեր անկյունը հավասար է α : Գտեք սեղանի բարձրությունը և սրունքը:
400. Խճուղու լիցքը վերին մասում ունի 60 մ լայնություն: Որքա՞ն է նրա լայնությունը ստորին մասում,

եթե լանջերի թեքությունը հորիզոնի նկատմամբ 60° է, իսկ լիցքի բարձրությունը՝ 12 մ (տկ. 99):

401. Գտեք շեղանկյան անկյունները, եթե նրա անկյունագծերը հավասար են $2\sqrt{3}$ սմ և 2սմ:
402. Ուղղանկյան կողմերը հավասար են 3 սմ և $\sqrt{3}$ սմ: Գտեք ուղղանկյան անկյունագծի կազմած անկյունները կողմերի հետ:
403. $ABCD$ զուգահեռագծի AD կողմը 12 սմ է, իսկ BAD անկյունը՝ 48° : Գտեք զուգահեռագծի մակերեսը, եթե նրա BD անկյունագիծն ուղղահայաց է AB կողմին:
404. Ուղղանկյան անկյունագծերի կազմած անկյուններից մեկը հավասար է 68° : Գտեք ուղղանկյան կողմերը, եթե նրա անկյունագիծը հավասար է 60 սմ:



Նկ. 99

ԳԼՈՒԽ VII-Ի ԿՐԿՆՈՒԹՅԱՆ ՀԱՐՑԵՐ

1. Նկարագրեք, թե ինչպես են չափում բազմանկյունների մակերեսները:
2. Ձևակերպեք բազմանկյունների մակերեսների հիմնական հատկությունները:
3. Ձևակերպեք և ապացուցեք ուղղանկյան մակերեսի մասին թեորեմը:
4. Ձևակերպեք և ապացուցեք զուգահեռագծի մակերեսի հաշվման մասին թեորեմը:
5. Ձևակերպեք և ապացուցեք եռանկյան մակերեսի հաշվման մասին թեորեմը: Ինչպե՞ս հաշվել տրված էջերով ուղղանկյուն եռանկյան մակերեսը:
6. Ձևակերպեք և ապացուցեք թեորեմ հավասար անկյուն ունեցող երկու եռանկյունների մակերեսների հարաբերության մասին:
7. Ձևակերպեք և ապացուցեք սեղանի մակերեսի հաշվման մասին թեորեմը:
8. Ինչպե՞ս հաշվել տրված կողմով խորանարդի մակերեսայթի մակերեսը:
9. Պարզաբանեք, թե ինչպես են հաշվում ուղղանկյունանիստի լրիվ և կողմնային մակերեսայթների մակերեսները:

10. Ձևակերպեք և ապացուցեք Պյութագորասի թեորեմը:
11. Ձևակերպեք և ապացուցեք Պյութագորասի թեորեմի հակադարձ թեորեմը:
12. Ո՞ր եռանկյուններն են կոչվում պյութագորյան: Բերեք այդպիսի եռանկյան օրինակներ:
13. Ի՞նչն է կոչվում ուղղանկյուն եռանկյան սուր անկյան սինուս, կոսինուս, տանգենս:
14. Ապացուցեք, որ եթե մի ուղղանկյուն եռանկյան սուր անկյունը հավասար է մյուս ուղղանկյուն եռանկյան սուր անկյանը, ապա այդ անկյունների սինուսները հավասար են, կոսինուսները հավասար են, տանգենսները հավասար են:
15. Ո՞ր հավասարությունն են անվանում եռանկյունաչափական հիմնական նույնություն:
16. Ինչի՞ են հավասար սինուսի, կոսինուսի և տանգենսի արժեքները 30° , 45° , 60° անկյունների դեպքում: Բացատրեք, թե ինչպես են գտնում այդ արժեքները:

Լրացուցիչ խնդիրներ

405. Ապացուցեք, որ հավասարասրուն ուղղանկյուն եռանկյան էջի վրա կառուցված քառակուսու մակերեսը կրկնակի մեծ է, քան ներքնաձիգին տարված բարձրության վրա կառուցված քառակուսու մակերեսը:
406. Հողամասի մակերեսը 27 հա է: Այդ մակերեսն արտահայտեք՝ ա) քառակուսի մետրերով, բ) քառակուսի կիլոմետրերով:
407. Զուգահեռագծի բարձրություններն են 5 սմ և 4 սմ, իսկ պարագիծը՝ 42 սմ: Գտեք զուգահեռագծի մակերեսը:
408. Գտեք զուգահեռագծի պարագիծը, եթե նրա մակերեսը 24 սմ^2 է, իսկ անկյունագծերի հատման կետի հեռավորությունը կողմերից հավասար է 2 սմ և 3 սմ:
409. Զուգահեռագծի փոքր կողմը 29 սմ է: Անկյունագծերի հատման կետից մեծ կողմին տարված ուղղահայացը այդ կողմը տրոհում է 33 սմ և 12 սմ հատվածների: Գտեք զուգահեռագծի մակերեսը:
410. Ապացուցեք, որ a և b կողմեր ունեցող բոլոր եռանկյուններից ամենամեծ մակերեսն ունի այն եռանկյունը, որի այդ կողմերը ուղղահայաց են:

411. Քառակուսու զագաթով ինչպե՞ս տանել երկու ուղիղ, որ քառակուսին բաժանվի հավասար մակերես ունեցող երեք պատկերների:
- 412*. Մի եռանկյան յուրաքանչյուր կողմը մեծ է մյուս եռանկյան ցանկացած կողմից: Արդյոք դրանից հետևո՞ւմ է, որ առաջին եռանկյան մակերեսը մեծ է երկրորդի մակերեսից:
- 413*. Ապացուցեք, որ հավասարասրուն եռանկյան հիմքի վրա գտնվող կետի՝ սրունքից ունեցած հեռավորությունների գումարը կախված չէ այդ կետի դիրքից:
414. Ապացուցեք, որ հավասարակողմ եռանկյան ներսում գտնվող կետի՝ կողմերից ունեցած հեռավորությունների գումարը կախված չէ այդ կետի դիրքից:
- 415*. ABC եռանկյան BC կողմի վրա վերցրած D կետից տարված են մյուս երկու կողմերին զուգահեռ ուղիղներ, որոնք այդ AB և AC կողմերը հատում են, համապատասխանաբար, E և F կետերում: Ապացուցեք, որ CDE և BDF եռանկյուններն ունեն հավասար մակերես:
416. AB և CD սրունքներով $ABCD$ սեղանի անկյունագծերը հատվում են O կետում: ա) Համեմատեք ABD և ACD եռանկյունների մակերեսները: բ) Համեմատեք ABO և CDO եռանկյունների մակերեսները: գ) Ապացուցեք, որ $OA \cdot OB = OC \cdot OD$:
417. Շեղանկյան անկյունագծերը հավասար են 18 մ և 24 մ: Գտեք շեղանկյան պարագիծը և զուգահեռ կողմերի միջև հեռավորությունը:
418. Շեղանկյան մակերեսը 540 սմ^2 է, իսկ անկյունագծերից մեկը՝ 4,5 դմ: Գտեք անկյունագծերի հատման կետի հեռավորությունը շեղանկյան կողմերից:
419. Գտեք հավասարասրուն եռանկյան մակերեսը, եթե՝ ա) նրա սրունքը 20 սմ է, իսկ հիմքին առնչվող անկյունը՝ 30° , բ) սրունքին տարված բարձրությունը 6 սմ է և հիմքի հետ կազմում է 45° անկյուն:
420. ABC եռանկյան BC կողմը 34 սմ է: Այդ կողմի միջնակետից AC ուղղին տարված MN ուղղահայացը AC կողմը տրոհում է երկու՝ $AN = 25$ սմ և $NC = 15$ սմ հատվածների: Գտեք ABC եռանկյան մակերեսը:

421. Գտեք $ABCD$ քառանկյան մակերեսը, եթե $AB=5$ սմ, $BC=13$ սմ, $CD=9$ սմ, $DA=15$ սմ, $AC=12$ սմ:
422. Գտեք հավասարասրուն սեղանի մակերեսը, եթե՝ ա) նրա փոքր հիմքը 18 սմ է, բարձրությունը՝ 9 սմ, իսկ սուր անկյունը՝ 45° , բ) նրա հիմքերը 16 սմ և 30 սմ են, իսկ անկյունագծերը փոխուղղահայաց են:
423. Գտեք հավասարասրուն սեղանի մակերեսը, եթե նրա բարձրությունը h է, իսկ անկյունագծերը փոխուղղահայաց են:
424. Հավասարասրուն սեղանի անկյունագծերը փոխուղղահայաց են, իսկ նրա հիմքերի գումարը $2a$ է: Գտեք սեղանի մակերեսը:
425. Ապացուցեք, որ եթե $ABCD$ քառանկյան անկյունագծերը փոխուղղահայաց են, ապա $AD^2 + BC^2 = AB^2 + CD^2$:
426. $AD=17$ սմ՝ $BC=5$ սմ հիմքերով և $AB=10$ սմ սրունքով $ABCD$ հավասարասրուն սեղանի B գագաթով տարված է մի ուղիղ, որը կիսում է AC անկյունագիծը, իսկ AD հիմքը հատում է M կետում: Գտեք BDM եռանկյան մակերեսը:
427. a կողմով երկու քառակուսի ունեն մի ընդհանուր գագաթ, ընդ որում՝ նրանցից մեկի կողմը գտնվում է մյուսի անկյունագծի վրա: Գտեք այդ քառակուսիների ընդհանուր մասի մակերեսը:
428. Խորանարդի մի նիստի անկյունագիծը a է: Գտեք այդ խորանարդի մակերեսային մակերեսը:
429. Ուղղանկյունանիստի հիմքը a կողմով քառակուսի է, իսկ կողմնային նիստերից յուրաքանչյուրի անկյունագիծը հիմքի կողի հետ կազմում է 60° անկյուն: Գտեք ուղղանկյունանիստի կողմնային մակերեսային մակերեսը:
430. Գտեք այն ուղղանկյունանիստի լրիվ մակերեսային մակերեսը, որի նույն գագաթով անցնող կողերն ունեն a , $2a$ և $3a$ երկարություններ:
431. ABC հավասարասրուն եռանկյան մեջ $AB=AC=b$, $\angle A=30^\circ$: Գտեք BE և AD բարձրությունները, ինչպես նաև AE , EC , BC հատվածները:

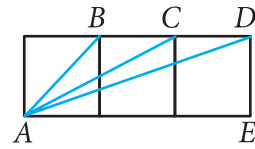
432. Ջուգահեռագծի հիմքը 11,735 մ է, իսկ բարձրությունը հիմքից փոքր է 3,485 մ–ով: Գտեք զուգահեռագծի մակերեսը պահանջվող ճշգրտությամբ՝ ա) մինչև 0,001 մ², բ) մինչև 0,01մ², գ) մինչև 0,1մ²:
433. ABC եռանկյան մեջ $AB = 6,52$ սմ, $AC = 4,47$ սմ, իսկ $A_1B_1C_1$ եռանկյան մեջ $A_1B_1 = 5,27$ սմ, $A_1C_1 = 2,12$ սմ, ընդ որում՝ $\angle A = \angle A_1$: Գտեք ABC և $A_1B_1C_1$ եռանկյունների մակերեսների հարաբերությունը՝ մինչև 0,01 ճշգրտությամբ:
434. Սեղանի հիմքերը հավասար են 1,17 դմ և 3,58 դմ, իսկ բարձրությունը՝ 2,33 դմ: Գտեք սեղանի մակերեսը՝ մինչև 0,01 դմ² ճշգրտությամբ:
435. Ուղղանկյան մակերեսը 17,635 սմ² է, իսկ կողմերից մեկը՝ 5,28 սմ: Գտեք կից կողմը տրված ճշգրտությամբ՝ ա) մինչև 0,01 սմ, բ) մինչև 0,1 սմ:
436. Եռանկյան երկու կողմերը հավասար են 5,62 մ և 7,19 մ, իսկ դրանցից առաջինին տարված բարձրությունը՝ 4,35 մ: Գտեք երկրորդ կողմին տարված բարձրությունը՝ մինչև 1 սմ ճշգրտությամբ:
- 437*. Ուղղանկյան a և b կողմերը չափվել են մինչև 0,1 սմ ճշգրտությամբ: Օգտվելով այդ չափումներից՝ կարելի է արդյոք ուղղանկյան S մակերեսը հաշվել մինչև 1 սմ² ճշգրտությամբ, եթե չափման արդյունքում ստացվել են՝ ա) $a = 2,5$ սմ, $b = 1,7$ սմ, բ) $a = 3,2$ սմ, $b = 2,5$ սմ, գ) $a = 5,6$ սմ, $b = 7,2$ սմ:
438. Ուղղանկյուն եռանկյան էջերը հավասար են 7,25 սմ և 3,67 սմ: Գտեք ներքնաձիգը՝ մինչև 0,01 սմ ճշգրտությամբ:
439. Ուղղանկյուն եռանկյան ներքնաձիգը 11,2 դմ է, իսկ էջերից մեկը երեք անգամ փոքր է ներքնաձիգից: Գտեք մյուս էջը՝ ա) մինչև 1 սմ ճշգրտությամբ, բ) մինչև 0,1 սմ ճշգրտությամբ:
- 440*. Ուղղանկյուն եռանկյան a և b էջերը չափել են մինչև 0,1 սմ ճշգրտությամբ և ստացել հետևյալ արդյունքները. $a \approx 3,5$ սմ, $b \approx 4,8$ սմ: Օգտվելով չափման այդ արդյունքներից՝ կարելի է արդյոք ներքնաձիգը հաշվել՝ ա) մինչև 0,1 սմ ճշգրտությամբ, բ) մինչև 0,2 սմ ճշգրտությամբ:

ԴԺՎԱՐԻՆ ԽՆԴԻՐՆԵՐ

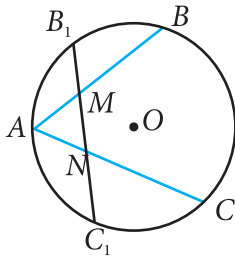
V գլխի վերաբերյալ

441. Տրված է $A_1A_2A_3A_4A_5A_6$ վեցանկյունը, որի բոլոր անկյունները հավասար են: Ապացուցեք, որ $A_1A_2 - A_4A_5 = A_5A_6 - A_2A_3 = A_3A_4 - A_6A_1$:
442. a_1, a_2, a_3, a_4, a_5 և a_6 դրական թվերը բավարարում են $a_1 - a_4 = a_5 - a_2 = a_3 - a_6$ պայմաններին: Ապացուցեք, որ գոյություն ունի $A_1A_2A_3A_4A_5A_6$ ուռուցիկ վեցանկյուն, որի բոլոր անկյունները հավասար են, ընդ որում՝ $A_1A_2 = a_1, A_2A_3 = a_2, A_3A_4 = a_3, A_4A_5 = a_4, A_5A_6 = a_5, A_6A_1 = a_6$:
443. Ապացուցեք, որ կամայական ուռուցիկ քառանկյան ձև ունեցող միատեսակ սալիկներով կարելի է այնպես երեսպատել սալահատակը, որ ամբողջությամբ ծածկի տակ ներառվի հարթության մաս հանդիսացող ցանկացած հարթակ:
444. Ապացուցեք, որ ուռուցիկ քառանկյան անկյունագծերը հատվում են:
445. Ապացուցեք, որ ցանկացած ուռուցիկ քառանկյան որևէ երկու հանդիպակաց գագաթները գտնվում են մյուս երկու գագաթներով անցնող ուղղի տարբեր կողմերում:
446. AC հիմքով ABC հավասարասրուն եռանկյան մեջ տարված է AD կիսորդը: D կետով անցնում է AD -ին ուղղահայաց ուղիղ, որը E կետում հատում է AC ուղիղը: B և D կետերից AC ուղղին տարված ուղղահայացների հիմքերն են M -ը և K -ն: Գտեք MK -ն, եթե $AE = a$:
447. Ապացուցեք, որ եռանկյան երեք միջնագծերի գումարը փոքր է պարագծից, բայց մեծ է կիսապարագծից:
448. Ուռուցիկ քառանկյան անկյունագծերը այն տրոհում են չորս այնպիսի եռանկյունների, որոնց պարագծերը հավասար են: Ապացուցեք, որ այդ քառանկյունը շեղանկյուն է:
449. Գտեք այն հատվածների միջնակետերի բազմությունը, որոնք տրված կետը միացնում են այդ կետով չանցնող տրված ուղղի բոլոր կետերին:
450. Ապացուցեք, որ հավասարասրուն սեղանի հիմքերի միջնակետով անցնող ուղիղն ուղղահայաց է հիմքերին: Ձևակերպեք և ապացուցեք հակադարձ պնդումը:

451. Ուղղանկյան բոլոր անկյունների կիսորդները հատվելիս առաջանում է քառանկյուն: Ապացուցեք, որ այդ քառանկյունը քառակուսի է:
452. Զուգահեռագծի կողմերից յուրաքանչյուրի վրա՝ զուգահեռագծից դուրս, կառուցված է քառակուսի, և նշված է դրա անկյունագծերի հատման կետը: Ապացուցեք, որ այդ բոլոր կետերը քառակուսու գագաթներ են:
453. $ABCD$ քառակուսու CD կողմի վրա նշված է M կետը: BAM անկյան կիսորդը K կետում հատում է BC կողմը: Ապացուցեք, որ $AM = BK + DM$:
454. Նկար 100-ում պատկերված են երեք քառակուսի: Գտեք $\angle BAE + \angle CAE + \angle DAE$ գումարը:
455. $ABCD$ քառակուսու ներսում վերցված է M կետն այնպես, որ $\angle MAB = 60^\circ$, $\angle MCD = 15^\circ$: Գտեք $\angle MBC$ -ն:
456. ABC եռանկյան կողմերի վրա՝ եռանկյունից դուրս, կառուցված են $BCDE$, $ACTM$, $BAHK$ քառակուսիները, իսկ հետո՝ $TCDQ$ և $EBKP$ զուգահեռագծերը: Ապացուցեք, որ APQ -ն հավասարասրուն ուղղանկյուն եռանկյուն է:
457. Կառուցեք հավասարասրուն սեղան՝ ըստ հիմքերի և անկյունագծերի:
458. Ապացուցեք, որ եթե եռանկյունն ունի՝ ա) համաչափության առանցք, ապա այն հավասարասրուն է, բ) համաչափության մեկից ավելի առանցքներ, ապա այն հավասարակողմ է:
459. Ապացուցեք, որ եթե ուռուցիկ քառանկյան հանդիպակաց կողմերը զուգահեռ չեն, ապա նրանց կիսագումարը մեծ է մյուս երկու հանդիպակաց կողմերի միջնակետերը միացնող հատվածից:
460. Ապացուցեք, որ եթե ուռուցիկ քառանկյան հանդիպակաց կողմերի միջնակետերի հեռավորությունների գումարը հավասար է նրա կիսապարագծին, ապա այդ քառանկյունը զուգահեռագիծ է:
461. Ապացուցեք, որ եթե ուռուցիկ քառանկյան երկու հանդիպակաց կողմերի միջնակետերը միացնող հատվածը հավասար է մյուս երկու կողմերի կիսագումարին, ապա այդ քառանկյունը սեղան է կամ զուգահեռագիծ:



Նկ. 100



Նկ. 101

462. Երկու շրջանագծեր ունեն միակ ընդհանուր M կետ: Այդ կետով տարված են երկու հատողներ, որոնք շրջանագծերից մեկը հատում են A և A_1 կետերում, իսկ մյուսը՝ B և B_1 կետերում: Ապացուցեք, որ $AA_1 \parallel BB_1$:
463. B_1 և C_1 կետերը AB և AC աղեղների միջնակետերն են (նկ. 101): Ապացուցեք, որ $AM = AN$:
464. O_1 և O_2 կենտրոններով երկու շրջանագծերի հատման A կետով տարված է ուղիղ, որը շրջանագծերից մեկը հատում է B , իսկ մյուսը՝ C կետում: Ապացուցեք, որ BC հատվածը մեծագույն կլինի այն դեպքում, երբ այն զուգահեռ լինի O_1O_2 ուղղին:
465. AB հատվածը O կենտրոնով շրջանագծի տրամագիծ է: Շրջանագծի յուրաքանչյուր OM շառավիղի վրա O կետից տեղադրված է հատված, որի երկարությունը հավասար է M ծայրակետի և AB ուղղի միջև եղած հեռավորությանը: Գտեք այդ ձևով կառուցված հատվածների ծայրակետերի բազմությունը:
466. Դիցուք՝ ABC եռանկյան բարձրություններն ընդգրկող ուղիղների հատման կետը H -ն է, իսկ A' -ը, B' -ը, C' -ը կետեր են, որոնք BC , CA , AB ուղիղների նկատմամբ համաչափ են H կետին: Ապացուցեք, որ A' , B' , C' կետերը գտնվում են ABC եռանկյան արտագծյալ շրջանագծի վրա:
467. ABC եռանկյան B գագաթից տարված են BH բարձրությունը և B անկյան կիսորդը: Այդ կիսորդը E կետում հատում է եռանկյան արտագծյալ շրջանագիծը, որի կենտրոնը O -ն է: Ապացուցեք, որ BE ճանապարհը OBH անկյան կիսորդն է:
468. ABC հավասարակողմ եռանկյան արտագծյալ շրջանագծի կամայական X կետ հատվածներով միացված է եռանկյան գագաթներին: Ապացուցեք, որ AX , BX և CX հատվածներից մեկը հավասար է մյուս երկուսի գումարին:
469. Կառուցեք տրված երկու շրջանագծերի ընդհանուր շոշափողը:
470. Տրված են O կենտրոնով շրջանագիծը, M կետը և P_1Q_1 , P_2Q_2 հատվածները: Կառուցեք այնպիսի p ուղիղ, որ շրջանագիծը նրանից անջատի P_1Q_1 -ին հավասար լար, և M կետի հեռավորությունը p ուղիղից հավասար լինի P_2Q_2 -ին:

VII գլխի վերաբերյալ

471. $ABCD$ զուգահեռագծի ներսում գտնվող M կետով տարված են նրա կողմերին զուգահեռ ուղիղներ, որոնք AB , BC , CD և DA կողմերը հատում են, համապատասխանաբար, P , Q , R և T կետերում: Ապացուցեք, որ եթե M կետն ընկած է AC անկյունագծի վրա, ապա $MPBQ$ և $MRDT$ զուգահեռագծերի մակերեսները հավասար են, և հակադարձը՝ եթե $MPBQ$ և $MRDT$ զուգահեռագծերի մակերեսները հավասար են, ապա M կետն ընկած է AC անկյունագծի վրա:
472. $ABCD$ զուգահեռագծի AB , BC , CD և DA կողմերի միջնակետերն են, համապատասխանաբար, P , Q , R և T կետերը: Ապացուցեք, որ AQ , BR , CT և DP ուղիղների հատումից առաջանում է զուգահեռագիծ: Գտեք այդ և $ABCD$ զուգահեռագծերի մակերեսների հարաբերությունը:
473. Ապացուցեք, որ սեղանի մակերեսը հավասար է սրունքներից մեկի և այն ուղղահայացի արտադրյալին, որը մյուս սրունքի միջնակետից տարված է առաջին սրունքն ընդգրկող ուղիղին:
474. Սեղանի փոքր հիմքի ծայրակետերով տարված են երկու զուգահեռ ուղիղներ, որոնք հատում են մեծ հիմքը: Սեղանի անկյունագծերը և այդ ուղիղները տրոհում են սեղանը յոթ եռանկյան և մեկ հնգանկյան: Ապացուցեք, որ հնգանկյան մակերեսը հավասար է այն երեք եռանկյունների մակերեսների գումարին, որոնք հարակից են սրունքներին և փոքր հիմքին:
475. $ABCD$ զուգահեռագծի AB կողմը B կետից շարունակված է BE հատվածով, իսկ AD կողմը D կետից՝ DK հատվածով: ED և KB հատվածները հատվում են O կետում: Ապացուցեք, որ $ABOD$ և $CEOK$ քառանկյունների մակերեսները հավասար են:
476. $ABCD$ ուռուցիկ քառանկյան AB և CD կողմերի K և M միջնակետերը KD , KC , MA և MB հատվածներով միացված են քառանկյան զագաթներին: Ապացուցեք, որ այդ հատվածների միջև ընդգրկված քառանկյան մակերեսը հավասար է այն երկու եռանկյունների մակերեսների գումարին, որոնք հարակից են AD և BC կողմերին:

477. A կետն ընկած է 60° -ի անկյան ներսում: a -ն և b -ն A կետի հեռավորություններն են անկյան կողմերից: Գտեք A կետի հեռավորությունը անկյան գագաթից:
478. ABC եռանկյան AB կողմը A կետից շարունակված է AC -ին հավասար AD հատվածով: BA և BC ճառագայթների վրա վերցված են K և M կետերն այնպես, որ BDM և BCK եռանկյունների մակերեսները հավասար են: Գտեք BKM անկյունը, եթե $\angle BAC = \alpha$:
479. $ABCD$ ուղղանկյան ներսում վերցված է M կետը: Հայտնի է, որ $MB = a$, $MC = b$ և $MD = c$: Գտեք MA -ն:
480. Տարված է ABC եռանկյան BD բարձրությունը: KA հատվածն ուղղահայաց է AB -ին և հավասար է DC -ին, իսկ CM հատվածն ուղղահայաց է BC -ին և հավասար է AD -ին: Ապացուցեք, որ MB և KB հատվածները հավասար են:
481. C ուղիղ անկյունով ABC ուղղանկյուն եռանկյան ներսում վերցված է O կետն այնպես, որ $S_{OAB} = S_{OAC} = S_{OBC}$:
Ապացուցեք, որ $OA^2 + OB^2 = 5 \cdot OC^2$:
482. Ուղղանկյուն եռանկյան ներքնաձիգը այնպիսի քառակուսու կողմ է, որը չի ծածկում այդ եռանկյունը: Գտեք այդ քառակուսու անկյունագծերի հատման կետի հեռավորությունը եռանկյան ուղիղ անկյան գագաթից, եթե նրա էջերի գումարը a է:
483. EFG եռանկյան կողմերը համապատասխանաբար հավասար են ABC եռանկյան միջնագծերին:
Ապացուցեք, որ $\frac{S_{EFG}}{S_{ABC}} = \frac{3}{4}$:
484. Ապացուցեք, որ եթե ներգծյալ քառանկյան անկյունագծերը փոխուղղահայաց են, ապա քառանկյան հանդիպակաց կողմերի քառակուսիների գումարը հավասար է արտագծված շրջանագծի տրամագծի քառակուսուն:
485. Շրջանագծի ներսում տրված է մի կետ: Կառուցեք այդ կետով անցնող այն լարը, որն այդ կետով անցնող բոլոր լարերից փոքրագույնն է:

ՊԱՏԱՍԽԱՆՆԵՐ ԵՎ ՑՈՒՑՈՒՄՆԵՐ

ԳԼՈՒԽ V

2. ա) 540° , բ) 720° , գ) 1440° : 3. 90° : 4. 108° : 5. 5: 6. 100° , 100° , 100° , 60° : 7. 105° , 95° , 85° , 75° : 8. 30° , 60° , 120° , 150° : 9. 54° , 81° , 108° , 135° , 162° : 10. ա) Չորս, բ) երեք, գ) վեց, դ) հինգ: 11. 23 սմ, 20 սմ, 19 սմ, 18 սմ: 12. 15 սմ, 7 սմ, 23 սմ, 21 սմ: 13. 75° : 16. ա) 10,5 սմ, 13,5 սմ, բ) 8,5 սմ, 15,5 սմ, գ) 8 սմ, 16 սմ: 17. 13 սմ, 12 սմ, 13 սմ, 12 սմ: 18. 40° , 140° , 40° , 140° : 19. 10 սմ: 22. 60° , 120° , 60° , 120° : 23. 50° , 130° , 50° , 130° : 24. 78 սմ: 25. 56 սմ կամ 70 սմ: 26. ա) $\angle B = \angle D = 96^\circ$, $\angle C = 84^\circ$, բ) $\angle A = \angle C = 117^\circ 30'$, $\angle B = \angle D = 62^\circ 30'$, գ) $\angle A = \angle C = 71^\circ$, $\angle B = \angle D = 109^\circ$, դ) $\angle A = \angle C = 120^\circ$, $\angle B = \angle D = 60^\circ$, ե) $\angle A = \angle C = 53^\circ$, $\angle B = \angle D = 127^\circ$: 27. $MN = PQ = 6$ սմ, $NP = QM = 8$ սմ, $\angle M = \angle P = 60^\circ$, $\angle N = \angle Q = 120^\circ$: 29. Ցուցում: Նախ ապացուցել, որ $BK = DM$: 30. Ցուցում: Օգտվել կետ 5–ի 2° հայտանիշից: 31. Ցուցում: Օգտվել կետ 5–ի 3° հայտանիշից: 32. Ցուցում: Օգտվել կետ 5–ի 2° հայտանիշից: 33. 12 սմ: 36. 6 մ, 8 մ: 37. $m + n$: 40. 2 մ: 41. 70° , 110° , 110° , 70° : 42. 8 սմ, 12 սմ: 43. 16 սմ: 44. 24 սմ, 30 սմ: 45. 3 սմ, 4 սմ: 46. 2 սմ: 48. Ցուցում: Սալիկները կցել մեկը մյուսին այնպես, որ սրունքները հավեն, և մի սալիկի փոքր հիմքն ու մյուսի մեծ հիմքը գտնվեն մի ուղղի վրա: 49. 20 սմ: 50. ա) 6 սմ, բ) 5 սմ: 54. 20 սմ, 20 սմ: 55. ա) 198,1 սմ կամ 122,6 սմ, բ) 23,4 դմ կամ 19,8 դմ: 57. 18 սմ: 59. 40° : 60. 75° : 61. 40 սմ: 62. 60 սմ: 63. ա) 60° և 120° , բ) 30° և 60° : 64. 42 սմ: 65. $22^\circ 30'$ և $67^\circ 30'$: 67. 10 սմ: 68. 10 սմ: 69. 40 սմ: 70. 10 սմ: 72. ա) Ոչ, բ) ոչ, գ) այո: 74. ա) Երկու, բ) անվերջ բազմությամբ. այդ ուղիին ուղղահայաց ցանկացած ուղիղ, ինչպես նաև այդ ուղիղը, գ) մեկ: 78. ա) Այո, բ) ոչ, գ) այո, դ) այո: 83. Երեք: 91. 18, 12, 8: 92. ա) Ոչ, բ) ոչ, գ) այո: 93. ա) Այո, բ) այո, գ) այո: 94. ա) Վեցանկյուն բազմանկյուն, բ) ութանկյուն բազմանկյուն, գ) յոթանկյուն բազմանկյուն: 95. 4 սմ: 96. 96 սմ: 97. 6: 98. 8: 2–ը վեցանկյուն բուրգ, 6–ը քառանկյուն բուրգ: 99. 16, 9, 9: 100. ա) Տասներկուանկյուն բուրգ, բ) իննանկյուն բուրգ, գ) վեցանկյուն բուրգ: 101. ա) Այո, բ) ոչ: 102. 16 սմ: 105. Հատում է CD կողմը, 9 սմ և 5 սմ: 106. 3 սմ, 4 սմ, 3 սմ: 108. Ցուցում: Օգտվել 52 խնդրից: 109. Ցուցում: Օգտվել ուռուցիկ քառանկյան անկյունների գումարի վերաբերյալ թեորեմից և 15(բ) խնդրից: 111. Ցուցում: M կետով տանել BK ուղիին զուգահեռ ուղիղ և օգտ–

վել Թալեսի թեորեմից: 112. Ցուցում: Օգտվել Թալեսի թեորեմից: 113. Ցուցում: Սկզբում ապացուցել, որ $\triangle BKD = \triangle BMD$: 115. Ցուցում: Օգտվել եռանկյան միջին գծի հատկությունից: 116. 36,8 սմ: Ցուցում: Նկատել, որ AMC և ANC եռանկյունները հավասարասրուն են: 117. Ցուցում: Սկզբում ապացուցել, որ $\triangle ABH = \triangle AMH$: 118. 8 սմ: 119. Ցուցում: Փոքր հիմքի միջնակետով տանել սրունքներին զուգահեռներ և օգտվել «Ուղղանկյուն եռանկյան ներքնաձիգին տարված միջնագիծը հավասար է ներքնաձիգի կեսին» պնդումից: 121. Անվերջ բազմությամբ: 122*. Ցուցում: Դիցուք՝ a -ն և b -ն պատկերի համաչափության երկու փոխուղղահայաց առանցքներն են, և O -ն՝ դրանց հատման կետը: Սկզբում ապացուցել, որ եթե M և M_1 կետերը համաչափ են a ուղղի նկատմամբ, իսկ M_1 և M_2 կետերը՝ b ուղղի նկատմամբ, ապա M_1 -ը և M_2 -ը համաչափ են O կետի նկատմամբ: 123. 8: 124. ա) Ոչ, բ) այո, գ) ոչ:

ԳԼՈՒԽ VI

134. 90° : 135. 8 սմ: 137. 30° : 141. ա) $r = 5$, բ) $r < 5$, գ) $r > 5$: 142. ա) 3, բ) 3-ից մեծ: 143. 29 սմ: 145. 30° : 146. 30° , 30° , 120° : 147. Ցուցում: Սկզբում ապացուցել, որ $\angle ADC = 30^\circ$: 148. $\angle A = 30^\circ$, $\angle O = 60^\circ$, $\angle B = 90^\circ$: 149. 60° : 150. 60° : 155. ա) Ցուցում: ա) Սկզբում կառուցեք շրջանագծի կենտրոնով անցնող և տրված ուղղին ուղղահայաց ուղիղ: բ) O կենտրոնով տանել ուղղին զուգահեռ: 157. ա) 16 սմ, բ) 32 սմ: 159. 12 սմ: 161. ա) 64° , բ) 175° , գ) 34° , դ) 105° : 162. 60° և 30° կամ 140° և 110° : 163. 101° կամ 36° : 165. 50° : 166. 73° : 167. 98° : 168. 12 սմ: 169. 10 սմ: 170. 100° : 171. 20° : 172. 62° : 173. 30° , 60° , 90° : 174. $20^\circ 20'$, $34^\circ 50'$: 176. 36° : 177. 44° : 179. Ցուցում: Օգտվել 178 խնդրից: 183. Ցուցում: Նախ ապացուցել, որ AOB եռանկյունը հավասարասրուն է: 185. 10 սմ: 187. ա) 46° և 46° , բ) 21° և 21° : 188. ա) $AD = 3,5$ սմ, $CD = 5$ սմ, բ) $AC = 14,6$ սմ: 190. 9 սմ: 192. Ցուցում: Օգտվել հակասող ենթադրության մեթոդից: 196. Ցուցում: Օգտվել հատվածի միջնուղղահայացի վերաբերյալ թեորեմից: 197. Ցուցում: Հաշվի առնել, որ որոնելի կետը գտնվում է տրված անկյան կիսորդի և տրված հատվածի միջնուղղահայացի վրա: 202. 20 սմ: 203. 2 սմ: 205. 2 սմ: 206. 3 սմ: 207. 130° : 208. a : 209. 20 սմ: 210. 4 սմ, 12 սմ: 211. 4 սմ, 16 սմ, 10 սմ, 10 սմ: 212. 15 սմ: 213. 2 սմ:

217. ա) $\angle A = 67^\circ$, $\angle B = 23^\circ$, $\angle C = 90^\circ$, բ) $\angle A = 55^\circ$, $\angle B = 35^\circ$, $\angle C = 90^\circ$: 218. $\angle A = 51^\circ$, $\angle B = \angle C = 64^\circ 30'$: 222. Ցուցում: Օգտվել 47 (ա) խնդրից: 223. $\angle C = 76^\circ$, $\angle D = 109^\circ$: 224. ա) Ոչ, բ) այո, գ) այո, դ) այո: 236. ա) Այո, բ) ոչ: 237. բ), գ): 239. ա) 60° , բ) 108° , գ) 120° , դ) 144° , ե) 160° : 240. 360° : 241. ա) 3, բ) 4, գ) 8, դ) 12: 242. ա) 6, բ) 12, գ) 4, դ) 10, ե) 20, զ) 5: 243. ա) 10, բ) 15: 244. 3: 246. Ցուցում: Օգտվել նրանից, որ կանոնավոր բազմանկյան ցանկացած կողմի միջնուղղահայացն անցնում է արտագծած շրջանագծի կենտրոնով: 247. Ցուցում: Օգտվել նրանից, որ կանոնավոր բազմանկյան ցանկացած անկյան կիսորդն անցնում է ներգծած շրջանագծի կենտրոնով: 249. դ) Ցուցում: Օգտվել 35 կետի 2-րդ խնդրից: 251. 2:1: 252. 5 սմ: 253. 12 սմ: 256. 30 սմ: 257. 6 սմ, 12 սմ: 258. 10 սմ: 261. Շրջան: Ջուրը լցված է կեսի չափով: 262. 6 սմ: 263. ա) Ընդհանուր կետ չունեն, բ) ունեն ընդհանուր կետեր, գ) ունեն միայն մեկ ընդհանուր կետ, դ) ունեն ընդհանուր կետեր, ե) ընդհանուր կետ չունեն: 265. Ցուցում: Օգտվել 179 խնդրից: 266. Ցուցում: Նկատի ունենալ, որ $BM = MX$, $CN = NX$: 267*. Դիցուք՝ K -ն M կետով անցնող ընդհանուր շոշափողի և AB ուղղի հատման կետն է: Սկզբում ապացուցել, որ $KA = KM = KB$: 273. Ոչ: 277. Ցուցում: Օգտագործել այն կողմի միջնուղղահայացը, որին տարված է միջնագիծը: 279. Ցուցում: Օգտվել ներգծված քառանկյան անկյունների հատկությունից: 281. Ցուցում: Օգտվել 280 խնդրից: 282. Ցուցում: Օգտվել 280 խնդրից: 283. Ցուցում: Սկզբում ապացուցել, որ $MHBC$ քառանկյանը կարելի է արտագծել շրջանագծի: 284. Ցուցում: Օգտվել 274 խնդրից: 285. Ցուցում: Նախ կառուցել AB հատվածին միջնուղղահայաց, ապա՝ A կետով a ուղղին ուղղահայաց: 289. ա) 20, բ) 9, գ) 5, դ) 6: 290. 6,72 սմ: 291*. Ցուցում: Դիցուք՝ $ABCDEFGH$ -ը որոնելի ութանկյունն է, իսկ O -ն՝ արտագծյալ շրջանագծի կենտրոնը: Նախ կառուցել ABO եռանկյունը՝ նկատի ունենալով, որ AOB անկյունը 45° է: 292*. Ցուցում: Նախ շրջանագծին ներգծել կանոնավոր եռանկյուն և վեցանկյուն:

ԳԼՈՒԽ VII

296. Ցուցում: Դիցուք՝ O -ն AM և BC հատվածների հատման կետն է: Նախ ապացուցել ABO և MCO եռանկ-

յունների հավասարությունը: 297. Ցուցում: BC ուղղին տանել EF ուղղահայացը: Նախ ապացուցել ABM և EFM , DCN և EFN եռանկյունների հավասարությունը:

298. ա) $1,44$ սմ², բ) $\frac{9}{16}$ դմ², գ) $11\frac{1}{9}$ մ²: 299. ա) 4 սմ, բ) 5 դմ,

գ) $1,5$ մ: 300. ա) 2400 մմ², բ) $0,24$ դմ²: 301. ա) Կմեծանա

9 անգամ, բ) կփոքրանա 4 անգամ: 302. 6 անգամ:

303. ա) $27,2$ սմ², բ) $\frac{4}{5}$ սմ², գ) $1,375$ սմ,

դ) 27 սմ: 304. ա) Կմեծանա երկու անգամ, բ) կմեծանա

չորս անգամ, գ) չի փոփոխվի: 305. 48 սմ²: 306. 40 սմ:

307. $1\frac{19}{45}$ սմ: 308. 100 սմ²: 309. 60 սմ²: 310. 98 սմ²:

311. 2200 : 312. 360 : 313. Քառակուսու ձև ունեցող հողա-

մասի մակերեսը 25 մ²–ով մեծ է : 314. ա) 180 սմ², բ) 4 սմ,

գ) 18 սմ, դ) $a = 42$: 315. 156 սմ²: 316. 78 սմ²: 317. 18 սմ²:

318. $56,7$ սմ²: 319. ա) 10 սմ, բ) 4 սմ, գ) 12 սմ և 9 սմ:

320. 12 սմ²: 321. $30^\circ, 150^\circ, 30^\circ, 150^\circ$: 322. $45^\circ, 135^\circ, 45^\circ, 135^\circ$:

323. 20 սմ²: 324. 77 սմ²: 325. 80 սմ: 326. $115,52$ սմ²: 327. Քա-

ռակուսու մակերեսը մեծ է: 328. Ուղղանկյան մակերեսը

մեծ է: 329. ա) $38,5$ սմ², բ) $5,4$ սմ, գ) 4 սմ: 330. 8 սմ:

331. $5,625$ սմ: 332. ա) 22 սմ², բ) $1,8$ դմ²: 333. 98 սմ²: 334. $1:2$:

335. 8 սմ²: 336. 25 սմ²: 337. 24 սմ²: 338. Եռանկյունների

մակերեսները հավասար են: 339. $3:2$: 340. $6:1$: 341. Ցու-

ցում: Սկզբում BC կողմը բաժանել չորս հավասար մա-

սերի: 342. ա) 224 սմ², բ) $4,6$ դմ²: Ցուցում: Հաշվի առ-

նել, որ շեղանկյան անկյունագծերը փոխուղղահայաց են:

343. 54 մ: 345. ա) 133 սմ², բ) 24 սմ², գ) 72 սմ²: 346. 54 սմ²:

347. 5 սմ: 348. 4 սմ: 349. 54 սմ²: 350. $4,76$ սմ²: 351. 24 սմ²:

Ոչ: 352. ա) $26,46$ սմ², բ) $73,5$ մ²: 353. ա) 4 սմ², բ) 25 դմ²:

354. ա) 16 անգամ, բ) 4 անգամ: 355. Մեծացավ:

356. ա) 42 սմ², բ) 208 սմ², գ) 292 սմ²: 357. 132 սմ², 204 սմ²:

358. $3,5$ սմ, 240 սմ²: 359. 48 սմ²: 360. 10 սմ: 362. ա) 24 մ²,

60 մ²: 363. 6 փաթեթ: 364. 8000 : 365. 7 սմ \times 42 սմ

կամ 14 սմ \times 21 սմ: 366. ա) 10 , բ) 13 , գ) $\frac{5}{7}$, դ) 2 :

367. ա) 5 , բ) 12 , գ) 1 , դ) $2\sqrt{3}$:

368. $\frac{c\sqrt{3}}{2}$: 369. ա) 12, բ) 2, գ) 8: 370. 15 սմ:

371. ա) $3\sqrt{3}$ սմ, բ) $\frac{8\sqrt{3}}{3}$ սմ: 372. $10\sqrt{2}$ սմ: 373. ա) $4\sqrt{3}$ սմ²,

բ) $0,36\sqrt{3}$ սմ², գ) $2\sqrt{3}$ սմ²: 374. ա) 10 սմ և 48 սմ²,

բ) $6\sqrt{3}$ սմ և $27\sqrt{3}$ սմ², գ) $7\sqrt{2}$ սմ և 49 սմ²: 375. ա) $4\frac{8}{13}$,

բ) 9,6: 376. 8 սմ, 9,6 սմ, 9,6 սմ: 377. 13 սմ և 120 սմ²:

378. 96 սմ² և 16 սմ: 379. ա) 180 սմ², բ) $48\sqrt{3}$ սմ², գ) 135 սմ²:

380. 162 սմ²: 381. $\sqrt{7}$: 382. 5 սմ: 383. ա) Այո, բ) ոչ, գ) այո,

դ) այո, ե) ոչ, գ) ոչ, է) այո: 384. ա) 6,72 սմ, բ) $7\frac{1}{17}$ սմ:

385. 25 սմ: 386. ա) 45°, 45°, 90°, բ) 30°, 60°, 90°: 387. 300 սմ²:

388. 105°: 391. ա) $\frac{\sqrt{3}}{2}$ և $\sqrt{3}$, բ) $\frac{\sqrt{5}}{3}$ և $\frac{\sqrt{5}}{2}$, գ) $\frac{1}{2}$ և $\sqrt{3}$,

դ) $\frac{\sqrt{15}}{4}$ և $\frac{\sqrt{15}}{15}$: 392. ա) $\frac{b}{\sin\beta}$, $\frac{b}{\operatorname{tg}\beta}$ 90°-β, բ) $\approx 13,05$ սմ,

$\approx 8,39$ սմ, 40°: 394. ա) Ոչ, բ) այո: 396. 90°-α, $c \cdot \sin\alpha$,

$c \cdot \cos\alpha$: 55°, ≈ 14 սմ, ≈ 20 սմ: 397. ա) $\frac{b}{2\cos\alpha}$, բ) $\frac{b\operatorname{tg}\alpha}{2}$:

398. $b\sin\alpha$: 400. $60 + 8\sqrt{3} \approx 74$ մ: 401. 60°, 120°, 60° և 120°:

402. 60° և 30°: 403. $144 \sin 48^\circ \cos 48^\circ \approx 71,6$ սմ²:

404. $60 \sin 34^\circ \approx 33,6$, $60 \cos 34^\circ \approx 49,7$: 406. ա) 270000 մ²,

բ) 0,27 կմ²: 407. $46\frac{2}{3}$ սմ²: 408. 20 սմ: 409. 900 սմ²:

410. Ցուցում: Օգտվել այն բանից, որ ուղղահայացը փոքր է թեքից: 411. Ցուցում: ABCD քառակուսու BC և DC կողմն-

րի վրա վերցնել M և N կետերն այնպես, որ

$BM = \frac{2}{3} BC$, $DN = \frac{2}{3} DC$, և տանել AM և AN ուղիղները:

412*. Ոչ: Ցուցում: Համեմատել, օրինակ՝ 13, 13, 24 և 12, 12,

12 կողմերով եռանկյունների մակերեսները: 413*. Ցուցում:

Միացնել հիմքի վրա գտնվող կետը հիմքին հանդիպա-

կաց գագաթին և օգտվել նրանից, որ ստացված երկու

եռանկյունների մակերեսների գումարը հավասար է տր-

ված եռանկյան մակերեսին: 414. Ցուցում: Խնդիրը լուծվում է 413* խնդրին համանման: 415*. Ցուցում: Ապացուցել, որ յուրաքանչյուր եռանկյան մակերեսը հավասար է $AEDF$ զուգահեռագծի մակերեսի կեսին: 416. ա) և բ) եռանկյունների մակերեսները հավասար են: գ) Ցուցում: Օգտվել բ) խնդրից և 43 կետի 2-րդ թեորեմից: 417. 60 մ, 14,4 մ: 418. $10\frac{10}{17}$ սմ: 419. ա) $100\sqrt{3}$ սմ², բ) 18 սմ²: 420. 320 սմ²: 421. 84 սմ²: Ցուցում: Սկզբում ապացուցել, որ ABC -ն և ACD -ն ուղղանկյուն եռանկյուններ են: 422. ա) 243 սմ², բ) 529 սմ²: 423. h^2 : 424. a^2 : 426. 48 սմ²: 427. $(\sqrt{2}-1)a^2$: 428. $3a^2$: 429. $4\sqrt{3}a^2$: 430. $22a^2$: 431. $BE = \frac{b}{2}$, $AD = \frac{b}{2}\sqrt{2+\sqrt{3}}$, $AE = \frac{b}{2}\sqrt{3}$, $EC = \frac{b}{2}(2-\sqrt{3})$, $BC = b\sqrt{2-\sqrt{3}}$: 433. 2,61: 434. 5,53 դմ²: 435. ա) 3,34 սմ, բ) 3,3 սմ: 436. 3,40 մ: 437*. ա) Այո, $S = (4 \pm 1)\text{սմ}^2$, բ) այո, $S = (8 \pm 1)\text{սմ}^2$, գ) ոչ, քանի որ $39,05 \text{ սմ}^2 \leq S \leq 41,61\text{սմ}^2$: 438. 8,13 սմ: 439. ա) 106 սմ, բ) 105,6 սմ: 440*. ա) Ոչ, քանի որ $5,80 \text{ սմ} \leq c \leq 6,08 \text{ սմ}$, բ) այո, $c = (5,9 \pm 0,2) \text{ սմ}$:

ԴԺՎԱՐԻՆ ԽՆԴԻՐՆԵՐ

V գլխի վերաբերյալ

441. Ցուցում: Մեկընդմեջ վեցանկյան կողմերը շա-
րունակելով՝ ստանալ հավասարակողմ եռանկյուն:

442. Ցուցում: Նախ ապացուցել, որ $a_1 + a_2 + a_3 = a_3 + a_4 + a_5 =$
 $= a_5 + a_6 + a_1$: Այնուհետև կառուցել հավասարակողմ
եռանկյուն, որի կողմը հավասար է $a_1 + a_2 + a_3$, և օգտվել

441 խնդրից: 443. Ցուցում: Դիտարկել ինչպես ուռուցիկ,
այնպես էլ ոչ ուռուցիկ քառանկյունների դեպքը. նրան-
ցից չորս փայտասալիկով պատրաստել նոր սալիկ:

444. Ցուցում: Դիցուք՝ $ABCD$ -ն ուռուցիկ քառանկյուն է: Նկա-
տի ունենալ, որ C գագաթը գտնվում է BAD անկյան ներ-
սում, այդ իսկ պատճառով AC ճառագայթն անցնում է այդ
անկյան միջով և, հետևաբար, հատում է BD ճառագայթը:
Նմանապես դիտարկել BD ճառագայթը և ABC անկյունը:

445. Ցուցում: Եթե տրված $ABCD$ քառանկյունը ուռուցիկ է,
ապա օգտվել 444 խնդրից: Եթե $ABCD$ -ն ուռուցիկ չէ, և,
օրինակ, AB ուղիղը հատում է CD կողմը M կետում, ապա
դիտարկել երկու դեպք. A -ն MB հատվածի կետ է, և B -ն AM
հատվածի կետ է: 446. $\frac{a}{4}$: Ցուցում: Դիցուք՝ P -ն DE և AB

ուղիղների հատման կետն է, $DO \parallel AC$ և $O \in AB$: Նախ
ապացուցել, որ APE -ն, AOD -ն և POD -ն հավասարա-
րուն եռանկյուններ են: 447. Ցուցում: Նախ ապացուցել

$m_a < \frac{b+c}{2}$ և $m_a > \frac{a+b-c}{2}$ անհավասարությունները,

որտեղ a -ն, b -ն, c -ն եռանկյան կողմերն են, m_a -ն՝ a կող-
մին տարված միջնագիծը: 448. Ցուցում: Սկզբում ապա-
ցուցել, որ տրված քառանկյան անկյունագծերը հատման
կետով կիսվում են: 449. Տրված ուղղին զուգահեռ ուղիղ:

450. Ցուցում: Փոքր հիմքի միջնակետով տանել սրունք-
ներին զուգահեռ ուղիղներ: 451. Ցուցում: Նկատել, որ

կիսորդների հատման կետերը ուղղանկյան գագաթնե-
րին միացնող հատվածներով ստացվում են ուղղանկյուն
եռանկյուններ: 452. Ցուցում: Դիցուք՝ O_1 -ը, O_2 -ը, O_3 -ը,
 O_4 -ը $ABCD$ զուգահեռագծի AB , BC , CD և DA կողմերի վրա
կառուցված քառակուսիների անկյունագծերի հատման

կետերն են: Սկզբում ապացուցել AO_1O_4 , BO_1O_2 , CO_2O_3 , DO_3O_4 եռանկյունների հավասարությունը: 453. Ցուցում: AB ճառագայթի վրա անջատել AM հատվածին հավասար AN հատվածը, տանել MN հատվածը և AMN եռանկյան NS բարձրությունը: Այնուհետև ապացուցել, որ $\triangle ANS = \triangle MAD$ և $\triangle AKB = \triangle NMS$: 454. 90° : Ցուցում: Դիցուք՝ D_1 կետը համաչափ է D կետին E կետի նկատմամբ: Սկզբում ապացուցել, որ $\triangle ACD_1$ -ը հավասարասրուն ուղղանկյուն եռանկյուն է: 455. 30° : Ցուցում: AM ճառագայթի վրա անջատել $AK = AB$ հատվածը և դիտարկելով BKC եռանկյունը՝ ապացուցել, որ K կետը համընկնում է M կետին: 456. Ցուցում: Նախ ապացուցել, որ $\triangle BKP = \triangle ABC = \triangle CQT$: 457. Ցուցում: Նախ կառուցել հավասարասրուն եռանկյուն, որի հիմքը հավասար է սեղանի հիմքերի գումարին, իսկ սրունքը՝ սեղանի անկյունագծին: 458. ա) Ցուցում: Նախ ապացուցել, որ համաչափության առանցքը հատում է եռանկյան կողմերից մեկը: 459. Ցուցում: Դիցուք՝ MN -ը տրված $ABCD$ ուռուցիկ քառանկյան AD և BC կողմերի միջնակետերը միացնող հատվածն է: Նշել N կետի նկատմամբ D կետի համաչափ D_1 կետը և դիտարկել ABD_1 եռանկյունը: 460. Ցուցում: Օգտվել 459 խնդրից: 461. Ցուցում: Օգտվել 459 խնդրից:

VI գլխի վերաբերյալ

462. Ցուցում: Օգտագործել տրված շրջանագծերի M կետով տարված ընդհանուր շոշափողը: 464. Ցուցում: O_1 և O_2 կետերից BC ուղղին տանել O_1H_1 և O_2H_2 ուղղահայացները և O_1H_1 ու O_2H_2 զուգահեռ ուղիղների միջև եղած հեռավորությունը համեմատել O_1O_2 հատվածի երկարության հետ: 465. Դիցուք՝ CD -ն շրջանագծի AB տրամագծին ուղղահայաց տրամագիծ է: Որոնելի կետերի բազմությունը բաղկացած է OC և OD հատվածների՝ որպես տրամագծերի վրա կառուցված երկու շրջանագծերից: 466. Ցուցում: A' կետի արտագծյալ շրջանագծի վրա գտնվելը ապացուցելու համար նախ հիմնավորել՝ $\angle A'CB = \angle BAA'$: 467. Ցուցում: Նախ ապացուցել, որ OE -ն AC հատվածի միջնուղղահայացն է: 468. Ցուցում: Դիցուք՝ $XC > XA$ և $XC > XB$: XC հատվածի վրա տեղադրել XA

հատվածին հավասար XD հատվածը: Հաշվի առնել, որ $\angle AXC = 60^\circ$, և ապացուցել AXB և ADC եռանկյունների հավասարությունը: 470. Ցուցում: Նախ կառուցել P_2Q_2 շառավիղով ու M կենտրոնով և O կենտրոնով OA շառավիղով երկու շրջանագիծ, որտեղ A -ն տրված շրջանագծի P_1Q_1 հատվածին հավասար որևէ լարի միջնակետն է: Այնուհետև օգտվել 469 խնդրից:

VII գլխի վերաբերյալ

471. Ցուցում: Օգտվել ABC և ADC , APM և ATM , MQC և MRC եռանկյունների հավասարությունից: Հակադարձ պնդումն ապացուցելու համար ենթադրել, որ M կետը գտնվում է AC -ի վրա, և ապացուցել, որ այդ դեպքում զուգահեռագծերի մակերեսները հավասար չեն:

472. $\frac{1}{5}$: 473. Ցուցում: Դիցուք՝ MN -ը CD կողմի միջնակե-

տով AB -ին տարված ուղղահայացն է, իսկ MP -ն՝ միջին գիծը: B կետով տանել AD -ին ուղղահայաց, դիտարկել MP և AB ներքնաձիգներով եռանկյունները և օգտվել հավասար անկյուն ունեցող եռանկյունների մակերեսների հարաբերության մասին թեորեմից:

474. Ցուցում: Նախ ապացուցել, որ զուգահեռագծի մակերեսը, որի կողմը սեղանի փոքր հիմքն է, հավասար է այն երկու եռանկյունների մակերեսների գումարին, որոնք հարակից են այդ հիմքին և սեղանի սրունքներին: 475. Ցուցում: Նախ ապացուցել, որ $S_{ABD} = S_{EDC}$ և $S_{BDK} = S_{CDK}$: 476. Ցուցում: Ապացուցել, որ $S_{AKCM} =$

$= S_{KBMD} = \frac{1}{2} S_{ABCD}$: 477. $2\sqrt{\frac{a^2 + ab + b^2}{3}}$: Ցուցում: Դիցուք՝

AB -ն և AD -ն տրված անկյան կողմերը պարունակող ուղիղներին ուղղահայացներն են, իսկ C -ն AB և OD ուղիղների հատման կետն է: Դիտարկել ADC և OBC ուղղանկյուն եռանկյունները: 478. $\frac{\alpha}{2}$: Ցուցում: Նախ ապացուցել,

որ DCK և DCM եռանկյունների մակերեսները հավասար են, որից կհետևի $KM \parallel DC$ և $\angle BKM = \angle BDC$:

479. $\sqrt{a^2 + c^2 - b^2}$: Ցուցում: M կետով տանել ուղղանկ-

յան կողմերին զուգահեռ ուղիղներ և դիտարկել առաջացած ուղղանկյուն եռանկյունները: 480. Ցուցում: Դիցուք՝ $AB = c$, $BC = a$, $BD = h$: Օգտագործելով Պյութագորասի թեորեմը՝ ապացուցել, որ $MB = \sqrt{a^2 + c^2 - h^2}$ և $KB = \sqrt{a^2 + c^2 - h^2}$: 481. Ցուցում: AC և CB կողմերին տանել OM և ON ուղղահայացները և ապացուցել, որ $OM = \frac{1}{3} CB$, $ON = \frac{1}{3} AC$: Այնուհետև օգտվել Պյութագորասի թեորեմից AOM , BON և COM եռանկյունների համար: 482. $\frac{a}{\sqrt{2}}$: Ցուցում: Դիցուք՝

ABC -ն տրված եռանկյունն է, իսկ D -ն այն քառակուսու անկյունագծերի հատման կետն է, որը կառուցված է BC ներքնաձիգի վրա: CA ճառագայթի շարունակության վրա նշել E կետն այնպես, որ $AE = CB$, և E -ն միացնել D կետին: Ցույց տալ, որ $\triangle EAD = \triangle DCB$: 483. Ցուցում: ABC եռանկյան միջնագծերից մեկի ծայրակետերից տանել մյուս միջնագծերին զուգահեռներ և օգտվել նրանից, որ առաջացած եռանկյունը հավասար է EFG եռանկյանը: 484. Ցուցում: Դիցուք՝ $ABCD$ -ն տրված քառանկյունն է: Տանել BB_1 տրամագիծը և նախ ապացուցել, որ $AB_1 = CD$: 485. Ցուցում: Նախ ապացուցել, որ փոքրագույնը այն լարն է, որն ուղղահայաց է տրված կետով անցնող տրամագծին:

Թարգմանչի կողմից կատարված լրացումներ

- Թեմաներ՝ զլուխ V-ի կետեր՝ 12, 13, 14, 15, 16
 զլուխ VI-ի կետեր՝ 29, 30, 31, 36, 37, 38
 զլուխ VII-ի կետեր՝ 45, 46
 Խնդիրներ՝ 4-9, 14, 18-23, 33, 35-42, 44-46, 48-50, 53, 54, 59-62, 67-71, 80-82, 86-103, 123-138, 141-143, 148, 153, 164, 169-171, 173, 181, 198-201, 203-216, 220, 223-235, 251-264, 287, 288, 301, 302, 305-310, 313, 321-325, 333-337, 339-341, 343, 345-348, 351-365, 380, 385-388, 428-430

ԲՈՎԱՆ ԴԱԿՈՒԹՅՈՒՆ

ԳԼՈՒԽ V. Քառանկյուններ

§ 1. ԲԱԶՄԱՆԿՅՈՒՆՆԵՐ	3
1. Բազմանկյուն	3
2. Ուռուցիկ բազմանկյուն	4
3. Քառանկյուն	4
Հարցեր և խնդիրներ	5
§ 2. ԶՈՒԳԱՇԵՌԱԳԻԾ	6
4. Զուգահեռագիծ	6
5. Զուգահեռագծի հայտանիշները	7
Խնդիրներ	8
§ 3. ԹԱԼԵՍԻ ԹԵՈՐԵՄԸ: ՍԵՂԱՆ	10
6. Եռանկյան միջին գիծը	10
7. Թալեսի թեորեմը	11
8. Սեղան	12
Խնդիրներ	13
§ 4. ՈՒՂՂԱՆԿՅՈՒՆ, ՇԵՂԱՆԿՅՈՒՆ, ՔԱՌԱԿՈՒՍԻ	15
9. Ուղղանկյուն	15
10. Շեղանկյուն և քառակուսի	15
11. Առանցքային և կենտրոնային համաչափություններ	16
Հարցեր և խնդիրներ	18
Կառուցման խնդիրների լուծումը	21
Կառուցման խնդիրներ	22
§ 5. ՊԱՏԿԵՐԱՅՈՒՄ ԲԱԶՄԱՆԻՍՏԵՐԻ ՄԱՍԻՆ	24
12. Տարածական պատկերներ	24
13. Զուգահեռանիստ	25
14. Ուղղանկյունանիստ և խորանարդ	26
15. Պրիզմա (հատվածակողմ)	26
16. Բուրգ	27
Հարցեր և խնդիրներ	28
Գլուխ V-ի կրկնության հարցեր	30
Լրացուցիչ խնդիրներ	32

ԳԼՈՒԽ VI. Շրջանագիծ

§ 1. ԼԱՐԻ ՄԻՋՆԱԿԵՏՈՎ ԱՆՑՆՈՂ ՇԱՌԱՎԻՂԸ	35
17. Երկու կետերով անցնող շրջանագիծ	35
18. Լարի միջնակետով անցնող շառավիղը	36
19. Շրջանագծի որոշումը երեք կետերով	37
Խնդիրներ	38
§ 2. ՇՐՋԱՆԱԳԾԻ ՇՈՇԱՓՈՂ	40
20. Շրջանագծի և ուղղի փոխադարձ դասավորությունը	40
21. Շրջանագծի շոշափող	41
Խնդիրներ	43

§ 3. ԿԵՆՏՐՈՆԱՅԻՆ ԵՎ ՆԵՐԳԾՅԱԼ

ԱՆԿՅՈՒՆՆԵՐ	46
22. Շրջանագծի աղեղի աստիճանային չափը	46
23. Թեորեմ ներգծյալ անկյան մասին	47
Խնդիրներ.....	48

§ 4. ԵՌԱՆԿՅԱՆ ՉՈՐՍ ՆՇԱՆԱՎՈՐ ԿԵՏԵՐԸ.....52

24. Անկյան կիսորդի և հատվածի միջնուղղահայացի հատկությունները	52
25. Թեորեմ եռանկյան բարձրությունների հատման կետի մասին.....	54
26. Եռանկյան միջնագծերի հատման կետը.....	54
Խնդիրներ	55

§ 5. ՆԵՐԳԾՅԱԼ ԵՎ ԱՐՏԱԳԾՅԱԼ

ՇՐՋԱՆԱԳԾԵՐ	58
27. Ներգծյալ շրջանագիծ	58
28. Արտագծյալ շրջանագիծ	59
Խնդիրներ	61

§ 6. ԿԵՏԵՐԻ ԵՐԿՐԱԶԱՓԱԿԱՆ ՏԵՂԸ.....64

29. Երկու շրջանագծերի փոխադարձ դասավորությունը.....	64
30. Կետերի երկրաչափական տեղը.....	66
31. Պատկերացում էլիպսի մասին	68
Խնդիրներ.....	69

§ 7. ԿԱՆՈՆԱՎՈՐ ԲԱԶՄԱՆԿՅՈՒՆՆԵՐ.....71

32. Կանոնավոր բազմանկյուն.....	71
33. Կանոնավոր բազմանկյանը արտագծած շրջանագիծ.....	71
34. Կանոնավոր բազմանկյանը ներգծած շրջանագիծ	72
35. Կանոնավոր բազմանկյունների կառուցումը	74
Հարցեր և խնդիրներ.....	75

§ 8. ՊԱՏԿԵՐԱՑՈՒՄ ԳԼԱՆԻ, ԿՈՆԻ

ԵՎ ԳՆԴԻ ՄԱՍԻՆ	77
36. Պատկերացում գլանի մասին	77
37. Պատկերացում կոնի մասին	78
38. Պատկերացում գնդի մասին	79
Հարցեր և խնդիրներ	80

Գլուխ VI-ի կրկնության հարցեր.....83**Լրացուցիչ խնդիրներ**.....85**ԳԼՈՒԽ VII. Մակերես****§ 1. ԲԱԶՄԱՆԿՅԱՆ ՄԱԿԵՐԵՍԸ**.....91

39. Բազմանկյան մակերեսի հասկացությունը	91
40.* Քառակուսու մակերեսը	94
41. Ուղղանկյան մակերեսը	96
Հարցեր և խնդիրներ.....	96

§ 2. ԶՈՒԳԱՏԵՌԱԳԾԻ, ԵՌԱՆԿՅԱՆ	
ԵՎ ՍԵՂԱՆԻ ՄԱԿԵՐԵՄՆԵՐԸ	99
42. Զուգահեռագծի մակերեսը	99
43. Եռանկյան մակերեսը	100
44. Սեղանի մակերեսը	101
Խնդիրներ	102
 § 3. ԽՈՐԱՆԱՐԴԻ ԵՎ ՈՒՂՂԱՆԿՅՈՒՆԱՆԻՍՏԻ	
ՄԱԿԵՐԵՎՈՒՅԹՆԵՐԻ ՄԱԿԵՐԵՄՆԵՐԸ	106
45. Խորանարդի մակերևույթի մակերեսը	106
46. Ուղղանկյունանիստի մակերևույթի մակերեսը ...	107
Հարցեր և խնդիրներ	108
 § 4. ՊՅՈՒԹԱԳՈՐԱՄԻ ԹԵՈՐԵՄԸ	110
47. Պյութագորասի թեորեմը	110
48. Պյութագորասի թեորեմի հակադարձ թեորեմը	111
Խնդիրներ	112
 § 5. ԱՌՆՁՈՒԹՅՈՒՆՆԵՐ ՈՒՂՂԱՆԿՅՈՒՆ	
ԵՌԱՆԿՅԱՆ ԿՈՂՄԵՐԻ ԵՎ	
ԱՆԿՅՈՒՆՆԵՐԻ ՄԻՋԵՎ	115
49. Ուղղանկյուն եռանկյան սուր	
անկյան սինուսը, կոսինուսը և տանգենսը	115
50. Սինուսի, կոսինուսի և տանգենսի	
արժեքները 30°, 45° և 60° անկյունների	
համար	117
51. Առնչություններ ուղղանկյուն եռանկյան	
կողմերի և անկյունների միջև	118
Հարցեր և խնդիրներ	119
 Գլուխ VII–ի կրկնության հարցեր	121
Լրացուցիչ խնդիրներ	122
Հաշվարկիչի օգնությամբ լուծելու խնդիրներ	125
 ԴԺՎԱՐԻՆ ԽՆԴԻՐՆԵՐ	126
V գլխի վերաբերյալ	126
VI գլխի վերաբերյալ	128
VII գլխի վերաբերյալ	129
 ՊԱՏԱՍԽԱՆՆԵՐ ԵՎ ՑՈՒՑՈՒՄՆԵՐ	131

Լևոն Սերգեյի Աթանասյան, Վալենտին Ֆյոդորի Բուտուզով,
Սերգեյ Բորիսի Կադոմցև, Էդուարդ Հենրիկի Պոզնյակ,
Իրինա Իգորի Յուդինա

ԵՐԿՐԱՉԱՓՈՒԹՅՈՒՆ

Դասագիրք հանրակրթական
դպրոցի 8-րդ դասարանի համար

Թարգմանությունը՝ Սարիբեկ Էլիբեկի Հակոբյանի

Левон Сергеевич Атанасян, Валентин Федорович Бутузов,
Сергей Борисович Кадомцев, Эдуард Генрихович Позняк,
Ирина Игоревна Юдина

ГЕОМЕТРИЯ

Учебник для 8-го класса
(на армянском языке)
Ереван “Зангак” 2012

Перевод: Сарибек Алибековича Акопяна

Հրատարակչության տնօրեն՝
Գեղարվեստական խմբագիր՝
Վերստուգող սրբագրիչ՝
Համակարգչային ձևավորող՝
Համակարգչային մուտքագրող՝

Էմիլ Մկրտչյան
Արա Բաղդասարյան
Նվարդ Փարսադանյան
Արևիկ Հակոբյան
Գոհար Խաչատրյան

Տպագրությունը՝ օֆսեթ: Չափսը՝ 70x100 1/16:
Թուղթը՝ օֆսեթ: Տառատեսակը՝ «Մաշտոց Նոր»:
Ծավալը՝ 9 տպ. մամուլ, 11,7 պալմ. մամուլ, 31,6 հրատ. մամուլ:
Տպաքանակը՝ 35 750 օրինակ: Պատվեր՝ N04/Հ-12

Печать офсетная. Формат 70x100 1/16.
Бумага офсетная. Гарнитура “Маштоц Нор”.
Печ. л. 9. Усл. л. 11,7. Уч.-изд. л. 31,6.
Тираж 35 750 экземпляров. Заказ N04/Հ-12.



ԶԱՆԳԱԿ
ՀՐԱՏԱՐԱՎՈՒԹՅՈՒՆ

ՀՀ, 0051, Երևան, Կոմիտասի պող. 49/2, հեռ.՝ (+37410) 23 25 28
Ֆաքս՝ (+37410) 23 25 95, էլ. փոստ՝ info@zangak.am
Էլ. կայքեր՝ www.zangak.am, www.book.am, www.dasagirq.am

ИЗДАТЕЛЬСТВО «ЗАНГАК»
РА, 0051, Ереван, пр. Комитаса 49/2, тел.: (+37410) 23 25 28
Факс: (+37410) 23 25 95, эл. почта: info@zangak.am
Эл. сайты: www.zangak.am , www.book.am, www.dasagirq.am